



GOVT. OF NCT OF DELHI  
Delhi Subordinate Services Selection Board  
FC-18, Institutional Area, Karkardooma, Delhi – 110092.  
[www.dsssb.delhigovt.nic.in](http://www.dsssb.delhigovt.nic.in)

Section : Mental Ability

Q.1 नीचे दिए गए प्रश्न में कुछ कथन और उनके बाद उन कथनों पर आधारित कुछ निष्कर्ष दिए गए हैं। दिए गए कथनों को सही माने, चाहे उनमें सामान्य ज्ञात तथ्यों से भिन्नता हो। सभी निष्कर्ष पढ़ें और फिर निर्धारित करें कि दिए गए कौन से निष्कर्ष, दिए गए कथनों के आधार पर युक्तिसंगत हैं।

कथन:

I. कुछ A, T हैं।

II. सभी T, R हैं।

निष्कर्ष:

I. कुछ R, A हैं।

II. कुछ T, R हैं।

- Ans  A. दोनों निष्कर्ष I तथा II अनुसरण करते हैं  
 B. कोई भी निष्कर्ष अनुसरण नहीं करता है  
 C. केवल निष्कर्ष II अनुसरण करता है  
 D. केवल निष्कर्ष I अनुसरण करता है

Question ID : 1034352638

Q.2 4 सें.मी. भुजा वाले घन को उसकी सभी फलकों पर हरे रंग से रंगा गया है तथा फिर प्रत्येक 2 सें.मी. भुजा वाले छोटे घनों में विभाजित किया गया है। कितने छोटे घन प्राप्त हुए हैं?

- Ans  A. 27  
 B. 4  
 C. 64  
 D. 8

Question ID : 1034352647

Q.3 एक अनुक्रम दिया गया है, जिसमें से एक पद गलत है। दिए गए विकल्पों में से उस गलत पद को चुनिए।

PC81, SG130, VK179, YO228, BS277, EX326

- Ans  A. BS277  
 B. PC81  
 C. EX326  
 D. VK179

Question ID : 1034352630

Q.4 प्रकाश पूर्व की ओर 50 मीटर चलता है। वह बायीं ओर मुड़ता है तथा 30 मीटर चलता है। वह दायीं ओर मुड़ता है तथा 40 मीटर चलता है। वह बायीं ओर 135 डिग्री के कोण पर मुड़ता है तथा 20 मीटर चलता है। वह बायीं ओर मुड़ता है तथा 10 मीटर चलता है। अतः वह दायीं ओर 45 डिग्री के कोण पर मुड़ता है तथा 50 मीटर चलता है। निम्नलिखित में से कौन सा कथन सही है?

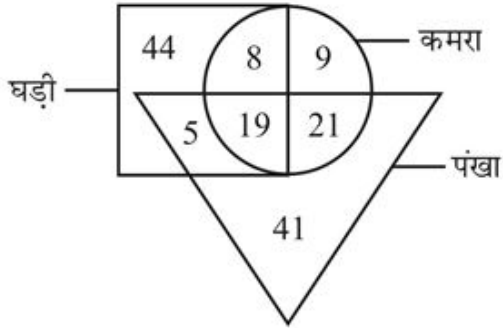
- I. तीसरे मोड़ के बाद, प्रकाश का मुख उत्तर-पूर्व की ओर होगा।  
II. पांचवे मोड़ के बाद, प्रकाश का मुख दक्षिण की ओर होगा।

- Ans  A. केवल I  
 B. ना ही I ना ही II  
 C. I तथा II दोनों  
 D. केवल II

Question ID : 1034352645

Q.5 दिए गए वेन आरेख के आधार पर, निम्नलिखित में से कौन सा/से कथन सही है/हैं?

- I. कमरों की कुल संख्या 57 है।  
II. वह घड़ियाँ जो पंखे हैं, की संख्या 19 है।



- Ans  A. ना ही I ना ही II  
 B. I तथा II दोनों  
 C. केवल I  
 D. केवल II

Question ID : 1034352643

Q.6 चार पुरुष M1, M2, M3 तथा M4 तथा चार महिला W1, W2, W3 तथा W4 में से पांच सदस्यों की एक टीम चुनी जानी है। M2 तथा W3 को एक साथ नहीं चुना जा सकता है। M4 तथा W4 को एक साथ नहीं चुना जा सकता है। W1 के साथ ना ही M3 ना ही W3 को चुना जा सकता है। निम्नलिखित में से कौन से सदस्यों को चुना जा सकता है?

- Ans  A. M1, M2, W1, W3, W4  
 B. M1, M3, W2, W3, W4  
 C. M2, M3, M4, W2, W3  
 D. W1, M2, M3, W3, W4

Question ID : 1034352635

Q.7 एक अनुक्रम दिया गया है, जिसमें से एक पद लुप्त है। दिए गए विकल्पों में से वह सही विकल्प चुनिए, जो अनुक्रम को पूरा करे।

NT, SN, XH, CB, HV, ?

- Ans  A. NO  
 B. MP  
 C. MO  
 D. NP

Question ID : 1034352629

Q.8 नीचे दिए गए प्रश्न में, चार अक्षर युग्म दिए गए हैं। (-) के बायीं ओर दिये गये अक्षर (-) के दायीं ओर दिये गये अक्षर से किसी तर्क/नियम/संबंध से संबंधित है। तीन उसी एक तर्क/नियम/संबंध के आधार पर समान हैं। दिए गए विकल्पों में से विषम को चुनिए।

- Ans  A. PZ - QA  
 B. CH - BI  
 C. NJ - OK  
 D. DF - EG

Question ID : 1034352631

Q.9 नीचे दिए गए प्रश्न में कुछ कथन और उनके बाद उन कथनों पर आधारित कुछ निष्कर्ष दिए गए हैं। दिए गए कथनों को सही माने, चाहे उनमें सामान्य ज्ञात तथ्यों से भिन्नता हो। सभी निष्कर्ष पढ़ें और फिर निर्धारित करें कि दिए गए कौन से निष्कर्ष, दिए गए कथनों के आधार पर युक्तिसंगत हैं।

कथन:

- I. सभी A, B हैं।  
II. कोई भी B, D नहीं है।  
III. कुछ D, G हैं।

निष्कर्ष:

- I. कोई भी A, D नहीं है।  
II. कुछ G, B नहीं हैं।  
III. कुछ A, G नहीं हैं।

- Ans  A. दोनों निष्कर्ष I तथा II अनुसरण करते हैं  
 B. दोनों निष्कर्ष I तथा III अनुसरण करते हैं  
 C. सभी निष्कर्ष अनुसरण करते हैं  
 D. दोनों निष्कर्ष II तथा III अनुसरण करते हैं

Question ID : 1034352639

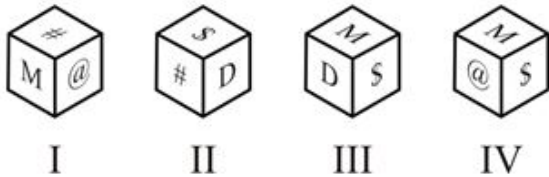
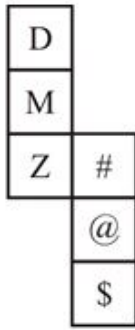
Q.10 सात लड़के A, B, C, D, E, F तथा G के पास सात विभिन्न कार C1, C2, C3, C4, C5, C6 तथा C7 हैं (जरूरी नहीं की इसी क्रम में हो)। B तथा E के पास क्रमशः C5 तथा C3 है। D के पास C1, C2, C6 या C7 नहीं है। G के पास या तो C1 या C4 है। C के पास C2 नहीं है। A के पास C2 या C6 नहीं है। निम्नलिखित में से कौन सा कथन सही है?

- I. C के पास C6 है।  
II. A तथा F के पास क्रमशः C7 तथा C2 है।

- Ans  A. ना ही I ना ही II  
 B. केवल II  
 C. केवल I  
 D. I तथा II दोनों

Question ID : 1034352636

Q.11 दिए गए कागज को मोड़ने पर, निम्नलिखित में से कौन सा घन बनाया जा सकता है?



- Ans  A. केवल III  
 B. II तथा III  
 C. I तथा II  
 D. I, II and III

Question ID : 1034352648

Q.12 निम्नलिखित प्रश्न में दिए गए विकल्पों में से संबंधित शब्द युग्म को चुनिए।

वृत्त : गोला :: ?

- Ans  A. घनाभ : आयत  
 B. रेखा : त्रिभुज  
 C. वर्ग : घन  
 D. बिंदु : रेखा

Question ID : 1034352633

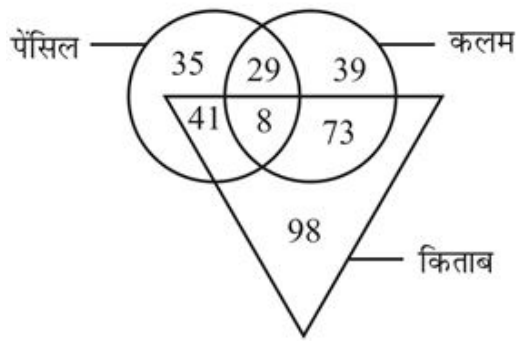
Q.13 निम्नलिखित प्रश्न में दी गई श्रृंखला में से लुप्त अंक ज्ञात कीजिए।

1785, 1529, 1333, 1189, 1089, ?

- Ans  A. 1075  
 B. 1025  
 C. 1055  
 D. 995

Question ID : 1034352641

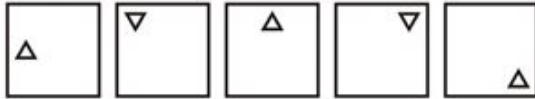
Q.14 कितनी किताबें कलम नहीं हैं?



- Ans
- A. 98
  - B. 139
  - C. 41
  - D. 106

Question ID : 1034352642

Q.15 निम्नलिखित प्रश्न में, दी गयी श्रृंखला में से गलत आकृति को चुनिए।



Ans

- A.
- B.
- C.
- D.

Question ID : 1034352646

Q.16 निम्नलिखित प्रश्न में दिए गए विकल्पों में से संबंधित अक्षरों को चुनिए।

JX : MA :: DV : ?

- Ans
- A. GY
  - B. HY
  - C. HX
  - D. GX

Question ID : 1034352632

Q.17 निम्नलिखित प्रश्न में दिए गए विकल्पों में से प्रश्न चिन्ह (?) के स्थान पर आने वाली संख्या को चुनिए।

3	6	7
4	5	?
6	15	28

- Ans  A. 10  
 B. 8  
 C. 4  
 D. 6

Question ID : 1034352640

Q.18 एक विशिष्ट कोड भाषा में, 'You can go now' को '@ # \$ &' लिखा जाता है, 'You come here' को '\* @ #' लिखा जाता है, 'Can I come in' को '& @ % +' लिखा जाता है। इस कोड भाषा में 'I go in now' का कोड क्या है?

- Ans  A. @ % + \$  
 B. \$ + @ \*  
 C. @ % + #  
 D. \$ @ @ +

Question ID : 1034352634

Q.19 आठ लड़के P, Q, R, S, T, U, V तथा W एक वृत्ताकार मेज के इर्द-गिर्द केन्द्र की ओर मुख करके बैठते हैं (जरूरी नहीं की इसी क्रम में हो)। V, W के दायीं ओर तीसरे स्थान पर बैठता है। R, P के बायीं ओर तीसरे स्थान पर बैठता है। V, P का पड़ोसी है। S तथा T के बीच में तीन लड़के बैठते हैं। U, Q के दायीं ओर दूसरे स्थान पर बैठता है। R, T के तुरंत बायीं ओर बैठता है। निम्नलिखित में से कौन सा कथन सही है?

- I. P, U के बायीं ओर दूसरे स्थान पर बैठता है।  
II. T, W के दायीं ओर दूसरे स्थान पर बैठता है।

- Ans  A. केवल I  
 B. ना ही I ना ही II  
 C. केवल II  
 D. I तथा II दोनों

Question ID : 1034352637

Q.20 A, B के पश्चिम में है। C, B के उत्तर में है। D, C के पूर्व में है। A, D से किस दिशा में है?

- Ans  A. दक्षिण-पूर्व  
 B. दक्षिण-पश्चिम  
 C. उत्तर-पश्चिम  
 D. उत्तर-पूर्व

Question ID : 1034352644

Q.1 फलीदार फसल का एक उदाहरण है।

- Ans  A. दालें  
 B. मक्का  
 C. चावल  
 D. ज्वार

Question ID : 1034352656

Q.2 जस्टिस एन.वी. रमना भारत के \_\_\_\_\_ मुख्य न्यायाधीश हैं।

- Ans  A. 48 वें  
 B. 46 वें  
 C. 47 वें  
 D. 49 वें

Question ID : 1034352664

Q.3 निम्नलिखित में से कौन सी धातु कमरे के ताप पर द्रव होती है?

- Ans  A. कॉपर  
 B. आयरन  
 C. ऐलुमिनियम  
 D. मर्करी

Question ID : 1034352653

Q.4 सविनय अवज्ञा आंदोलन किस वर्ष शुरू किया गया था?

- Ans  A. 1930  
 B. 1932  
 C. 1927  
 D. 1925

Question ID : 1034352660

Q.5 'बिलीव : व्हाट लाइफ एंड क्रिकेट टॉट मी:', \_\_\_\_\_ की आत्मकथा है।

- Ans  A. युवराज सिंह  
 B. विराट कोहली  
 C. सुरेश रैना  
 D. विरेन्द्र सहवाग

Question ID : 1034352667

Q.6 स्मारक - राज्य का कौन सा युग्म सही नहीं है?

- Ans  A. बहाई मंदिर - नई दिल्ली  
 B. मीनाक्षी मंदिर - तमिलनाडु  
 C. एलिफेंटा गुफाएं - महाराष्ट्र  
 D. चारमीनार - केरल

Question ID : 1034352650

Q.7 निम्नलिखित में से कौन सा कथन सही है?

- I. गोदावरी सबसे बड़ी प्रायद्वीपीय नदी है।  
II. डल झील एक मीठे पानी की झील है।

- Ans  A. I तथा II दोनों  
 B. केवल I  
 C. ना ही I ना ही II  
 D. केवल II

Question ID : 1034352658

Q.8 महात्मा गांधी (नयी) श्रृंखला के 500 रुपये के नये नोट का आकार \_\_\_\_\_ है।

- Ans  A. 66 मी.मी. × 166 मी.मी.  
 B. 66 मी.मी. × 150 मी.मी.  
 C. 66 मी.मी. × 142 मी.मी.  
 D. 66 मी.मी. × 116 मी.मी.

Question ID : 1034352651

Q.9 निम्नलिखित में से कौन सा कथन सही है?

- I. मैगस्थनीज़, सेल्यूकस निकेटर का राजदूत था।  
II. अशोक ऐसे पहले शासक थे, जिन्होंने अभिलेखों द्वारा जनता तक अपने संदेश पहुँचाने की कोशिश की।

- Ans  A. केवल II  
 B. ना ही I ना ही II  
 C. केवल I  
 D. I तथा II दोनों

Question ID : 1034352661

Q.10 कोलिन बेल जिनका जनवरी 2021 में निधन हो गया वे किस खेल से जुड़े हुए थे?

- Ans  A. वॉलीबॉल  
 B. फुटबॉल  
 C. क्रिकेट  
 D. टेनिस

Question ID : 1034352668

Q.11 अनुच्छेद – प्रावधान का कौन सा युग्म सही है?

- I. अनुच्छेद 40 – ग्राम पंचायतों का संगठन  
II. अनुच्छेद 25 – धर्म धार्मिक कार्यों के प्रबंध की स्वतंत्रता

- Ans  A. केवल II  
 B. केवल I  
 C. ना ही I ना ही II  
 D. I तथा II दोनों

Question ID : 1034352666



Q.12 मांजरा किस नदी की सहायक नदी है?

- Ans  A. कृष्णा  
 B. नर्मदा  
 C. गोदावरी  
 D. महानदी

Question ID : 1034352657

Q.13 भारत के संविधान में \_\_\_\_\_ अनुच्छेद हैं।

- Ans  A. 365  
 B. 375  
 C. 410  
 D. 395

Question ID : 1034352665

Q.14 अंतर्राष्ट्रीय मुद्रा कोष का मुख्यालय \_\_\_\_\_ में स्थित है।

- Ans  A. जेनेवा  
 B. पेरिस  
 C. वाशिंगटन डीसी  
 D. न्यूयॉर्क

Question ID : 1034352662

Q.15 10 कि.ग्रा. द्रव्यमान की एक वस्तु 2 मीटर/सेकण्ड के एकसमान वेग से गतिशील है। वस्तु की गतिज ऊर्जा कितनी होगी?

- Ans  A. 10 J  
 B. 20 J  
 C. 40 J  
 D. 30 J

Question ID : 1034352654

Q.16 भारतीय राष्ट्रीय कांग्रेस की अध्यक्ष बनने वाली प्रथम भारतीय महिला कौन थी?

- Ans  A. सरोजिनी नायडू  
 B. एनी बेसेंट  
 C. सुचेता कृपलानी  
 D. अरुणा आसफ अली

Question ID : 1034352659

Q.17 फुकुओका पुरस्कार 2021 से किसे सम्मानित किया गया है?

- Ans  A. राज कंवर  
 B. अमीश देवगन  
 C. पी. साईनाथ  
 D. जगदीश पियुष

Question ID : 1034352663

Q.18 निम्नलिखित में से कौन सा कथन सही है?

- I. राजस्व प्राप्तियाँ वे प्राप्तियाँ हैं जिनका दावा सरकार से नहीं किया जा सकता।  
II. राजस्व व्यय केन्द्र सरकार का भौतिक या वित्तीय परिसंपत्तियों के सृजन के अतिरिक्त अन्य उद्देश्यों के लिए किया गया व्यय है।

- Ans  A. केवल I  
 B. I तथा II  
 C. ना ही I ना ही II  
 D. केवल II

Question ID : 1034352652

Q.19 क्षेत्रीय संगीत - राज्य का कौन सा युग्म सही है?

- I. दसकठिया - ओडिशा  
II. टप्पा - पंजाब

- Ans  A. I तथा II दोनों  
 B. केवल I  
 C. ना ही I ना ही II  
 D. केवल II

Question ID : 1034352649

Q.20 निम्नलिखित में से कौन सा कथन सही है?

- I. पक्षी समतापी प्राणी होते हैं।  
II. स्तनपायी असमतापी होते हैं।

- Ans  A. ना ही I ना ही II  
 B. I तथा II दोनों  
 C. केवल I  
 D. केवल II

Question ID : 1034352655

Q.1

यदि  $\sqrt{14 + a\sqrt{3}} = \sqrt{8} + \sqrt{6}$  है, तो a का मान क्या है?

Ans  A. 6

B. 5

C. 4

D. 8

Question ID : 1034352671

Q.2 एक कंटेनर में दो तरल पदार्थ B1 तथा B2 का अनुपात 5 : 7 है। जब 12 लीटर के मिश्रण को कंटेनर से निकाल दिया जाता है तथा उसे B2 से बदल दिया जाता है, तो B1 तथा B2 का अनुपात 2 : 3 हो जाता है। शुरू में कंटेनर में कितने लीटर B1 था?

Ans  A. 60 लीटर

B. 25 लीटर

C. 115 लीटर

D. 125 लीटर

Question ID : 1034352679

Q.3 दो पाइप P1 तथा P2 एक खाली टंकी को क्रमशः 6 घंटे तथा 8 घंटे में भर सकते हैं। पाइप P3 उस संपूर्ण रूप से भरी हुई टंकी को 16 घंटे में खाली कर सकता है। सबसे पहले दोनों पाइप P1 तथा P2 को खोला जाता है तथा 3 घंटे बाद पाइप P3 को भी खोला जाता है। टंकी कितने समय में संपूर्ण रूप से भर जायेगी?

Ans  A. 39/11 घंटे

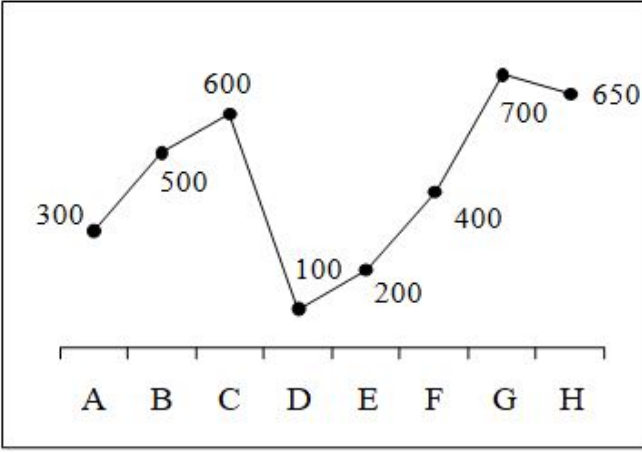
B. 37/11 घंटे

C. 42/11 घंटे

D. 34/11 घंटे

Question ID : 1034352683

Q.4 नीचे दिया गया रेखा चित्र 8 विभिन्न स्कूलों में लड़कियों की संख्या को दर्शाता है।



स्कूल A, B, C तथा E में लड़कियों की संख्या का औसत क्या है?

- Ans  A. 400  
 B. 300  
 C. 200  
 D. 100

Question ID : 1034352687

Q.5 नीचे दी गई तालिका 5 वस्तुएँ के अंकित मूल्य तथा छूट प्रतिशत को दर्शाती है।

वस्तुएं	अंकित मूल्य	छूट प्रतिशत
A1	400	10
A2	300	20
A3	600	25
A4	800	12.5
A5	500	30

$$\text{विक्रय मूल्य} = \text{अंकित मूल्य} - \left( \frac{\text{अंकित मूल्य} \times \text{छूट}\%}{100} \right)$$

निम्नलिखित में से कौन सा कथन सही है?

- I. सभी 5 वस्तुओं के विक्रय मूल्य का औसत 520 है।  
 II. वस्तु A1 के अंकित मूल्य का वस्तु A1 के विक्रय मूल्य से अनुपात 10 : 9 है।  
 III. वस्तु A1 तथा A2 का कुल अंकित मूल्य, वस्तु A1 तथा A2 के विक्रय मूल्य का 126.67 प्रतिशत है।

- Ans  A. II तथा III दोनों  
 B. I तथा II दोनों  
 C. केवल II  
 D. केवल I

Question ID : 1034352686

Q.6  $58 \div 4 \times 2 + 5 \times 3 - 8$  का मान क्या है?

- Ans
- A. 44
  - B. 30
  - C. 42
  - D. 36

Question ID : 1034352669

Q.7 एक राशि पर 40 वर्षों के लिए प्राप्त किया गया साधारण ब्याज राशि का  $\frac{4}{5}$  है। ब्याज की वार्षिक दर क्या है?

- Ans
- A. 2.5 प्रतिशत
  - B. 4 प्रतिशत
  - C. 3 प्रतिशत
  - D. 2 प्रतिशत

Question ID : 1034352680

Q.8

यदि  $a = \sqrt{11 + 4\sqrt{6}}$  है, तो  $\frac{1 + a^4}{a^2}$  का मान क्या है?

- Ans
- A.  $\frac{95 + 98\sqrt{6}}{24}$
  - B.  $\frac{272 + 90\sqrt{6}}{21}$
  - C.  $\frac{186 + 95\sqrt{6}}{22}$
  - D.  $\frac{286 + 96\sqrt{6}}{25}$

Question ID : 1034352672

Q.9 एक स्कूटर P से Q, 40 कि.मी./घंटा की गति से तथा Q से P, 30 कि.मी./घंटा की गति से चलता है। स्कूटर की औसत गति क्या है?

- Ans
- A. 240/7 कि.मी./घंटा
  - B. 40 कि.मी./घंटा
  - C. 260/7 कि.मी./घंटा
  - D. 35 कि.मी./घंटा

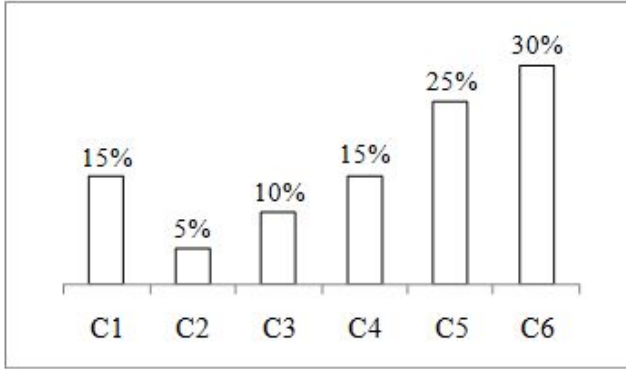
Question ID : 1034352681

Q.10 तीन संख्याओं का अनुपात 3 : 5 : 7 है तथा उनके वर्गों का योग 1328 है। तीनों संख्याओं में से सबसे बड़ी का मान क्या है?

- Ans
- A. 12
  - B. 20
  - C. 28
  - D. 16

Question ID : 1034352678

Q.11 नीचे दिया गया दण्ड चित्र 6 कंपनियों द्वारा बेचे गए मोबाइल फोन की संख्या को दर्शाता है। इन सभी 6 कंपनियों द्वारा बेचे गए मोबाइल फोन की कुल संख्या 8000 है। एक विशिष्ट कंपनी द्वारा बेचे गए मोबाइल फोन की संख्या को इन सभी 6 कंपनियों द्वारा बेचे गए कुल मोबाइल फोन के प्रतिशत के रूप में दर्शाया गया है।



P1 = कंपनी C1, C2, C3 तथा C6 द्वारा बेचे गए मोबाइल फोन की औसत संख्या।  
P2 = कंपनी C4 तथा C5 द्वारा बेचे गए मोबाइल फोन की संख्या का योग।  
P3 = कंपनी C6 तथा C3 द्वारा बेचे गए मोबाइल फोन की संख्या के बीच का अंतर।  
P2 - (P1 + P3) का मान क्या है?

- Ans
- A. 200
  - B. 300
  - C. 400
  - D. 450

Question ID : 1034352688

Q.12 1 कि.ग्रा. चीनी के मूल्य को 34 प्रतिशत से बढ़ाया जाता है तथा कीमत 51 रुपये बढ़ जाती है। चीनी का प्रति कि.ग्रा. नया मूल्य क्या है?

- Ans
- A. 201 रुपये
  - B. 130 रुपये
  - C. 120 रुपये
  - D. 150 रुपये

Question ID : 1034352675

Q.13 एक घनाभ की लम्बाई, चौड़ाई तथा ऊँचाई क्रमशः 40 से.मी., 20 से.मी. तथा 20 से.मी. है। इसे दो बराबर घन के काटा गया है। इन दो घनों के कुल पृष्ठीय क्षेत्रफल का योग एक आयत के क्षेत्रफल के बराबर है, यदि आयत की लम्बाई तथा चौड़ाई का योग 160 से.मी. है, तो आयत की लम्बाई क्या हो सकती है?

- Ans  A. 120 से.मी.  
 B. 60 से.मी.  
 C. 80 से.मी.  
 D. 100 से.मी.

Question ID : 1034352685

Q.14 यदि एक संख्या  $97Y3X$ , 90 से पूर्णतः विभाजित है, तो  $(Y - X)$  का मान क्या है?

- Ans  A. 3  
 B. 4  
 C. 8  
 D. 5

Question ID : 1034352670

Q.15 P तथा Q का भार 12 : 10 के अनुपात में है। Q का भार 25 प्रतिशत से बढ़ जाता है एवं P तथा Q का कुल भार 50 प्रतिशत से बढ़ जाता है। यदि कुल भार 132 कि.ग्रा. हो जाता है, तो बढ़ोत्तरी के पश्चात P का भार क्या है?

- Ans  A. 78 कि.ग्रा.  
 B. 72 कि.ग्रा.  
 C. 76 कि.ग्रा.  
 D. 82 कि.ग्रा.

Question ID : 1034352676

Q.16 विनय एक वस्तु 1500 रुपये की खरीदता है। वह यातायात पर 500 रुपये खर्च करता है। इस वस्तु को बेचने पर उसे अब भी 500 रुपये का लाभ होता है। लाभ प्रतिशत क्या है?

- Ans  A. 30 प्रतिशत  
 B. 33.33 प्रतिशत  
 C. 25 प्रतिशत  
 D. 20 प्रतिशत

Question ID : 1034352677

Q.17  $(22)^{92} \times (45)^{85} \times (98)^{51}$  में इकाई स्थान पर कौन सा अंक है?

- Ans  A. 3  
 B. 0  
 C. 6  
 D. 5

Question ID : 1034352673

Q.18 एक घनाभ की लम्बाई तथा चौड़ाई क्रमशः 90 से.मी. तथा 60 से.मी. है। यदि घनाभ का आयतन 64800 से.मी.<sup>3</sup> है, तो इस घनाभ की ऊँचाई क्या है?

- Ans  A. 16 से.मी.  
 B. 12 से.मी.  
 C. 21 से.मी.  
 D. 18 से.मी.

Question ID : 1034352684

Q.19 13 प्रतिशत की छूट के बाद एक वस्तु को 4350 रुपये में बेचा जाता है। वस्तु का अंकित मूल्य क्या है?

- Ans  A. 4500 रुपये  
 B. 5000 रुपये  
 C. 4000 रुपये  
 D. 5500 रुपये

Question ID : 1034352674

Q.20 दो रेलगाड़ियाँ 36 कि.मी./घंटा तथा 48 कि.मी./घंटा की गति से समान दिशा में चल रही है। तीव्र गति वाली रेलगाड़ी द्वारा धीमी गति वाली रेलगाड़ी में बैठे एक पुरुष को पार करने में लिया गया समय 33 सेकण्ड है। तीव्र गति वाली रेलगाड़ी की लम्बाई क्या होगी?

- Ans  A. 140 मीटर  
 B. 110 मीटर  
 C. 90 मीटर  
 D. 180 मीटर

Question ID : 1034352682

Section : General English

Q.1 Choose the word that means the same as the given word.

Jovial

- Ans  A. Creepy  
 B. Occult  
 C. Merry  
 D. Tame

Question ID : 1034352697

Q.2 Choose the word that can substitute the given sentence.

Dress with medals, ribbons worn at official ceremonies

- Ans  A. Regalia  
 B. Almanac  
 C. Dilettante  
 D. Maudlin

Question ID : 1034352703



Q.3 Rearrange the parts of the sentence in correct order.

P: Nothing is too small for him to miss.

Q: He has a maddening attention to detail.

R: Ramesh's personality sets him apart from the rest of his friends.

S: This is what makes him a different guy.

Ans  A. RSPQ

B. PQSR

C. SPQR

D. RQPS

Question ID : 1034352696

Q.4 A sentence has been given with a blank to be filled with an appropriate word. Choose the correct alternative.

A bouquet of red roses \_\_\_\_\_ a refreshing smell in the morning.

Ans  A. gives

B. give

C. have

D. were

Question ID : 1034352694

Q.5 In the given question, four words are given out of which one word is correctly spelt. Choose the correctly spelt word.

Ans  A. Tempestious

B. Tempestuous

C. Tempastus

D. Tempestous

Question ID : 1034352700

Q.6 Find the part of the given sentence that has an error in it. If there is no error, choose 'No error'.

The two first chapters (1)/ will not come (2)/in your exams (3)/ No error (4)

Ans  A. 2

B. 3

C. 1

D. 4

Question ID : 1034352689

Q.7 Find the part of the given sentence that has an error in it. If there is no error, choose 'No error'.

In recent years, the practice of (1)/using memes to incite (2)/divisiveness have rapidly escalated (3)/.No error (4)

- Ans
- A. 2
  - B. 1
  - C. 3
  - D. 4

Question ID : 1034352690

Q.8 Rearrange the parts of the sentence in correct order.

Possibly the poor creature  
P: Had been trampled by an elephant  
Q: As a gesture towards his  
R: Had gone into the jungle one day  
S: Blood thirsty companions and

- Ans
- A. QSRP
  - B. RPSQ
  - C. RQSP
  - D. PQSR

Question ID : 1034352695

Q.9 Choose the word that is opposite in meaning to the given word.

Advertence

- Ans
- A. Artlessness
  - B. Obliviousness
  - C. Cognizance
  - D. Advisement

Question ID : 1034352698

Q.10 Select the most appropriate option to substitute the underlined segment in the given sentence. If no substitution is required, select 'No improvement' as your answer.

Nor only did Julie plays good. she also sings perfect.

- Ans
- A. Not only does Julie plays good but she
  - B. Not only did Julie play good, she
  - C. Nor only does Julie plays good but she
  - D. No improvement

Question ID : 1034352692

Q.11 In the following question, out of the given four alternatives, select the alternative which best expresses the meaning of the Idiom/Phrase.

To jump the light

- Ans  A. To restrain the orders  
 B. To miss an opportunity  
 C. To be very happy  
 D. To violate the traffic rules

Question ID : 1034352701

Q.12 Select the most appropriate option to substitute the underlined segment in the given sentence. If no substitution is required, select 'No improvement' as your answer.

His broken arm is insensible of feelings.

- Ans  A. No improvement  
 B. insensible to  
 C. insensible about  
 D. insensible for

Question ID : 1034352691

Q.13 In the given question, four words are given out of which one word is correctly spelt. Choose the correctly spelt word.

- Ans  A. Elissit  
 B. Ellicit  
 C. Ellissit  
 D. Elicit

Question ID : 1034352699

Q.14 In the following question, out of the given four alternatives, select the alternative which best expresses the meaning of the Idiom/Phrase.

To lose ground

- Ans  A. To lose money  
 B. To die  
 C. To lose importance  
 D. To have no clue

Question ID : 1034352702

Q.15 A sentence has been given with a blank to be filled with an appropriate word. Choose the correct alternative.

With two \_\_\_\_\_ motions she pinned him down.

- Ans  A. sweet  
 B. swift  
 C. silent  
 D. lofty

Question ID : 1034352693

**Comprehension:**

Read the following information carefully and answer the given questions.

Universities are being urged to seize the opportunity of expanding into India where reforms will radically change the country's higher education sector in the next decade. In a new report, the British Council said India's tertiary-age population will be the world's third largest by 2020, behind only China and the United States. Ambitious plans by the government to expand university enrolment from 18% to 30%, means India needs to provide 14m extra university places by then.

The report comes after the latest figures on UK university admissions showed the number of Indian students heading to the UK halved in the last two years. The UK has registered its first drop in international students, of 1%, for courses starting in 2012-2013. Universities have blamed the fall on a restrictive immigration policy.

The British Council's researchers interviewed a range of Indian academics and higher education professionals for their report. Many said the UK should broaden its horizons when considering ways to partner with Indian higher education institutions, or risk losing out. "Historically, we've been able to forge a deeper and more substantial relationships with many American universities," said Professor C. Raj Kumar, vice chancellor of O.P. Jindal Global University in India. "I've always felt that there is a case for this kind of engagement to be deepened with British universities." At the moment, India's higher education sector is highly regulated, with foreign universities restricted from setting up campuses. Until now, much of the research collaboration between the UK and India has been with "tier 1" universities and Institutes of National Importance, through programmes such as the UK-India Education and Research Initiative. But these top level institutions only represent 2.6% of the students who enrol in India. The vast majority come through either private, or state institutions, in particular through a system of "affiliated colleges" which are linked to state universities.

Quality control of these colleges has been a constant problem, although it has stepped up since the government made accreditation mandatory in 2013. The report recommends UK universities would do well to start partnering with these state institutions, which educate the bulk of Indian students.

**SubQuestion No : 16**

**Q.16 According to the given passage, which of the following statements is incorrect?**

- Ans**  A. India's tertiary-age population will be less than China and the United States in 2020.
- B. In the present scenario, India's higher education sector is highly regulated.
- C. The British Council researchers interviewed a range of Indian academics and higher education professionals.
- D. The UK has registered its second drop in international students, of 0.1%, for courses starting in 2012-2013.

Question ID : 1034352707

**Comprehension:**

Read the following information carefully and answer the given questions.

Universities are being urged to seize the opportunity of expanding into India where reforms will radically change the country's higher education sector in the next decade. In a new report, the British Council said India's tertiary-age population will be the world's third largest by 2020, behind only China and the United States. Ambitious plans by the government to expand university enrolment from 18% to 30%, means India needs to provide 14m extra university places by then.

The report comes after the latest figures on UK university admissions showed the number of Indian students heading to the UK halved in the last two years. The UK has registered its first drop in international students, of 1%, for courses starting in 2012-2013. Universities have blamed the fall on a restrictive immigration policy.

The British Council's researchers interviewed a range of Indian academics and higher education professionals for their report. Many said the UK should broaden its horizons when considering ways to partner with Indian higher education institutions, or risk losing out. "Historically, we've been able to forge a deeper and more substantial relationships with many American universities," said Professor C. Raj Kumar, vice chancellor of O.P. Jindal Global University in India. "I've always felt that there is a case for this kind of engagement to be deepened with British universities." At the moment, India's higher education sector is highly regulated, with foreign universities restricted from setting up campuses. Until now, much of the research collaboration between the UK and India has been with "tier 1" universities and Institutes of National Importance, through programmes such as the UK-India Education and Research Initiative. But these top level institutions only represent 2.6% of the students who enrol in India. The vast majority come through either private, or state institutions, in particular through a system of "affiliated colleges" which are linked to state universities.

Quality control of these colleges has been a constant problem, although it has stepped up since the government made accreditation mandatory in 2013. The report recommends UK universities would do well to start partnering with these state institutions, which educate the bulk of Indian students.

**SubQuestion No : 17**

**Q.17 Choose the word which can replace the given word meaningfully in the passage. Broaden**

- Ans  A. Subdue  
 B. Narrow  
 C. Augment  
 D. Condemn

Question ID : 1034352708

**Comprehension:**

Read the following information carefully and answer the given questions.

Universities are being urged to seize the opportunity of expanding into India where reforms will radically change the country's higher education sector in the next decade. In a new report, the British Council said India's tertiary-age population will be the world's third largest by 2020, behind only China and the United States. Ambitious plans by the government to expand university enrolment from 18% to 30%, means India needs to provide 14m extra university places by then.

The report comes after the latest figures on UK university admissions showed the number of Indian students heading to the UK halved in the last two years. The UK has registered its first drop in international students, of 1%, for courses starting in 2012-2013. Universities have blamed the fall on a restrictive immigration policy.

The British Council's researchers interviewed a range of Indian academics and higher education professionals for their report. Many said the UK should broaden its horizons when considering ways to partner with Indian higher education institutions, or risk losing out. "Historically, we've been able to forge a deeper and more substantial relationships with many American universities," said Professor C. Raj Kumar, vice chancellor of O.P. Jindal Global University in India. "I've always felt that there is a case for this kind of engagement to be deepened with British universities." At the moment, India's higher education sector is highly regulated, with foreign universities restricted from setting up campuses. Until now, much of the research collaboration between the UK and India has been with "tier 1" universities and Institutes of National Importance, through programmes such as the UK-India Education and Research Initiative. But these top level institutions only represent 2.6% of the students who enrol in India. The vast majority come through either private, or state institutions, in particular through a system of "affiliated colleges" which are linked to state universities.

Quality control of these colleges has been a constant problem, although it has stepped up since the government made accreditation mandatory in 2013. The report recommends UK universities would do well to start partnering with these state institutions, which educate the bulk of Indian students.

**SubQuestion No : 18**

**Q.18** Choose the word which cannot replace the given word meaningfully in the passage. Bulk

- Ans  A. Handful  
 B. Burden  
 C. Profuse  
 D. Essence

Question ID : 1034352709

**Comprehension:**

Read the following information carefully and answer the given questions.

Universities are being urged to seize the opportunity of expanding into India where reforms will radically change the country's higher education sector in the next decade. In a new report, the British Council said India's tertiary-age population will be the world's third largest by 2020, behind only China and the United States. Ambitious plans by the government to expand university enrolment from 18% to 30%, means India needs to provide 14m extra university places by then.

The report comes after the latest figures on UK university admissions showed the number of Indian students heading to the UK halved in the last two years. The UK has registered its first drop in international students, of 1%, for courses starting in 2012-2013. Universities have blamed the fall on a restrictive immigration policy.

The British Council's researchers interviewed a range of Indian academics and higher education professionals for their report. Many said the UK should broaden its horizons when considering ways to partner with Indian higher education institutions, or risk losing out. "Historically, we've been able to forge a deeper and more substantial relationships with many American universities," said Professor C. Raj Kumar, vice chancellor of O.P. Jindal Global University in India. "I've always felt that there is a case for this kind of engagement to be deepened with British universities." At the moment, India's higher education sector is highly regulated, with foreign universities restricted from setting up campuses. Until now, much of the research collaboration between the UK and India has been with "tier 1" universities and Institutes of National Importance, through programmes such as the UK-India Education and Research Initiative. But these top level institutions only represent 2.6% of the students who enrol in India. The vast majority come through either private, or state institutions, in particular through a system of "affiliated colleges" which are linked to state universities.

Quality control of these colleges has been a constant problem, although it has stepped up since the government made accreditation mandatory in 2013. The report recommends UK universities would do well to start partnering with these state institutions, which educate the bulk of Indian students.

**SubQuestion No : 19**

**Q.19 What is the central idea of the passage?**

- Ans**  A. It provides arguments related to the constant problem faced by Indian students in the foreign Universities.
- B. The given passage highlights few of the ambitious plans of the Indian government.
- C. It explains how in coming future Indian Universities will be educating British students.
- D. It discusses how radical reforms of India can open the door for British Universities.

Question ID : 1034352705

**Comprehension:**

Read the following information carefully and answer the given questions.

Universities are being urged to seize the opportunity of expanding into India where reforms will radically change the country's higher education sector in the next decade. In a new report, the British Council said India's tertiary-age population will be the world's third largest by 2020, behind only China and the United States. Ambitious plans by the government to expand university enrolment from 18% to 30%, means India needs to provide 14m extra university places by then.

The report comes after the latest figures on UK university admissions showed the number of Indian students heading to the UK halved in the last two years. The UK has registered its first drop in international students, of 1%, for courses starting in 2012-2013. Universities have blamed the fall on a restrictive immigration policy.

The British Council's researchers interviewed a range of Indian academics and higher education professionals for their report. Many said the UK should broaden its horizons when considering ways to partner with Indian higher education institutions, or risk losing out. "Historically, we've been able to forge a deeper and more substantial relationships with many American universities," said Professor C. Raj Kumar, vice chancellor of O.P. Jindal Global University in India. "I've always felt that there is a case for this kind of engagement to be deepened with British universities." At the moment, India's higher education sector is highly regulated, with foreign universities restricted from setting up campuses. Until now, much of the research collaboration between the UK and India has been with "tier 1" universities and Institutes of National Importance, through programmes such as the UK-India Education and Research Initiative. But these top level institutions only represent 2.6% of the students who enrol in India. The vast majority come through either private, or state institutions, in particular through a system of "affiliated colleges" which are linked to state universities.

Quality control of these colleges has been a constant problem, although it has stepped up since the government made accreditation mandatory in 2013. The report recommends UK universities would do well to start partnering with these state institutions, which educate the bulk of Indian students.

**SubQuestion No : 20**

**Q.20** According to a new report, released by the British Council, India's tertiary-age population will be the world's \_\_\_\_ largest by 2020.

- Ans  A. fifth  
 B. fourth  
 C. second  
 D. third

Question ID : 1034352706

**Section : General Hindi**

**Q.1** दिए गए वाक्य की वृत्ति ज्ञात कीजिए।

तुम्हें कार बिल्कुल नहीं मिलेगी।

- Ans  A. आज्ञार्थक  
 B. निश्चियार्थक  
 C. संकेतार्थक  
 D. सामर्थ्य सूचक

Question ID : 1034352720



Q.2 दिए गए शब्दों की संधि ज्ञात कीजिए।

तृष + ना

- Ans  A. तृषना  
 B. तृषंण  
 C. तृष्णा  
 D. तृषण

Question ID : 1034352712

Q.3 दिए गए वाक्य में उपयुक्त शब्द का चयन करके रिक्त स्थान की पूर्ति कीजिए।

एक-न-एक दिन \_\_\_\_\_ का फल जरूर मिलता है।

- Ans  A. परिश्रम  
 B. दुःख  
 C. चिंता  
 D. दुविधा

Question ID : 1034352716

Q.4 निम्नलिखित प्रश्न में, दिए गए चार विकल्पों में से, उस विकल्प का चयन करें जो दिए गए मुहावरे के अर्थ को सर्वश्रेष्ठ रूप से व्यक्त करता है।

जूतियाँ चटकाते फिरना

- Ans  A. मारा-मारा फिरना  
 B. समाप्त करना  
 C. बहुत सुंदर होना  
 D. बेकार की बातें करना

Question ID : 1034352724

Q.5 निम्नलिखित में से कौन सा काल का भेद नहीं है?

- Ans  A. आदिकाल  
 B. वर्तमान काल  
 C. भूतकाल  
 D. भविष्य काल

Question ID : 1034352717

Q.6 दिए गए शब्द का विलोम शब्द ज्ञात कीजिए।

तीक्ष्ण

- Ans  A. प्रकाश  
 B. तिमिर  
 C. विलक्षण  
 D. द्वेष

Question ID : 1034352713

Q.7 निम्नलिखित वाक्यांश के लिए उचित शब्द का चयन कीजिए।

जिसके हृदय में ममता न हो

- Ans  A. निर्मूल  
 B. निरामिष  
 C. निर्मम  
 D. निर्निमेष

Question ID : 1034352714

Q.8 दिए गए वाक्य में उपयुक्त विराम चिह्न का चयन कीजिए।

बच्चे शांतिपूर्वक बैठो।

- Ans  A. !  
 B. 0  
 C. ;  
 D. ...

Question ID : 1034352721

Q.9 दिए गए शब्दों में शुद्ध वर्तनी का चयन कीजिए।

- Ans  A. जागृत  
 B. जागरत  
 C. जाग्रत  
 D. जग्रत

Question ID : 1034352715

Q.10 दिए गए वाक्य में उपयुक्त विराम चिह्न का चयन कीजिए।

जून जुलाई में यहाँ बहुत बारिश होती है।

- Ans  A. -  
 B. :-  
 C. “ ”  
 D. ,

Question ID : 1034352722

Q.11 निम्नलिखित वाक्यों में से मिश्र वाक्य ज्ञात कीजिए।

- Ans  A. जब लू चल रही थी तब मैं घर से बाहर नहीं निकला।  
 B. लू चल रही थी और मैं घर से बाहर नहीं निकला।  
 C. लू चल रही थी इसलिए मैं घर से बाहर नहीं निकला।  
 D. लू चलने के कारण मैं घर से बाहर नहीं निकला।

Question ID : 1034352719

Q.12 निम्नलिखित प्रश्न में, दिए गए चार विकल्पों में से, उस विकल्प का चयन करें जो दिए गए मुहावरे के अर्थ को सर्वश्रेष्ठ रूप से व्यक्त करता है।

कदम पर कदम रखना

- Ans  A. घमंड होना  
 B. निगरानी रखना  
 C. अनुसरण करना  
 D. चौकस रहना

Question ID : 1034352723

Q.13 दिए गए वाक्य में क्रिया ज्ञात कीजिए।

अध्यापक छात्र से पाठ पढ़वाता है।

- Ans  A. प्रेरणार्थक  
 B. संयुक्त  
 C. अकर्मक  
 D. पूर्वकालिक

Question ID : 1034352711

Q.14 दिए गए शब्दों में द्विगु समास ज्ञात कीजिए।

- Ans  A. माखनचोर  
 B. चतुर्भुज  
 C. भला-बूरा  
 D. भुजदण्ड

Question ID : 1034352710

Q.15 निम्नलिखित वाक्यों में से संयुक्त वाक्य ज्ञात कीजिए।

- Ans  A. जैसे ही मैं घर पहुँचा और देखा सब बच्चे आपस में लड़ रहे हैं।  
 B. मैं घर पहुँचा और देखा सब बच्चे लड़ रहे हैं।  
 C. सभी बच्चे आपस में लड़ रहे थे क्योंकि मैं घर पर नहीं था।  
 D. मैंने घर पहुँचकर सब बच्चों को लड़ते हुए देखा।

Question ID : 1034352718

**Comprehension:**

एक गद्यांश दिया गया है। गद्यांश के आधार पर पाँच प्रश्न दिए गए हैं। गद्यांश को ध्यानपूर्वक पढ़ें तथा प्रत्येक प्रश्न के चार विकल्पों में से सही विकल्प चुने।

समाचार-पत्र सूचना का विश्वसनीय सस्ता और सहज उपलब्ध साधन है। यह प्रतिदिन देश-विदेश के समाचारों एवं अन्य विविध सूचनाओं के साथ घर-घर पहुँच जाता है। इसका महत्व इसी से ज्ञात होता है कि यह प्रत्येक शिक्षित व्यक्ति के जीवन का अंग बन चुका है। "उदंत मार्लेड" कोलकाता से प्रकाशित होने वाला पहला हिंदी समाचार-पत्र था। इसके पश्चात् प्रजासिद्ध, भारतसिद्ध और बंगवासी आदि समाचार पत्रों का प्रकाश हुआ। आज हिंदी के समाचार पत्र सबसे अधिक प्रकाशित होते हैं। समाचार पत्रों के अनेक रूप हैं-दैनिक, साप्ताहिक, पाक्षिक और मासिक इनके प्रकाशन की प्रक्रिया जटिल होती है। विज्ञान के नित नए आविष्कारों से समाचार पत्रों के प्रकाशन में क्रांति आ गई है। ये दिन चढ़ते ही घर-घर में पहुँच जाते हैं। ये फुटपाथों, बस अड्डों, रेलवे स्टेशनों, हवाई अड्डों और विभिन्न स्टॉलों पर उपलब्ध होते हैं। समाचार पत्र समाचारों की जानकारी के सर्वोत्तम साधन हैं। रेडियो और टेलीविज़न से समाचारों की जानकारी मिल जाती है परंतु उन्हें जानने का समय निर्धारित होता है। उन्हें केवल सुना या देखा जा सकता है। समाचार पत्रों में प्रकाशित समाचारों को सुविधानुसार पढ़ा जा सकता है। इनका रूप लिखित होता है। इनमें स्थायित्व होता है। ये केवल एक दिन के लिए ही उपयोगी नहीं होते अपितु इन्हें विभिन्न जानकारियाँ प्राप्त करने के लिए वर्षों तक सुरक्षित रखा जा सकता है। समाचार पत्रों में मात्र समाचार ही प्रकाशित नहीं होते अपितु जीवन के विभिन्न क्षेत्रों से संबंधित सूचनाएँ भी प्रकाशित होती हैं।

**SubQuestion No : 16**

Q.16 उपर्युक्त गद्यांश का शीर्षक होगा?

- Ans  A. मेगज़ीन का महत्व  
 B. टी.वी का महत्व  
 C. समाचार पत्रों का महत्व  
 D. रेडियो का महत्व

Question ID : 1034352730

**Comprehension:**

एक गद्यांश दिया गया है। गद्यांश के आधार पर पाँच प्रश्न दिए गए हैं। गद्यांश को ध्यानपूर्वक पढ़ें तथा प्रत्येक प्रश्न के चार विकल्पों में से सही विकल्प चुने।

समाचार-पत्र सूचना का विश्वसनीय सस्ता और सहज उपलब्ध साधन है। यह प्रतिदिन देश-विदेश के समाचारों एवं अन्य विविध सूचनाओं के साथ घर-घर पहुँच जाता है। इसका महत्व इसी से ज्ञात होता है कि यह प्रत्येक शिक्षित व्यक्ति के जीवन का अंग बन चुका है। "उदंत मार्लेड" कोलकाता से प्रकाशित होने वाला पहला हिंदी समाचार-पत्र था। इसके पश्चात् प्रजासिद्ध, भारतसिद्ध और बंगवासी आदि समाचार पत्रों का प्रकाश हुआ। आज हिंदी के समाचार पत्र सबसे अधिक प्रकाशित होते हैं। समाचार पत्रों के अनेक रूप हैं-दैनिक, साप्ताहिक, पाक्षिक और मासिक इनके प्रकाशन की प्रक्रिया जटिल होती है। विज्ञान के नित नए आविष्कारों से समाचार पत्रों के प्रकाशन में क्रांति आ गई है। ये दिन चढ़ते ही घर-घर में पहुँच जाते हैं। ये फुटपाथों, बस अड्डों, रेलवे स्टेशनों, हवाई अड्डों और विभिन्न स्टॉलों पर उपलब्ध होते हैं। समाचार पत्र समाचारों की जानकारी के सर्वोत्तम साधन हैं। रेडियो और टेलीविज़न से समाचारों की जानकारी मिल जाती है परंतु उन्हें जानने का समय निर्धारित होता है। उन्हें केवल सुना या देखा जा सकता है। समाचार पत्रों में प्रकाशित समाचारों को सुविधानुसार पढ़ा जा सकता है। इनका रूप लिखित होता है। इनमें स्थायित्व होता है। ये केवल एक दिन के लिए ही उपयोगी नहीं होते अपितु इन्हें विभिन्न जानकारियाँ प्राप्त करने के लिए वर्षों तक सुरक्षित रखा जा सकता है। समाचार पत्रों में मात्र समाचार ही प्रकाशित नहीं होते अपितु जीवन के विभिन्न क्षेत्रों से संबंधित सूचनाएँ भी प्रकाशित होती हैं।

**SubQuestion No : 17**

Q.17 कौन-से समाचार पत्र सबसे अधिक प्रकाशित होते हैं?

- Ans  A. बंगाली  
 B. हिन्दी  
 C. अंग्रेजी  
 D. उर्दू

Question ID : 1034352727

**Comprehension:**

एक गद्यांश दिया गया है। गद्यांश के आधार पर पाँच प्रश्न दिए गए हैं। गद्यांश को ध्यानपूर्वक पढ़ें तथा प्रत्येक प्रश्न के चार विकल्पों में से सही विकल्प चुने।

समाचार-पत्र सूचना का विश्वसनीय सस्ता और सहज उपलब्ध साधन है। यह प्रतिदिन देश-विदेश के समाचारों एवं अन्य विविध सूचनाओं के साथ घर-घर पहुँच जाता है। इसका महत्व इसी से ज्ञात होता है कि यह प्रत्येक शिक्षित व्यक्ति के जीवन का अंग बन चुका है। "उदंत मार्तंड" कोलकाता से प्रकाशित होने वाला पहला हिंदी समाचार-पत्र था। इसके पश्चात् प्रजामित्र, भारतमित्र और बंगवासी आदि समाचार पत्रों का प्रकाश हुआ। आज हिंदी के समाचार पत्र सबसे अधिक प्रकाशित होते हैं। समाचार पत्रों के अनेक रूप हैं-दैनिक, साप्ताहिक, पाक्षिक और मासिक इनके प्रकाशन की प्रक्रिया जटिल होती है। विज्ञान के नित नए आविष्कारों से समाचार पत्रों के प्रकाशन में क्रांति आ गई है। ये दिन चढ़ते ही घर-घर में पहुँच जाते हैं। ये फुटपाथों, बस अड्डों, रेलवे स्टेशनों, हवाई अड्डों और विभिन्न स्टॉलों पर उपलब्ध होते हैं। समाचार पत्र समाचारों की जानकारी के सर्वोत्तम साधन हैं। रेडियो और टेलीविज़न से समाचारों की जानकारी मिल जाती है परंतु उन्हें जानने का समय निर्धारित होता है। उन्हें केवल सुना या देखा जा सकता है। समाचार पत्रों में प्रकाशित समाचारों को सुविधानुसार पढ़ा जा सकता है। इनका रूप लिखित होता है। इनमें स्थायित्व होता है। ये केवल एक दिन के लिए ही उपयोगी नहीं होते अपितु इन्हें विभिन्न जानकारियाँ प्राप्त करने के लिए वर्षों तक सुरक्षित रखा जा सकता है। समाचार पत्रों में मात्र समाचार ही प्रकाशित नहीं होते अपितु जीवन के विभिन्न क्षेत्रों से संबंधित सूचनाएँ भी प्रकाशित होती हैं।

**SubQuestion No : 18**

Q.18 समाचारों की सर्वोत्तम जानकारी का साधन क्या है?

- Ans  A. रेडियो  
 B. समाचार पत्र  
 C. टी.वी  
 D. मेगज़ीन

Question ID : 1034352728

**Comprehension:**

एक गद्यांश दिया गया है। गद्यांश के आधार पर पाँच प्रश्न दिए गए हैं। गद्यांश को ध्यानपूर्वक पढ़ें तथा प्रत्येक प्रश्न के चार विकल्पों में से सही विकल्प चुने।

समाचार-पत्र सूचना का विश्वसनीय सस्ता और सहज उपलब्ध साधन है। यह प्रतिदिन देश-विदेश के समाचारों एवं अन्य विविध सूचनाओं के साथ घर-घर पहुँच जाता है। इसका महत्व इसी से ज्ञात होता है कि यह प्रत्येक शिक्षित व्यक्ति के जीवन का अंग बन चुका है। "उदंत मार्तंड" कोलकाता से प्रकाशित होने वाला पहला हिंदी समाचार-पत्र था। इसके पश्चात् प्रजामित्र, भारतमित्र और बंगवासी आदि समाचार पत्रों का प्रकाश हुआ। आज हिंदी के समाचार पत्र सबसे अधिक प्रकाशित होते हैं। समाचार पत्रों के अनेक रूप हैं-दैनिक, साप्ताहिक, पाक्षिक और मासिक इनके प्रकाशन की प्रक्रिया जटिल होती है। विज्ञान के नित नए आविष्कारों से समाचार पत्रों के प्रकाशन में क्रांति आ गई है। ये दिन चढ़ते ही घर-घर में पहुँच जाते हैं। ये फुटपाथों, बस अड्डों, रेलवे स्टेशनों, हवाई अड्डों और विभिन्न स्टॉलों पर उपलब्ध होते हैं। समाचार पत्र समाचारों की जानकारी के सर्वोत्तम साधन हैं। रेडियो और टेलीविज़न से समाचारों की जानकारी मिल जाती है परंतु उन्हें जानने का समय निर्धारित होता है। उन्हें केवल सुना या देखा जा सकता है। समाचार पत्रों में प्रकाशित समाचारों को सुविधानुसार पढ़ा जा सकता है। इनका रूप लिखित होता है। इनमें स्थायित्व होता है। ये केवल एक दिन के लिए ही उपयोगी नहीं होते अपितु इन्हें विभिन्न जानकारियाँ प्राप्त करने के लिए वर्षों तक सुरक्षित रखा जा सकता है। समाचार पत्रों में मात्र समाचार ही प्रकाशित नहीं होते अपितु जीवन के विभिन्न क्षेत्रों से संबंधित सूचनाएँ भी प्रकाशित होती हैं।

**SubQuestion No : 19**

Q.19 हिंदी का पहला समाचार-पत्र कौन-सा था?

- Ans  A. भारतमित्र  
 B. प्रजामित्र  
 C. बंगवासी  
 D. 'उदंत मार्तंड'

Question ID : 1034352726

**Comprehension:**

एक गद्यांश दिया गया है। गद्यांश के आधार पर पाँच प्रश्न दिए गए हैं। गद्यांश को ध्यानपूर्वक पढ़ें तथा प्रत्येक प्रश्न के चार विकल्पों में से सही विकल्प चुने।

समाचार-पत्र सूचना का विश्वसनीय सस्ता और सहज उपलब्ध साधन है। यह प्रतिदिन देश-विदेश के समाचारों एवं अन्य विविध सूचनाओं के साथ घर-घर पहुँच जाता है। इसका महत्व इसी से ज्ञात होता है कि यह प्रत्येक शिक्षित व्यक्ति के जीवन का अंग बन चुका है। "उदंत मार्केट" कोलकाता से प्रकाशित होने वाला पहला हिंदी समाचार-पत्र था। इसके पश्चात् प्रजामित्र, भारतमित्र और बंगवासी आदि समाचार पत्रों का प्रकाश हुआ। आज हिंदी के समाचार पत्र सबसे अधिक प्रकाशित होते हैं। समाचार पत्रों के अनेक रूप हैं-दैनिक, साप्ताहिक, पाक्षिक और मासिक इनके प्रकाशन की प्रक्रिया जटिल होती है। विज्ञान के नित नए आविष्कारों से समाचार पत्रों के प्रकाशन में क्रांति आ गई है। ये दिन चढ़ते ही घर-घर में पहुँच जाते हैं। ये फुटपाथों, बस अड्डों, रेलवे स्टेशनों, हवाई अड्डों और विभिन्न स्टॉलों पर उपलब्ध होते हैं। समाचार पत्र समाचारों की जानकारी के सर्वोत्तम साधन हैं। रेडियो और टेलीविज़न से समाचारों की जानकारी मिल जाती है परंतु उन्हें जानने का समय निर्धारित होता है। उन्हें केवल सुना या देखा जा सकता है। समाचार पत्रों में प्रकाशित समाचारों को सुविधानुसार पढ़ा जा सकता है। इनका रूप लिखित होता है। इनमें स्थायित्व होता है। ये केवल एक दिन के लिए ही उपयोगी नहीं होते अपितु इन्हें विभिन्न जानकारियाँ प्राप्त करने के लिए वर्षों तक सुरक्षित रखा जा सकता है। समाचार पत्रों में मात्र समाचार ही प्रकाशित नहीं होते अपितु जीवन के विभिन्न क्षेत्रों से संबंधित सूचनाएँ भी प्रकाशित होती हैं।

**SubQuestion No : 20**

**Q.20 समाचार पत्रों में प्रकाशित समाचारों का रूप कैसा होता है?**

- Ans  A. मौखिक  
 B. लिखित  
 C. दृश्यात्मक  
 D. सांकेतिक

Question ID : 1034352729

**Section : Discipline1**

**Q.1 निम्नलिखित में से कौन सा बच्चे के व्यक्तिगत और सामाजिक समायोजन के लिए खतरनाक हो सकता है?**

- I. बच्चों पर उन खेलों को खेलने के लिए दबाव डालना जो उनके लिंग के लिए उपयुक्त माने जाते हैं  
II. उन्हें विशेष रूप से स्वस्थ भोजन खिलाना

- Ans  A. केवल II  
 B. I तथा II दोनों  
 C. ना ही I ना ही II  
 D. केवल I

Question ID : 1034352733

**Q.2 खेल के संदर्भ में, स्वतंत्रता के वातावरण की स्थापना के संदर्भ में निम्नलिखित में से कौन सा कथन सही नहीं है?**

- Ans  A. स्वतंत्रता प्रदान करना जब बच्चा अपने सबसे आक्रामक और विनाशकारी आवेगों को बाहर निकालता है  
 B. खाली समय में बच्चे को वह करने के लिए स्वतंत्र किया जाना चाहिए जो वह करना चाहता/चाहती हैं  
 C. बच्चों से न बोले कि क्या करें और क्या न करें  
 D. खेल नहीं रहे डरपोक बच्चों को खेलने के लिए प्रोत्साहित करें

Question ID : 1034352732

Q.3 With respect to the eating habits of preschooler which of the following statement is correct?

- Ans  A. Both preschooler and infant eats equally in proportion to their size  
 B. The eating habits of preschooler and infants in proportion to their size is random  
 C. Preschooler eats more in proportion to their size than infants  
 D. Preschooler eat less in proportion to their size than infants

Question ID : 1034352734

Q.4 प्रारंभिक बाल्यावस्था में, सोने का समय \_\_\_\_\_ दुश्चिंता का एक रूप ला सकता है और बच्चा इससे बचने के लिए वह सब कुछ कर सकता है जो वह कर सकता है।

- Ans  A. वियोगज  
 B. सांस्कृतिक  
 C. घबराहट विकार  
 D. सामाजिक

Question ID : 1034352735

Q.5 सामाजिक मानदंडों का उल्लंघन करने वाले पुनरावृत्ति, असामाजिक कार्य (बर्बरता, बलात्कार आदि) किस विकार के अंतर्गत आते हैं?

- Ans  A. मनोग्रस्ति - बाध्यता विकार  
 B. विरुद्धक अवज्ञाकारी विकार  
 C. अवसाद  
 D. आचरण विकार

Question ID : 1034352747

Q.6 लड़कों के लिए बंदूकें और लड़कियों के लिए गुड़िया किस प्रकार की रूढ़िवादी धारणा को दर्शाती है?

- Ans  A. व्यक्तियों का समूहन रूढ़िवादी धारणा  
 B. जेंडर सम्बन्धी रूढ़िवादी धारणा  
 C. नस्लीय रूढ़िवादी धारणा  
 D. सांस्कृतिक रूढ़िवादी धारणा

Question ID : 1034352731

Q.7 निम्नलिखित में से कौन सा कथन सही है?

- I. मध्य बाल्यावस्था के दौरान बच्चों के सहभागी समूह आमतौर पर सभी लड़कियां या सभी लड़के होते हैं  
II. मध्य बाल्यावस्था में लड़कियां लड़कों की तुलना में अधिक परिपक्व होती हैं

- Ans  A. I तथा II दोनों  
 B. केवल II  
 C. केवल I  
 D. ना ही I ना ही II

Question ID : 1034352744

Q.8 दत्तक परिवारों के बारे में निम्नलिखित में से कौन सा कथन सही है?

- I. शैशवावस्था के दौरान गोद लिए गए बच्चों में समायोजन की समस्या होने की संभावना अधिक होती है  
II. विदेश में जन्मे बच्चे को गोद लेने से कई मुश्किलें आती हैं

- Ans  A. केवल II  
 B. I तथा II दोनों  
 C. केवल I  
 D. ना ही I ना ही II

Question ID : 1034352745

Q.9 निम्नलिखित में से कौन सा कथन सही है?

- I. निद्रा भीति का स्मरण 2 दिनों तक बना रहता है।  
II. लगातार बुरे सपने अत्यधिक तनाव का संकेत देते हैं।

- Ans  A. केवल II  
 B. I तथा II दोनों  
 C. केवल I  
 D. ना ही I ना ही II

Question ID : 1034352736

Q.10 The term used for the quality to differentiate between bigger or smaller and more or less is

- Ans  A. Cardinality  
 B. Centration  
 C. Ordinality  
 D. Conservation

Question ID : 1034352739

Q.11 संज्ञानात्मक विकास के सन्दर्भ में, मात्रात्मक आयाम के साथ वस्तुओं को व्यवस्थित करने की क्षमता को \_\_\_\_\_ कहा जाता है।

- Ans  A. सकर्मक अनुमान  
 B. आगमनात्मक तर्क  
 C. क्रमबद्धता  
 D. वर्ग समावेश

Question ID : 1034352741

Q.12 कोह्लबर्ग के नैतिक विकास के परम्परागत चरण के बारे में निम्नलिखित में से कौन सा सही है?

- Ans  A. सामाजिक नियम एक क्रिया की नैतिकता को परिभाषित करते हैं  
 B. परिणाम परिभाषित करता है कि कोई क्रिया अच्छी है या बुरी है  
 C. यदि जरूरतें पूरी हुई हैं, तो क्रिया अच्छी थी  
 D. नैतिक सिद्धांत एक क्रिया की अच्छाई को परिभाषित करते हैं

Question ID : 1034352748



Q.13 In Baddeley's model \_\_\_\_\_ a element of working memory that controls the processing of information.

- Ans  A. Central executive  
 B. Medulla  
 C. Spinal cord  
 D. Cerebellum

Question ID : 1034352742

Q.14 निम्नलिखित में से कौन सा प्रारंभिक बाल्यावस्था के दौरान संज्ञानात्मक अग्रगति के अंतर्गत आता है?

- I. केंद्रीकरण  
II. प्रतीकों का उपयोग  
III. मस्तिष्क का सिद्धांत

- Ans  A. II तथा III  
 B. I तथा III  
 C. केवल I  
 D. I तथा II

Question ID : 1034352738

Q.15 बुद्धिमता का अनुभवात्मक तत्व \_\_\_\_\_ है।

- Ans  A. विश्लेषणात्मक  
 B. व्यावहारिक  
 C. घटकीय  
 D. रचनात्मक

Question ID : 1034352743

Q.16 Which parenting style value self-expression and self-regulation?

- Ans  A. Authoritative  
 B. Uninvolved  
 C. Permissive  
 D. Authoritarian

Question ID : 1034352750

Q.17 निम्नलिखित में से कौन सी वह स्मृति है जो परिचित दिनचर्या का आलेख तैयार करती है?

- I. अविशिष्ट स्मृति  
II. घटनापरक स्मृति

- Ans  A. केवल I  
 B. केवल II  
 C. ना ही I ना ही II  
 D. I तथा II दोनों

Question ID : 1034352740

Q.18 शरीर की छवि के बारे में चिंता अर्थात् \_\_\_\_ के दौरान किसी का रूप कैसे तेजी से महत्वपूर्ण हो जाता है।

I. किशोरावस्था

II. वृद्धावस्था

- Ans  A. केवल I  
 B. I तथा II दोनों  
 C. ना ही I ना ही II  
 D. केवल II

Question ID : 1034352737

Q.19 निम्नलिखित में से कौन सा स्व-अवधारणा के बारे में सही है?

I. किसी की क्षमताओं और लक्षणों की वर्णनात्मक मानसिक तस्वीर

II. किसी की क्षमताओं और लक्षणों की मूल्यांकनात्मक मानसिक तस्वीर

III. यह एक संज्ञानात्मक निर्माण नहीं है

- Ans  A. I तथा III  
 B. I तथा II  
 C. I, II तथा III  
 D. II तथा III

Question ID : 1034352749

Q.20 मध्य बाल्यावस्था में मित्रता के सन्दर्भ में किस आक्रमण का लक्ष्य एक उद्देश्य को प्राप्त करना है?

I. शत्रुतापूर्ण आक्रमण

II. नैमित्तिक आक्रमण

- Ans  A. केवल I  
 B. ना ही I ना ही II  
 C. केवल II  
 D. I तथा II दोनों

Question ID : 1034352746

Section : Discipline2

Q.1 किसी देश के प्रति सरकार के कर्तव्यों के बारे में निम्नलिखित में से कौन सा कथन सही है?

I. देश की सीमाओं की सुरक्षा

II. अच्छी स्वास्थ्य सुविधाएं सुनिश्चित करना

III. प्राकृतिक आपदा के बाद प्रभावित लोगों के लिए सहायता।

- Ans  A. II तथा III  
 B. I, II तथा III  
 C. I तथा II  
 D. केवल I

Question ID : 1034352755

Q.2 कौन सी चिकित्सा उन बच्चों , जो चोट या विकलांगता से प्रभावित हैं, को चलने-फिरने, व्यायाम और मैनुअल चिकित्सा के माध्यम से मदद करती है?

- Ans  A. व्यावसायिक चिकित्सा  
 B. भौतिक चिकित्सा  
 C. संज्ञानात्मक व्यवहारिक चिकित्सा  
 D. वाक उप चिकित्सा

Question ID : 1034352758

Q.3 भारत में, विकलांग बच्चों के लिये एकीकृत शिक्षा के लिए केंद्र प्रायोजित योजना \_\_\_\_\_ में लोकार्पित की गई थी।

- Ans  A. 1992  
 B. 1980  
 C. 1974  
 D. 1995

Question ID : 1034352759

Q.4 जब शिक्षक \_\_\_\_\_ हो, तो बेहतर होगा कि छात्रों को शिक्षक के सामने अर्धवृत्ताकार रूप में बैठाया जाए।  
I. कविताएँ पढ़ रहा  
II. प्रयोग कर रहा

- Ans  A. केवल II  
 B. ना ही I ना ही II  
 C. केवल I  
 D. I तथा II दोनों

Question ID : 1034352765

Q.5 Which of the following statement is correct regarding the e-pathshala mobile application?

- I. This application was launched by Union Ministry of Education in 2016.  
II. All the digital textbooks of NCERT can be freely accessed.  
III. The application interface is available in English and Hindi only.

- Ans  A. Only I  
 B. I and II  
 C. Only II  
 D. I, II and III

Question ID : 1034352770

Q.6 निम्नलिखित में से कौन से अनुकरण के लिए प्रतीकात्मक आदर्शों का प्रतिनिधित्व करते हैं?

- Ans  A. हास्य पात्र  
 B. शिक्षक  
 C. सहोदर  
 D. रिश्तेदार

Question ID : 1034352762

Q.7 निम्नलिखित में से कौन सी सुझावात्मक हस्तक्षेप रणनीति अनुसूचित जाति के बच्चों को विद्यालयों में शामिल करने से संबंधित मुद्दों को संबोधित करने में मदद कर सकती है?

- I. बच्चों की उपस्थिति और प्रतिधारण की निगरानी नियमित रूप से की जानी चाहिए।  
II. अनुसूचित जाति के बच्चों के साथ काम करने के अनुभव वाले अनुसूचित जाति के शिक्षकों की भर्ती।

- Ans  A. I तथा II दोनों  
 B. केवल II  
 C. केवल I  
 D. ना ही I ना ही II

Question ID : 1034352757

Q.8 यदि बच्चा 'A' मानसिक बीमारी से पीड़ित है, तो वह \_\_\_\_ को छोड़कर सभी दिए गये अभिलक्षणों को दर्शाएगा।

- Ans  A. व्यवहार परिवर्तन  
 B. ध्यान केंद्रित करने में कठिनाई  
 C. अस्पष्टीकृत वजन बढ़ना या घटना  
 D. खाना निगलने में समस्या

Question ID : 1034352760

Q.9 In schools, quantitative data can be in the form of \_\_\_\_\_.

- Ans  A. appraisal  
 B. memorandum  
 C. circulars  
 D. report cards

Question ID : 1034352768

Q.10 Which type of motivation is driven by an interest or enjoyment?

- I. Intrinsic motivation  
II. Extrinsic motivation

- Ans  A. Only II  
 B. Neither I nor II  
 C. Both I and II  
 D. Only I

Question ID : 1034352764

Q.11 बाल विवाह प्रतिषेध अधिनियम, 2006, बाल विवाह को प्रतिबंधित करता है। इस अधिनियम के अंतर्गत, \_\_\_\_\_ लड़कियों की शादी के लिए कानूनी आयु है।

- Ans  A. 20 वर्ष  
 B. 18 वर्ष  
 C. 22 वर्ष  
 D. 16 वर्ष

Question ID : 1034352756

Q.12 शिशु विद्यालय स्तर पर सफल समावेशन के लिए निम्नलिखित में से कौन सा आवश्यक है?

- I. पाठ्यक्रम नम्य और सुलभ होना चाहिए
- II. केंद्र का भौतिक वातावरण बाधा रहित होना चाहिए
- III. शिशु विद्यालय कार्यक्रमों में शामिल कर्मियों को समावेशी शिक्षा पर गहन प्रशिक्षण होना चाहिए

- Ans
- A. II तथा III
  - B. I, II तथा III
  - C. I तथा II
  - D. केवल I

Question ID : 1034352761

Q.13 सह-पाठ्यचर्या गतिविधियों में \_\_\_\_ को छोड़कर दी गयी सभी गतिविधिया शामिल हैं।

- Ans
- A. शिक्षण
  - B. प्रदर्शनी
  - C. वाद-विवाद
  - D. नृत्य

Question ID : 1034352763

Q.14 निम्नलिखित में से कौन विद्यालयों पर प्रशासनिक नियंत्रण रखने के लिए स्थानीय प्राधिकरण में शामिल है?

- I. जिला परिषद्
- II. नगर निगम

- Ans
- A. केवल I
  - B. I तथा II दोनों
  - C. ना ही I ना ही II
  - D. केवल II

Question ID : 1034352754

Q.15 कक्षा की भौतिक स्थितियों के सन्दर्भ में निम्नलिखित में से कौन सा कथन सही है?

- I. छात्रों को कक्षा की नियमित सफाई के लिए शामिल किया जा सकता है।
- II. कक्षा में वायु-संचालन की कमी छात्रों की एकाग्रता को प्रभावित करती है।

- Ans
- A. ना ही I ना ही II
  - B. I तथा II दोनों
  - C. केवल I
  - D. केवल II

Question ID : 1034352767

Q.16 अवलोकन मानव अधिगम की एक सामान्य और प्राकृतिक पद्धति है। अवलोकनात्मक अधिगम के सन्दर्भ में निम्नलिखित में से कौन सा कथन सही है?

- I. इसे स्थानापन्न अधिगम के रूप में भी जाना जाता है।  
II. पुनः निर्माण की गतिक प्रक्रिया अवलोकनात्मक अधिगम में शामिल होती है।

- Ans  A. केवल I  
 B. केवल II  
 C. ना ही I ना ही II  
 D. I तथा II दोनों

Question ID : 1034352766

Q.17 बेगम हजरत महल ने \_\_\_\_\_ से 1857 के विद्रोह का नेतृत्व किया था।

- Ans  A. मेरठ  
 B. अवध  
 C. दिल्ली  
 D. झांसी

Question ID : 1034352752

Q.18 Information and Communication Technologies comprises of which of the following components?

- I. Information and Communication Infrastructure  
II. Information technology  
III. Communication technology

- Ans  A. I, II and III  
 B. I and II  
 C. II and III  
 D. I and III

Question ID : 1034352769

Q.19 निःशुल्क और अनिवार्य बाल शिक्षा का अधिकार अधिनियम, 2009 \_\_\_\_\_ राज्य को छोड़कर पूरे भारत में लागू है।

- Ans  A. असम  
 B. उत्तराखंड  
 C. जम्मू और कश्मीर  
 D. मेघालय

Question ID : 1034352753

Q.20 ब्रिटिश भारत में वर्नाक्यूलर प्रेस अधिनियम \_\_\_\_\_ में पारित किया गया था।

- Ans  A. 1878  
 B. 1877  
 C. 1856  
 D. 1872

Question ID : 1034352751

Q.1 निम्नलिखित में से कौन सा ई-पोर्टफोलियो आंकलन का सही अभिलक्षण नहीं है?

- I. यह केवल संकलनात्मक आंकलन के लिए जानकारी प्रदान करता है।  
II. पोर्टफोलियो छात्रों के वर्तमान में चल रहे कार्यों के नमूने प्रदान करते हैं।

- Ans  A. ना ही I ना ही II  
 B. I तथा II दोनों  
 C. केवल I  
 D. केवल II

Question ID : 1034352771

Q.2 निम्नलिखित में से कौन सा कथन सही है?

- I. भाषा के शिक्षण के समय बच्चे के सामान्य संज्ञानात्मक विकास पर ध्यान केन्द्रित नहीं करना चाहिए।  
II. भाषा के शिक्षण के समय विषय का चुनाव महत्वहीन होता है।

- Ans  A. केवल I  
 B. ना ही I ना ही II  
 C. I तथा II दोनों  
 D. केवल II

Question ID : 1034352777

Q.3 पर्यावरण अध्ययन में अधिगम का आंकलन करने के लिए निम्नलिखित में से किस तकनीक का उपयोग किया जा सकता है?

- I. मौखिक तकनीक  
II. निष्पादन परीक्षण

- Ans  A. ना ही I ना ही II  
 B. I तथा II दोनों  
 C. केवल I  
 D. केवल II

Question ID : 1034352789

Q.4 बज्ज समूह एक छोटा समूह होता है, जिसमें \_\_\_\_\_ छात्र होते हैं।

- Ans  A. दो से चार  
 B. तीन से छह  
 C. चार से आठ  
 D. छह से आठ

Question ID : 1034352788

Q.5 निम्नलिखित में से कौन सा कथन उन संक्रियाओं का प्रतिनिधित्व करता है जो एक भिन्न पर की जा सकती हैं?

I. सरलतम रूप में कम करना।

II. विषम भिन्नों को मिश्रित भिन्नों में और इसके विपरीत परिवर्तित करना।

- Ans
- A. ना ही I ना ही II
  - B. केवल I
  - C. I तथा II दोनों
  - D. केवल II

Question ID : 1034352785

Q.6 टीएलएम का पूर्ण रूप \_\_\_\_\_ है।

- Ans
- A. टीचिंग- लर्निंग मॉड्यूल
  - B. टोटल लर्निंग मीटर
  - C. टोटल लिसनिंग मटेरियल
  - D. टीचिंग- लर्निंग मटेरियल

Question ID : 1034352782

Q.7 शिक्षा आयोग(1964-66) द्वारा प्रस्तावित कक्षा 10 तक त्रिभाषा सूत्र के अनुसार निम्नलिखित में से कौन सा कथन सही है?

I. विद्यालय में पहली भाषा जो पढाई जानी चाहिए वह मातृभाषा या क्षेत्रीय भाषा होनी चाहिए।

II. हिंदी भाषी राज्यों में दूसरी भाषा कोई भी आधुनिक भाषा या अंग्रेजी होनी चाहिए।

- Ans
- A. केवल I
  - B. केवल II
  - C. ना ही I ना ही II
  - D. I तथा II दोनों

Question ID : 1034352775

Q.8 निम्नलिखित में से कौन सा कथन सही है?

I. आंकड़ें निश्चित संबंधित निष्कर्ष तक पहुंचने के उद्देश्य से व्यवस्थित तरीके से एकत्र की गई जानकारी है।

II. आंकड़ों का संचालन केवल अंकगणित करना है

- Ans
- A. केवल II
  - B. ना ही I ना ही II
  - C. I तथा II दोनों
  - D. केवल I

Question ID : 1034352783

Q.9 निम्नलिखित में से किस समिति ने महत्वपूर्ण रूप से टिप्पणी की कि "ग्रामीण बच्चों के उच्च शिक्षा तक पहुँचने में सक्षम नहीं होने का एक महत्वपूर्ण कारण, अंग्रेजी का निरंतर प्रभुत्व है।"?

- Ans
- A. चक्रवर्ती समिति
  - B. नरसिंहम समिति
  - C. उर्जित पटेल समिति
  - D. राममूर्ति समिति

Question ID : 1034352780



Q.10 डिस्लेक्सिया \_\_\_\_\_ विकार को संदर्भित करता है।

- Ans  A. पठन  
 B. लेखन  
 C. चलने के  
 D. निद्रा

Question ID : 1034352781

Q.11 निम्नलिखित में से कौन सा कथन सही है?

- I. कहानी सुनाने और पढ़ने में कोई अंतर नहीं है।  
II. कहानी सुनाने और पढ़ने दोनों का स्वर-शैली प्रतिरूप एक समान होता है।

- Ans  A. केवल I  
 B. केवल II  
 C. ना ही I ना ही II  
 D. I तथा II दोनों

Question ID : 1034352778

Q.12 निम्नलिखित में से कौन सा कथन सही है?

- Ans  A. बच्चे पैदा होने के समय से ही आवाज नहीं सुन सकते हैं।  
 B. बच्चों में आवाज निकालने का अभ्यास नहीं देखा जाता है।  
 C. बच्चे आवाज से नहीं खेलते हैं।  
 D. छोटे बच्चे अपने आसपास के लोगों के उच्चारण को ग्रहण कर लेते हैं।

Question ID : 1034352776

Q.13 निम्नलिखित में से कौन सा कथन सही है?

- I. छंटाई समान चीजों को एक साथ रखना है।  
II. मिलान कुछ सामान्य गुणधर्म की तलाश करना है और उन चीजों को इकट्ठा करना है जिनके पास वह गुणधर्म है।

- Ans  A. केवल I  
 B. केवल II  
 C. ना ही I ना ही II  
 D. I तथा II दोनों

Question ID : 1034352784

Q.14 अवलोकनात्मक अधिगम को \_\_\_\_\_ के रूप में भी जाना जाता है।

- I. स्थानापन्न अधिगम  
II. आदर्शात्मक अधिगम

- Ans  A. केवल I  
 B. ना ही I ना ही II  
 C. I तथा II दोनों  
 D. केवल II

Question ID : 1034352772

Q.15 कक्षा III-V के लिए पर्यावरण अध्ययन पाठ्यक्रम छह सामान्य विषयों के इर्द-गिर्द लिखा गया है। निम्नलिखित में से कौन सा पर्यावरण अध्ययन पाठ्यक्रम के उन विषयों में से एक नहीं है?

- Ans  A. भोजन  
 B. जैव प्रौद्योगिकी  
 C. आश्रय  
 D. पानी

Question ID : 1034352790

Q.16 निम्नलिखित में से कौन सा कथन सही है?

- I. यह कहना कोई अतिशयोक्ति नहीं है कि सम्पूर्ण गणित में प्रमाण का विचार सबसे महत्वपूर्ण विचार है।  
II. किसी कथन के गणितीय प्रमाण में एक से अधिक चरण नहीं होते हैं जो उस कथन के समर्थन के लिए गणितीय रूप से स्वीकार्य साक्ष्य बनाते हैं।

- Ans  A. केवल I  
 B. केवल II  
 C. I तथा II दोनों  
 D. ना ही I ना ही II

Question ID : 1034352786

Q.17 कुछ मानक भाषा का मानकीकरण \_\_\_\_\_ की प्रक्रिया से अत्यधिक संबंधित है।

- I. सामाजिक शोषण  
II. सामाजिक जागृति

- Ans  A. I तथा II दोनों  
 B. ना ही I ना ही II  
 C. केवल I  
 D. केवल II

Question ID : 1034352779

Q.18 निम्नलिखित में से कौन सा गणित में एक मुक्त पद है?

- Ans  A. 58 के 8 से विभाजन की गणना करें  
 B. 78, 83 और 91 का औसत ज्ञात कीजिए  
 C. 10, 15 और 85 का सबसे बड़ा सामान्य गुणनखंड ज्ञात कीजिए  
 D. 20 सेमी परिमाप वाला एक आयत बनाइए

Question ID : 1034352787

Q.19 \_\_\_ के अलावा, सभी कक्षा प्रक्रियाओं में शामिल प्रमुख घटक हैं।

- Ans  A. कक्षा संचालन  
 B. शिक्षक के प्रदर्शन का मूल्यांकन  
 C. छात्र के अधिगमका आकलन  
 D. अपेक्षित अधिगम परिणाम

Question ID : 1034352774

Q.20 वीमर (2002) के अनुसार अधिगम केन्द्रित शिक्षा प्राप्ति के लिए पाँच अभ्यास हैं जिन्हें बदलने की आवश्यकता है। निम्नलिखित में से कौन सा उन अभ्यासों में से एक नहीं है?

- Ans  A. अधिगम की जिम्मेदारी  
 B. कक्षा की संस्कृति  
 C. विषय-वस्तु का कार्य  
 D. शक्ति संतुलन

Question ID : 1034352773

Section : Discipline4

Q.1 अल्बर्ट बंडुरा का सामाजिक संज्ञानात्मक अधिगम सिद्धांत (1971) व्यक्तित्व को \_\_\_\_\_ के बीच एक अंतःक्रिया के रूप में देखता है।

- I. पर्यावरण  
II. व्यवहार

- Ans  A. I तथा II दोनों  
 B. ना ही I ना ही II  
 C. केवल II  
 D. केवल I

Question ID : 1034352810

Q.2 Environmental Studies at primary level possesses some special characteristics which other subjects do not possess. Which of the following are those characteristics?

- I. 'Values' are an integral component of Environmental Studies.  
II. Environmental Studies is teacher centred.  
III. Environmental Studies is contextual.

- Ans  A. I, II and III  
 B. Only I  
 C. II and III  
 D. I and III

Question ID : 1034352792

Q.3 योग के संदर्भ में, निम्नलिखित में से कौन सा युग्म सही ढंग से सुमेलित है?

- I. भक्ति योग - पूजा की विधि, इसमें ईश्वर का अंतहीन और प्रेमपूर्ण स्मरण शामिल होता है।  
II. कर्म योग - स्वयं के बारे में सच्चा ज्ञान प्राप्त करने का मार्ग।

- Ans  A. ना ही I ना ही II  
 B. केवल II  
 C. केवल I  
 D. I तथा II दोनों

Question ID : 1034352807

Q.4 निम्नलिखित में से कौन सा अध्ययन के लिए सहकारी अधिगम का उपयोग करने का लाभ नहीं है?

- Ans
- A. यह शिक्षार्थियों के बीच विश्लेषणात्मक चिंतन को सुगम बनाता है
  - B. यह शिक्षार्थियों को अलग तरह से प्रतिक्रिया देने में सक्षम बनाता है
  - C. यह समस्या समाधान कौशल को बढ़ाता है
  - D. यह शिक्षार्थियों को एकल दृष्टिकोण के अन्वेषण करने का अवसर प्रदान करता है

Question ID : 1034352791

Q.5 दृश्य कला और शिल्प की पद्धतियों में, निम्नलिखित में से कौन-सा युग्म सही ढंग से सुमेलित नहीं है?

- I. ओरिगामी - एक जापानी पेपर फोल्डिंग आर्ट
- II. मुखौटा - मंदाना और अल्पना

- Ans
- A. केवल II
  - B. ना ही I ना ही II
  - C. केवल I
  - D. I तथा II दोनों

Question ID : 1034352802

Q.6 पर्यावरण अध्ययन में आंकलन के लिए खुली किताब परीक्षा के सन्दर्भ में निम्नलिखित में से कौन सा कथन सही है?

- I. अनावश्यक रट कर सिखने को हतोत्साहित करता है
- II. बच्चे अपने उत्तर पुस्तकों की सहायता से लिख सकते हैं
- III. बच्चों के युग्म एक बहु समस्याओं पर काम करते हैं

- Ans
- A. केवल I
  - B. I तथा II
  - C. I तथा III
  - D. केवल II

Question ID : 1034352793

Q.7 निम्नलिखित में से कौन सा कथन साहित्यिक गतिविधि का वर्णन करता है?

- I. गतिविधियाँ जो शारीरिक विकास और शारीरिक स्वास्थ्य से संबंधित हैं।
- II. इसमें वाद-विवाद, लेख लिखना और नाट्यकरण जैसी गतिविधियाँ शामिल हैं।

- Ans
- A. ना ही I ना ही II
  - B. केवल I
  - C. I तथा II दोनों
  - D. केवल II

Question ID : 1034352804

Q.8 एक सामाजिक विज्ञान शिक्षक सामाजिक विज्ञान पाठ्यक्रम के अंतर्गत किसी एक विषय को पढ़ाने के लिए नाट्यकरण के आयोजन की योजना बना रहा है। किस नाटक का मंचन करने का निर्णय लेने से पहले शिक्षक को निम्नलिखित में से किस कारक को ध्यान में रखना होगा?

- I. विद्यालय के दर्शन को समझना
- II. समय की उपलब्धता
- III. कार्यान्वयन में शामिल लागत

- Ans
- A. केवल I
  - B. I तथा II
  - C. I, II तथा III
  - D. I तथा III

Question ID : 1034352798

Q.9 निम्नलिखित में से किस गतिविधि में व्यापक शैक्षिक क्षमता है?

- I. छात्र स्वशासन के माध्यम से नागरिक शास्त्र में प्रायोगिक पाठ दिए जा सकते हैं।
- II. विद्यालयी पत्रिकाएँ छात्रों को सशक्त और प्रभावी ढंग से लिखने की कला सिखाती हैं।

- Ans
- A. ना ही I ना ही II
  - B. केवल II
  - C. I तथा II दोनों
  - D. केवल I

Question ID : 1034352805

Q.10 किशोरावस्था के वैज्ञानिक अध्ययन का जनक किसे वर्णित किया जाता है?

- Ans
- A. लेटा हॉलिंगवर्थ
  - B. अरस्तू
  - C. मारिटे मीड
  - D. जी. स्टेनली हॉल

Question ID : 1034352809

Q.11 निम्नलिखित में से कौन सा कथन 'एकलव्य' की नागरिक शास्त्र पुस्तक के सन्दर्भ में सही है?

- I. यह उस दृष्टि पर आधारित है जिसमें लोगों की भी आवाज होती है।
- II. यह एक पितृकल्पीय अवस्था के दृष्टिकोण से लिखी गयी थी।

- Ans
- A. केवल I
  - B. I तथा II दोनों
  - C. ना ही I ना ही II
  - D. केवल II

Question ID : 1034352796

Q.12 निम्नलिखित में से कौन सा प्रदर्शन कला का प्रकार है?

- I. नृत्य
- II. कठपुतली का खेल

- Ans
- A. केवल I
  - B. ना ही I ना ही II
  - C. केवल II
  - D. I तथा II दोनों

Question ID : 1034352799

Q.13 सामाजिक विज्ञान विषयों को तीन शाखाओं या शीर्षकों के अंतर्गत वर्गीकृत किया जा सकता है। निम्नलिखित में से कौन सा सही ढंग से सुमेलित है?

- I. शुद्ध सामाजिक विज्ञान - मानव विज्ञान
- II. अर्ध सामाजिक विज्ञान - भाषाविज्ञान
- III. सामाजिक निहितार्थ वाले विज्ञान - भूगोल

- Ans
- A. I तथा II
  - B. I तथा III
  - C. I, II तथा III
  - D. केवल II

Question ID : 1034352797

Q.14 Debates and discussion are the example of which type of curricular activity?

- Ans
- A. Literary
  - B. Social welfare
  - C. Physical development
  - D. Aesthetic and cultural

Question ID : 1034352803

Q.15 भूगोल के विषय का अध्ययन कई विशेष शाखाओं के माध्यम से किया जाता है। निम्नलिखित में से कौन सा मानव भूगोल की श्रेणी के अंतर्गत नहीं आता है?

- Ans
- A. सांस्कृतिक भूगोल
  - B. पर्यावरण भूगोल
  - C. राजनीतिक भूगोल
  - D. आर्थिक भूगोल

Question ID : 1034352794

Q.16 निम्नलिखित में से कौन सी गतिविधि सकल गतिक(मोटर) विकास को बढ़ावा देती है?

- I. दौड़ने वाले खेल
- II. वाद-विवाद और चर्चा
- III. पेड़ पर चढ़ना

- Ans
- A. I, II तथा III
  - B. II तथा III
  - C. I तथा III
  - D. I तथा II

Question ID : 1034352806

Q.17 Artist who participate in performing arts in front of an audience are called \_\_\_\_\_.

- Ans
- A. performer
  - B. driver
  - C. manufacturer
  - D. manager

Question ID : 1034352800

Q.18 निम्नलिखित में से किस पहलू में सामाजिक विज्ञान सामाजिक अध्ययन से अलग है?

- I. संरचना
- II. दृष्टिकोण
- III. कार्य का क्षेत्र

- Ans
- A. केवल II
  - B. I, II तथा III
  - C. केवल III
  - D. I तथा II

Question ID : 1034352795

Q.19 निम्नलिखित में से कौन सा अभ्यास योग में शामिल है?

- I. प्राणायाम
- II. प्रत्याहार
- III. क्रिया

- Ans
- A. I, II तथा III
  - B. I तथा II
  - C. II तथा III
  - D. I तथा III

Question ID : 1034352808

Q.20 कला शिक्षा किस प्रकार शैक्षिक उपलब्धि में सहायक हो सकती है?

- I. कला कक्षाओं में शामिल छात्र विद्यालय में बेहतर प्रदर्शन करते हैं।  
II. कला कक्षाओं में शामिल छात्रों में चिंतन की क्षमता अधिक होती है।

- Ans  A. ना ही I ना ही II  
 B. केवल II  
 C. I तथा II दोनों  
 D. केवल I

Question ID : 1034352801

Section : Discipline5

Q.1 विभिन्न विषयों के शिक्षण में सामाजिक निहितार्थ हैं और ये वास्तविक जीवन स्थितियों से संबंधित हो सकते हैं, आप एक शिक्षक के रूप में इन संबंधों का उपयोग एकीकृत तरीके से शिक्षा को बढ़ावा देने के लिए कर सकते हैं। निम्नलिखित में से कौन से वे विषय हैं?

- I. पर्यावरण विज्ञान  
II. भाषाएँ  
III. अंकगणित

- Ans  A. केवल III  
 B. केवल II  
 C. I, II तथा III  
 D. I तथा II

Question ID : 1034352826

Q.2 निम्नलिखित में से कौन सा कथन सही है?

- I. अनुरूपता सामान्यता की ओर ले जाती है  
II. जीवन में आराम की चाह से जीवन में सहजता समाप्त नहीं होती है

- Ans  A. केवल I  
 B. ना ही I ना ही II  
 C. I तथा II दोनों  
 D. केवल II

Question ID : 1034352821

Q.3 निम्नलिखित में से कौन सा संयोजन सही नहीं है?

- I. माता-पिता की भागीदारी - बच्चों के पारिवारिक जीवन में महत्वपूर्ण भूमिका निभाने वाले वयस्कों को शामिल करने के लिए व्यापक रूप से व्याख्या की जा सकती है  
II. 'विद्यालयों में शिक्षक' - बच्चों और परिवारों की सेवा करने वाले शिक्षकों और अन्य कार्यक्रम कार्यकर्ताओं को शामिल करने के लिए व्यापक रूप से व्याख्या की जा सकती है

- Ans  A. केवल I  
 B. ना ही I ना ही II  
 C. केवल II  
 D. I तथा II दोनों

Question ID : 1034352828



Q.4 आप एक शिक्षक के रूप में विद्यालय के बच्चों, युवाओं, वयस्कों आदि के लिए सामुदायिक कार्यक्रम आयोजित कर सकते हैं और इन्हें विद्यालयों या समुदाय में आयोजित किया जा सकता है। इन कार्यक्रमों की प्रकृति \_\_\_\_\_ को संदर्भित करती है।

- I. वयस्क शिक्षा
- II. सांस्कृतिक गतिविधियां
- III. स्वच्छता

Ans  A. I, II तथा III

B. केवल III

C. केवल II

D. I तथा II

Question ID : 1034352827

Q.5 Grooming and cleaning comes under which aspect of health?

Ans  A. Emotional health

B. Social health

C. Physical health

D. Mental health

Question ID : 1034352812

Q.6 भारतीय संविधान की कौन सी अनुसूची पंचायत निकायों को 'प्राथमिक और माध्यमिक विद्यालय, तकनीकी प्रशिक्षण और व्यावसायिक शिक्षा, व्यस्क और अनौपचारिक शिक्षा, पुस्तकालय और सांस्कृतिक गतिविधियों को शामिल करती हुई शिक्षा' की देखभाल करने की जिम्मेदारी सौंपती है ?

Ans  A. 11 वीं

B. 5 वीं

C. 10 वीं

D. 8 वीं

Question ID : 1034352825

Q.7 Which of the following statement is correct?

I. Implicit in right education is cultivation of freedom and intelligence.

II. In right education, the cultivation of freedom and intelligence is possible only if there is any form of compulsion.

Ans  A. Only I

B. Both I and II

C. Neither I nor II

D. Only II

Question ID : 1034352822

Q.8 कक्षा में छात्रों की सीटें बदलने से क्या लाभ है?

Ans  A. बच्चा कक्षा में हीन भावना महसूस नहीं करता है

B. बच्चे को स्वतंत्र और अधिक आत्मविश्वासी बनाता है

C. नए आने वाले छात्रों का स्वागत होता है और विद्यालय और कक्षा की गतिविधियों में शामिल किया जाता है

D. यह सामाजिक अंतःक्रिया और संवेगनात्मक बंधन को बढ़ावा देता है

Question ID : 1034352813

Q.9 'सभी चीजों के अर्थ और उद्देश्य की गहन अंतर्दृष्टि का अभ्यास' शारीरिक शिक्षा के किस परिणाम के अंतर्गत आता है?

- Ans  A. भावनात्मक संतुलन  
 B. आध्यात्मिक रूप से प्रबुद्ध  
 C. मानसिक रूप से शक्तिशाली  
 D. सामाजिक रूप से सक्षम

Question ID : 1034352814

Q.10 पारिवारिक सामुदायिक जुड़ाव निम्नलिखित में से किस पर सकारात्मक प्रभाव दिखाता है?

- I. उपस्थिति  
II. ड्रॉप-आउट दर  
III. उच्च जोखिम व्यवहार

- Ans  A. केवल I  
 B. I, II तथा III  
 C. II तथा III  
 D. केवल III

Question ID : 1034352830

Q.11 निम्नलिखित में से कौन सा सुव्यवस्थित विकास के अंतर्गत आता है?

- Ans  A. उत्साह बढ़ाने के लिए दौड़ना, कूदना और रस्सी कूदना  
 B. आयु के अनुसार शारीरिक गतिविधि  
 C. शरीर के सभी अंगों का समान मात्रा में व्यायाम करें  
 D. जेंडर के अनुसार शारीरिक गतिविधि

Question ID : 1034352815

Q.12 युवा(YUVA) विद्यालयी जीवन कौशल कार्यक्रम के सन्दर्भ में निम्नलिखित में से कौन सा कथन सही है?

- I. यह युवाओं की जरूरतों को पूरा करने वाला एक व्यापक कार्यक्रम है।  
II. 2005 के बाद से इस कार्यक्रम को संशोधित नहीं किया गया है।

- Ans  A. I तथा II दोनों  
 B. केवल I  
 C. ना ही I ना ही II  
 D. केवल II

Question ID : 1034352811

Q.13 ऍम.टी.ए का पूर्ण रूप क्या है?

- Ans  A. मदर ट्रेनिंग ट्रीटी  
 B. मदर टीचर एसोसिएशन  
 C. मदर ट्रेनिंग एसोसिएशन  
 D. मदर टीचर ट्रीटी

Question ID : 1034352824

Q.14 निम्नलिखित में से कौन सा कथन सही नहीं है?

- Ans  A. कार्य शिक्षा कार्यक्रम उपयोगी जीवन कौशल विकसित करना है  
 B. मूल्यांकन प्रक्रिया इस प्रकार होनी चाहिए कि बच्चे काम करना सीखें और ज्ञान प्राप्त करें  
 C. कार्य शिक्षा योजना में मूल्यांकन अप्रैरक हो सकता है  
 D. गतिविधियों के मूल्यांकन लिए अंक देने की तुलना में ग्रेड देना अधिक उपयुक्त है

Question ID : 1034352819

Q.15 विद्यालय समुदाय भागीदारी में \_\_\_\_\_ शामिल है।

- I. विद्यालय या पढ़ाई की सुविधाओं और उपकरणों का उपयोग  
II. संसाधनों को साझा करना

- Ans  A. ना ही I ना ही II  
 B. केवल II  
 C. केवल I  
 D. I तथा II दोनों

Question ID : 1034352829

Q.16 निम्नलिखित में से कौन सा कथन सही नहीं है?

- Ans  A. कार्य को शिक्षा में शामिल करके बच्चा मेहनत से किए गए काम पर गर्व कर सकता है  
 B. कार्य को शिक्षा में शामिल करने से विद्यालय की दिनचर्या में रचनात्मक परिवर्तन देखे जा सकते हैं  
 C. कार्य शिक्षा जीवन कौशल नहीं सिखाती है  
 D. कार्य को शिक्षा में सम्मिलित करने से बच्चा को सामुदायिक संसाधनों का अर्थपूर्ण ज्ञान प्राप्त होता है

Question ID : 1034352816

Q.17 निम्नलिखित में से कौन सा सही ढंग से सुमेलित है?

- Ans  A. नारियल फाइबर - अपशिष्ट पदार्थ  
 B. खाली माचिस - कम लागत वाली सामग्री  
 C. मिट्टी - प्रकृति से आसानी से उपलब्ध  
 D. चाकू - प्रकृति से आसानी से उपलब्ध

Question ID : 1034352817

Q.18 निम्नलिखित में से कौन सा कथन सही है?

- I. हमारे अचेतन भय को समझना और भंग करना आसान है।  
II. भय को अनुशासन, उच्च बनाने की क्रिया के माध्यम से, या इच्छा के किसी अन्य कार्य के माध्यम से खत्म नहीं किया जा सकता।

- Ans  A. I तथा II दोनों  
 B. केवल I  
 C. केवल II  
 D. ना ही I ना ही II

Question ID : 1034352823

Q.19 कार्य शिक्षा में गतिविधियों के चयन के लिए मानदंड और आधार के संबंध में, निम्नलिखित में से कौन से सही ढंग से सुमेलित हैं?

- I. कार्य शिक्षा का उद्देश्य - कार्य शिक्षा की प्रत्येक गतिविधि उद्देश्यपूर्ण और अर्थपूर्ण होनी चाहिए
- II. बच्चों की पृष्ठभूमि - बच्चों की शारीरिक बौद्धिक क्षमता
- III. छात्रों का स्तर - बच्चों का सामाजिक, सांस्कृतिक और आर्थिक वातावरण

Ans  A. केवल I

B. I, II तथा III

C. I तथा II

D. II तथा III

Question ID : 1034352818

Q.20 निम्नलिखित में से कौन सा सही ढंग से सुमेलित नहीं है?

Ans  A. बीज - अपशिष्ट पदार्थ

B. रेत - प्रकृति से आसानी से उपलब्ध सामग्री

C. स्पॉज - अपशिष्ट पदार्थ

D. गोंद - प्रकृति से आसानी से उपलब्ध सामग्री

Question ID : 1034352820