



GOVT. OF NCT OF DELHI
Delhi Subordinate Services Selection Board
FC-18, Institutional Area, Karkardooma, Delhi – 110092.
www.dsssb.delhigovt.nic.in

Participant ID	112104200640
Participant Name	PRIYANKA MISHRA
Test Center Name	Gallatin Assessment Center
Test Date	16/03/2022
Test Time	4:30 PM - 6:30 PM
Subject	Assistant Teacher (Primary)

Section : Mental Ability

Q.1 निम्नलिखित प्रश्न में दिए गए विकल्पों में से विषम अक्षर/अक्षरों को चुनिए।

- Ans A. HS
 B. AZ
 C. EW
 D. JQ

Question ID : 1034354658

Q.2 निम्नलिखित प्रश्न में दी गई श्रृंखला में से लुप्त अंक ज्ञात कीजिए।
6, 35, 144, 435, 872, ?

- Ans A. 1744
 B. 1746
 C. 873
 D. 872

Question ID : 1034354668

Q.3 निम्नलिखित प्रश्न में, अक्षरों का एक समूह दिया गया है। प्रत्येक समूह के अक्षर उसी समूह के अक्षरों के साथ किस तर्क/नियम/संबंध से संबंधित है। दिये गए विकल्पों में से अक्षरों को एक समूह को चुनिए जो समान तर्क/नियम/संबंध का अनुसरण करता हो।
(CM, DN, EO)

- Ans A. (ZL, AM, BO)
 B. (QE, RF, SG)
 C. (PA, QB, RD)
 D. (FU, EV, DW)

Question ID : 1034354659

Q.4 निम्नलिखित शब्दों को शब्दकोश में आने वाले क्रम के अनुसार लिखें।

1. Paleobiology
2. Pacifistically
3. Paleoecology
4. Pantomimically
5. Palletization

Ans A. 23154

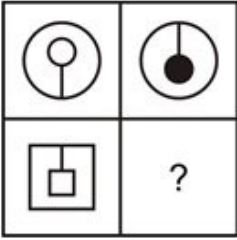
B. 21354

C. 23145

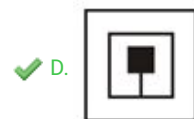
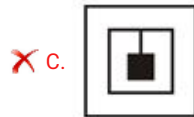
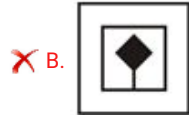
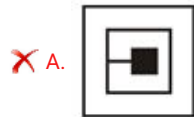
D. 21345

Question ID : 1034354657

Q.5 कौन सी उत्तर आकृति प्रश्न आकृति के प्रतिरूप को पूरा करेगी?



Ans



Question ID : 1034354673

Q.6 एक अनुक्रम दिया गया है, जिसमें से एक पद गलत है। दिए गए विकल्पों में से उस गलत पद को चुनिए।
QY, XR, EK, LD, SX, ZP

Ans A. SX

B. LD

C. XR

D. ZP

Question ID : 1034354656

Q.7 नीचे दिए गए प्रश्न में कुछ कथन और उनके बाद उन कथनों पर आधारित कुछ निष्कर्ष दिए गए हैं। दिए गए कथनों को सही माने, चाहे उनमें सामान्य ज्ञात तथ्यों से भिन्नता हो। सभी निष्कर्ष पढ़ें और फिर निर्धारित करें कि दिए गए कौन से निष्कर्ष, दिए गए कथनों के आधार पर युक्तिसंगत हैं।

कथन:

- I. कुछ T, P हैं।
- II. कोई भी P, S नहीं है।
- III. कुछ G, S हैं।

निष्कर्ष:

- I. कुछ G, P नहीं हैं।
- II. कुछ S, T नहीं हैं।
- III. कुछ T, S नहीं हैं।

- Ans A. दोनों निष्कर्ष II तथा III अनुसरण करते हैं
- B. दोनों निष्कर्ष I तथा III अनुसरण करते हैं
- C. सभी निष्कर्ष अनुसरण करते हैं
- D. दोनों निष्कर्ष I तथा II अनुसरण करते हैं

Question ID : 1034354666

Q.8 अमन पश्चिम की ओर चलना आरंभ करता है। वह दायीं ओर मुड़ता है। वह बायीं ओर 45 डिग्री के कोण पर मुड़ता है। वह अब किस दिशा की ओर देख रहा है?

- Ans A. उत्तर-पश्चिम
- B. उत्तर-पूर्व
- C. पश्चिम
- D. पूर्व

Question ID : 1034354671

Q.9 निम्नलिखित प्रश्न में दिए गए विकल्पों में से संबंधित अक्षर युग्म को चुनिए।
EPF : JVM :: ?

- Ans A. GTS : LZZ
- B. MQL : RXS
- C. CND : HTJ
- D. JEC : OKK

Question ID : 1034354660

Q.10 एक विशिष्ट कोड भाषा में, 'SMILING' को '9342416' लिखा जाता है, 'HENCE' को '85175' लिखा जाता है। इस कोड भाषा में 'MINE' का कोड क्या है?

- Ans A. 3415
- B. 3425
- C. 3615
- D. 9415

Question ID : 1034354661

Q.11 नीचे दिए गए प्रश्न में कुछ कथन और उनके बाद उन कथनों पर आधारित कुछ निष्कर्ष दिए गए हैं। दिए गए कथनों को सही माने, चाहे उनमें सामान्य ज्ञान तथ्यों से भिन्नता हो। सभी निष्कर्ष पढ़ें और फिर निर्धारित करें कि दिए गए कौन से निष्कर्ष, दिए गए कथनों के आधार पर युक्तिसंगत हैं।

कथन:

I. कुछ G, S हैं।

II. कोई भी G, T नहीं हैं।

निष्कर्ष:

I. कुछ T, G नहीं हैं।

II. कुछ S, T नहीं हैं।

- Ans
- A. केवल निष्कर्ष II अनुसरण करता है
 - B. कोई भी निष्कर्ष अनुसरण नहीं करता है
 - C. केवल निष्कर्ष I अनुसरण करता है
 - D. दोनों निष्कर्ष I तथा II अनुसरण करते हैं

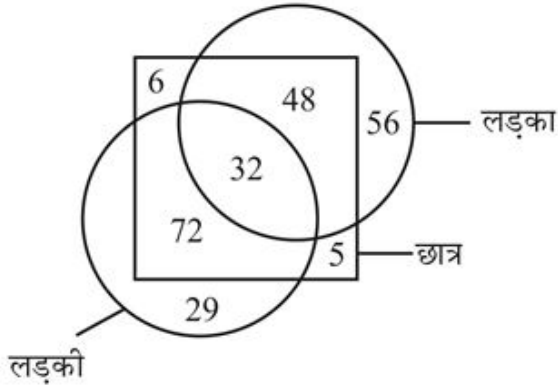
Question ID : 1034354665

Q.12 यदि 'A \$ B' का अर्थ 'A, B का भाई है', 'A # B' का अर्थ 'A, B की बहन है', 'A @ B' का अर्थ 'A, B का पति है', 'A & B' का अर्थ 'A, B की माता है', 'A % B' का अर्थ 'A, B का पिता है', 'A * B' का अर्थ 'A, B का पुत्र है'। निम्नलिखित में से कौन सा व्यंजक R को S की पत्नी दर्शाता है?

- Ans
- A. T # Q & S % P * R
 - B. P \$ Q * R % S @ T
 - C. S # T @ P & Q & R
 - D. R @ S # Q \$ P # T

Question ID : 1034354664

Q.13 कितने छात्र लड़कियाँ हैं?



- Ans
- A. 72
 - B. 32
 - C. 104
 - D. 115

Question ID : 1034354669

Q.14 सूरज दक्षिण की ओर 35 मीटर चलता है। वह बायीं ओर मुड़ता है तथा 19 मीटर चलता है। वह पुनः बायीं ओर मुड़ता है तथा 18 मीटर चलता है। वह दायीं ओर मुड़ता है तथा 21 मीटर चलता है। वह बायीं ओर मुड़ता है तथा 32 मीटर चलता है। अंततः, वह बायीं ओर मुड़ता है तथा 32 मीटर चलता है। आरंभिक बिंदु, अंतिम बिंदु से कितनी दूर तथा किस दिशा में है?

- Ans A. 17 मीटर, उत्तर-पूर्व
 B. 17 मीटर, दक्षिण-पश्चिम
 C. 19 मीटर, दक्षिण-पश्चिम
 D. 19 मीटर, उत्तर-पूर्व

Question ID : 1034354672

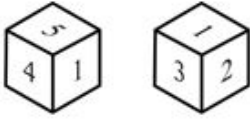
Q.15 सात व्यक्ति A, B, C, D, E, F तथा G एक पंक्ति में उत्तर की ओर मुख करके बैठते हैं (जरूरी नहीं की इसी क्रम में हो)। F, B के दायीं ओर तीसरे स्थान पर बैठता है। D, B के तुरंत बायीं ओर बैठता है। D, G का पड़ोसी नहीं है। A, E के बायीं ओर दूसरे स्थान पर बैठता है। C तथा D के बीच में एक व्यक्ति बैठता है। निम्नलिखित में से कौन सा कथन सही है?

- I. F, G के बायीं ओर दूसरे स्थान पर बैठता है।
II. D बायें छोर पर बैठता है।

- Ans A. I तथा II दोनों
 B. केवल II
 C. केवल I
 D. ना ही I ना ही II

Question ID : 1034354663

Q.16 निम्नलिखित प्रश्न में एक पासे की दो अवस्थाएँ दी गई हैं। अंक 3 युक्त फलक के विपरीत फलक पर कौन सा अंक होगा?



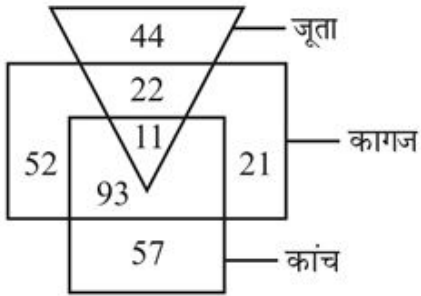
- Ans A. 1
 B. 5
 C. 4
 D. 6

Question ID : 1034354674

Q.17 दिए गए वेन आरेख के आधार पर, निम्नलिखित में से कौन सा/से कथन सही है/हैं?

I. वह कागज जो ना ही जूता ना ही कांच हैं, की संख्या 73 है।

II. वह जूते जो कांच नहीं हैं, की संख्या 66 है।



- Ans A. केवल II
 B. ना ही I ना ही II
 C. केवल I
 D. I तथा II दोनों

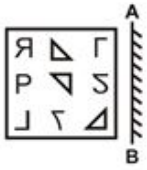
Question ID : 1034354670

Q.18 निम्नलिखित प्रश्न में, दिये गए विकल्पों में से संख्याओं के विषम समूह को चुनिए।

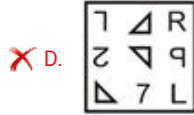
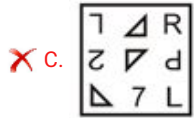
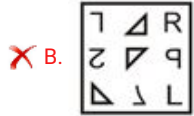
- Ans A. (158, 316, 632)
 B. (143, 286, 572)
 C. (294, 588, 1786)
 D. (281, 562, 1124)

Question ID : 1034354667

Q.19 यदि एक दर्पण को AB रेखा पर रखा जाए, तो दी गई उत्तर आकृतियों में से कौन सी आकृति प्रश्न आकृति की सही प्रतिबिंब होगी?



Ans



Question ID : 1034354675

Q.20 छह महिलाएँ P, Q, R, S, T तथा U को छह विभिन्न फल F1, F2, F3, F4, F5 तथा F6 पसंद है (जरूरी नहीं की इसी क्रम में हो)। P को F1, F2, F3 या F5 पसंद नहीं है। S को F5 पसंद नहीं है। T को F4 पसंद है। U को F1 या F5 पसंद नहीं है। Q को या तो F2 या F6 पसंद है। F6 किसे पसंद है?

- Ans
- ✗ A. R
 - ✗ B. U
 - ✓ C. P
 - ✗ D. Q

Question ID : 1034354662

Section : General Awareness

Q.1 खुदाई खिदमतगार संगठन के संस्थापक कौन थे?

- Ans
- ✓ A. खान अब्दुल गफ्फार खान
 - ✗ B. चक्रवर्ती राजगोपालाचारी
 - ✗ C. सरदार वल्लभभाई पटेल
 - ✗ D. जवाहर लाल नेहरू

Question ID : 1034354687

Q.2 एमनेस्टी इंटरनेशनल का मुख्यालय _____ में स्थित है।

- Ans A. रोम
 B. लंडन
 C. बुसेल्स
 D. पेरिस

Question ID : 1034354689

Q.3 निम्नलिखित में से कौन सा कथन सही है?

- I. वर्धमान महावीर जैन धर्म के 23वें तीर्थंकर थे।
II. बुद्ध ने शिक्षा दी कि कर्म का हमारे जीवन पर कोई प्रभाव नहीं पड़ता।

- Ans A. केवल I
 B. केवल II
 C. ना ही I ना ही II
 D. I तथा II दोनों

Question ID : 1034354688

Q.4 फॉर्मूला 1 ऑस्ट्रेयन ग्रैंड प्रिक्स 2021 किसने जीता है?

- Ans A. मैक्स वर्स्टापेन
 B. लुईस हैमिल्टन
 C. लेंडो नॉरिस
 D. वाल्टेरी बोटास

Question ID : 1034354694

Q.5 2011 की जनगणना के आधार पर, निम्नलिखित में से कौन सा कथन सही है?

- I. भारत की लगभग आधी आबादी केवल पाँच राज्यों में निवास करती है।
II. केवल बांग्लादेश तथा जापान का जनसंख्या घनत्व भारत से अधिक है।

- Ans A. I तथा II दोनों
 B. केवल I
 C. केवल II
 D. ना ही I ना ही II

Question ID : 1034354685

Q.6 निम्नलिखित में से कौन सबसे अधिक तन्य धातु है?

- Ans A. सोना
 B. चाँदी
 C. कॉपर
 D. लोहा

Question ID : 1034354680

Q.7 2021 में निम्नलिखित में से किस व्यक्ति ने 'व्हिटली अवार्ड' जीता है?

- Ans A. जोस सरसोला
 B. मेधा पातकर
 C. नुक्लू फोम
 D. अब्दुल्लाही हुसैन अली

Question ID : 1034354690

Q.8 निम्नलिखित में से कौन सा कथन सही है?

- I. वायु में वाष्पन और वाष्पोसर्जन से जनवाष्प मिलती रहती है।
II. महासागरों तथा जलीय भागों के बीच जल के चक्रण को जलचक्र कहते हैं।

- Ans A. I तथा II दोनों
 B. केवल I
 C. ना ही I ना ही II
 D. केवल II

Question ID : 1034354682

Q.9 आगरा का किला _____ द्वारा बनाया गया था।

- Ans A. हुमायूं
 B. अकबर
 C. शाहजहाँ
 D. बाबर

Question ID : 1034354686

Q.10 त्यौहार – राज्य का कौन सा युग्म सही है?

- I. लोसांग – असम
II. हॉर्नबिल – नागालैंड

- Ans A. केवल I
 B. I तथा II दोनों
 C. केवल II
 D. ना ही I ना ही II

Question ID : 1034354676

Q.11 क्षेत्रीय संगीत – राज्य का कौन सा युग्म सही है?

- Ans A. पोवाड़ा – राजस्थान
 B. कजरी – महाराष्ट्र
 C. अम्मानईवारी – कर्नाटक
 D. बुरकथा – आंध्र प्रदेश

Question ID : 1034354677

Q.12 भारतीय संविधान का _____ मौलिक अधिकारों से संबंधित है।

- Ans A. भाग II
 B. भाग III
 C. भाग I
 D. भाग IV

Question ID : 1034354692

Q.13 निम्नलिखित में से कौन सी एक मीठे पानी की झील नहीं है?

- Ans A. भीमताल झील
 B. नैनीताल झील
 C. डल झील
 D. सामभर झील

Question ID : 1034354684

Q.14 प्राकृतिक स्रोत - अम्ल का कौन सा युग्म सही है?

- I. इमली - ऑक्सैलिक अम्ल
II. दही - लैक्टिक अम्ल

- Ans A. केवल I
 B. ना ही I ना ही II
 C. I तथा II दोनों
 D. केवल II

Question ID : 1034354681

Q.15 Which of the following statement is correct?

- I. Securities transaction tax is a type of direct tax.
II. Value added tax is a type of indirect tax.

- Ans A. Neither I nor II
 B. Only II
 C. Only I
 D. Both I and II

Question ID : 1034354679

Q.16 ट्रॉफी/कप - खेल का कौन सा युग्म सही है?

- I. आगा खाँ कप - हॉकी
II. विज्जी ट्रॉफी - क्रिकेट

- Ans A. केवल I
 B. केवल II
 C. I तथा II दोनों
 D. ना ही I ना ही II

Question ID : 1034354695

Q.17 निम्नलिखित में से कौन सा राज्य भारत में मैंगनीज का सबसे बड़ा उत्पादक है?

- Ans A. महाराष्ट्र
 B. बिहार
 C. ओडिशा
 D. राजस्थान

Question ID : 1034354683

Q.18 निम्नलिखित में से कौन सा कथन सही है?

- I. भारतीय संविधान में नौवीं अनुसूची को पहले संशोधन द्वारा जोड़ा गया था।
II. सुप्रीम कोर्ट भारतीय संविधान के मौलिक अधिकारों का संरक्षक है।

- Ans A. ना ही I ना ही II
 B. केवल I
 C. केवल II
 D. I तथा II दोनों

Question ID : 1034354693

Q.19 2021 में कला के क्षेत्र में निम्नलिखित में से किस व्यक्ति को पद्म विभूषण से सम्मानित किया गया है?

- Ans A. श्री बी.बी. लाल
 B. डॉ. बेले मोनप्पा हेगड़े
 C. श्री नरेंद्र सिंह कपानी
 D. श्री सुदर्शन साहू

Question ID : 1034354691

Q.20 महात्मा गांधी (नयी) श्रृंखला के नये 2000 रुपये के नोट का आकार _____ है।

- Ans A. 66 मिमी × 146 मिमी
 B. 66 मिमी × 142 मिमी
 C. 66 मिमी × 150 मिमी
 D. 66 मिमी × 166 मिमी

Question ID : 1034354678

Section : Arithmetic Ability

Q.1 यदि मैं अपनी सामान्य गति की 7/4 गति से चलता हूँ, तो मैं अपने दफ्तर 15 मिनट पहले पहुँचता हूँ। मेरे द्वारा दफ्तर पहुँचने के लिए सामान्यतः कितना समय लिया जाता है?

- Ans A. 50 मिनट
 B. 27 मिनट
 C. 42 मिनट
 D. 35 मिनट

Question ID : 1034354708

Q.2 $96 \div 4 + 5 \times 3 + 8 \times 2$ का मान क्या है?

Ans A. 55

B. 54

C. 50

D. 53

Question ID : 1034354696

Q.3 तीन डिब्बे पहला, दूसरा तथा तीसरा जिनकी क्षमता क्रमशः 78 कि.ग्रा., 117 कि.ग्रा. तथा 273 कि.ग्रा. है, को तीन तरह की गेहूँ क्रमशः A1, B1 तथा C1 से पूरा भरा गया है। तीनों डिब्बे खाली कर दिए जाते हैं तथा तीनों प्रकार के गेहूँ को अच्छे से मिलाने के बाद, मिश्रण को फिर से तीनों डिब्बों में भरा जाता है। तीसरे डिब्बे में A1 वाली गेहूँ की मात्रा क्या है?

Ans A. 45.5 कि.ग्रा.

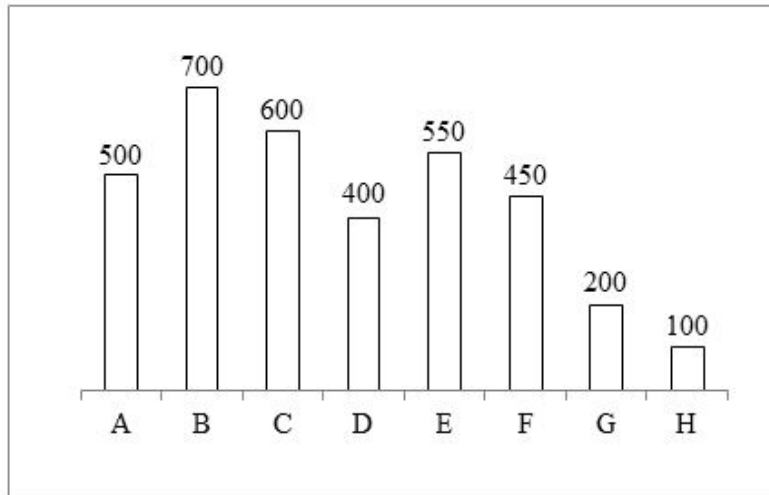
B. 60 कि.ग्रा.

C. 25.5 कि.ग्रा.

D. 30 कि.ग्रा.

Question ID : 1034354706

Q.4 नीचे दिया गया दण्ड चित्र एक कंपनी के 8 कर्मचारियों के वेतन को दर्शाता है।



A के वेतन का H के वेतन से अनुपात क्या है?

Ans A. 3 : 1

B. 5 : 2

C. 5 : 1

D. 2 : 1

Question ID : 1034354714

Q.5 P, Q तथा R एक कंपनी में साझेदार हैं। किसी एक वर्ष में P लाभ का 1/6 भाग प्राप्त करता है, Q, लाभ का 1/7 भाग प्राप्त करता है तथा R, 36250 रुपये प्राप्त करता है। P को लाभ के रूप में कितनी राशि प्राप्त होगी?

- Ans A. 8750 रुपये
 B. 7500 रुपये
 C. 7550 रुपये
 D. 8350 रुपये

Question ID : 1034354705

Q.6 रमन ने 100 मेज़ खरीदी (सभी समान क्रय मूल्य पर)। उसने 40 मेज़ 20 प्रतिशत के लाभ पर, 20 मेज़ 10 प्रतिशत के लाभ पर तथा शेष क्रय मूल्य पर बेच दी। यदि उसने सभी को 12 प्रतिशत के लाभ पर बेचा होता, तो वह 248 रुपये अधिक प्राप्त करता। प्रत्येक मेज़ का क्रय मूल्य क्या है?

- Ans A. 124 रुपये
 B. 148 रुपये
 C. 130 रुपये
 D. 136 रुपये

Question ID : 1034354704

Q.7 यदि एक शहर की जनसंख्या पहले वर्ष में 10 प्रतिशत से बढ़ जाती है तथा दूसरे वर्ष में 20 प्रतिशत से कम हो जाती है, तो 2 वर्षों के बाद जनसंख्या में निवल (नेट) प्रतिशत परिवर्तन क्या होगा?

- Ans A. 12 प्रतिशत कम
 B. 10 प्रतिशत अधिक
 C. 10 प्रतिशत कम
 D. 12 प्रतिशत अधिक

Question ID : 1034354703

Q.8 यदि 15 तथा 40 का लघुत्तम समापवर्त्य $(7m + 1)$ है, तो m का मान क्या है?

- Ans A. 12
 B. 15
 C. 14
 D. 17

Question ID : 1034354698

Q.9 $(98)^{68} \times (55)^{62} \times (27)^{91}$ में इकाई स्थान पर कौन सा अंक है?

- Ans A. 6
 B. 2
 C. 5
 D. 0

Question ID : 1034354700

Q.10 एक आयत का परिमाप 268 से.मी. है। यदि इसकी लम्बाई तथा चौड़ाई के बीच का अंतर 34 से.मी. है, तो इस आयत का क्षेत्रफल क्या है?

- Ans A. 3500 से.मी.²
 B. 4900 से.मी.²
 C. 4200 से.मी.²
 D. 2800 से.मी.²

Question ID : 1034354711

Q.11 एक राशि पर 4 वर्षों का साधारण ब्याज मूलधन के 20 प्रतिशत के बराबर है। कितने वर्षों में साधारण ब्याज मूलधन के बराबर हो जाएगा?

- Ans A. 24 वर्ष
 B. 20 वर्ष
 C. 30 वर्ष
 D. 21 वर्ष

Question ID : 1034354707

Q.12 एक बेलन के आधार की त्रिज्या 14 से.मी. है तथा इसकी ऊँचाई 30 से.मी. है। इस बेलन का आयतन एक घनाभ के आयतन के बराबर है। घनाभ की लम्बाई तथा चौड़ाई का योग 72 से.मी. है तथा लम्बाई और चौड़ाई के बीच का अंतर 16 से.मी. है। इस घनाभ की ऊँचाई क्या है?

- Ans A. 18 से.मी.
 B. 12 से.मी.
 C. 9 से.मी.
 D. 15 से.मी.

Question ID : 1034354712

Q.13 एक कार का विक्रय मूल्य 12950 रुपये है। यदि कार को 30 प्रतिशत की छूट पर बेचा जाता है, तो कार का अंकित मूल्य क्या होगा?

- Ans A. 18000 रुपये
 B. 18500 रुपये
 C. 19700 रुपये
 D. 19000 रुपये

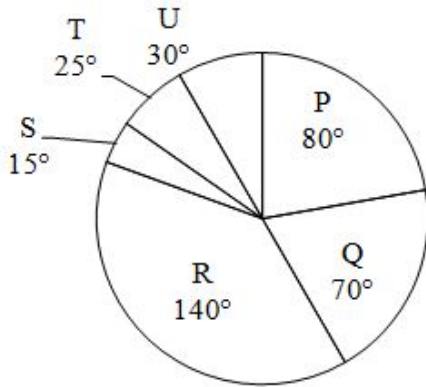
Question ID : 1034354701

Q.14 बिंदु H से एक रेलगाड़ी 6:30 अपराह्न पर K की ओर 90 कि.मी./घंटा की गति से चलना आरंभ करती है। एक अन्य रेलगाड़ी 7:30 अपराह्न पर बिंदु K से बिंदु H की ओर 72 कि.मी./घंटा की गति से चलना आरंभ करती है। दोनों रेलगाड़ियाँ बिंदु J पर 11:30 अपराह्न पर मिलती हैं। HJ तथा KJ दूरी का अनुपात क्या है?

- Ans A. 25 : 16
 B. 36 : 25
 C. 16 : 9
 D. 31 : 19

Question ID : 1034354709

Q.15 नीचे दिया गया पाई चार्ट विभिन्न कंपनियों द्वारा बेचे गए फ्रिज की संख्या को दर्शाता है। इन सभी 6 कंपनियों द्वारा बेचे गए फ्रिज की कुल संख्या 7200 है। एक विशिष्ट कंपनी द्वारा बेचे गए फ्रिज की संख्या को इन सभी 6 कंपनियों द्वारा बेचे गए फ्रिज की कुल संख्या के संबंध में डिग्री के रूप में दर्शाया गया है।



J1 = R, S तथा T द्वारा बेचे गए फ्रिज की औसत संख्या।

J2 = P तथा Q द्वारा बेचे गए फ्रिज की औसत संख्या तथा S तथा U द्वारा बेचे गए फ्रिज की औसत संख्या का योग।

(J2 - J1) का मान क्या है?

- Ans A. 750
 B. 650
 C. 450
 D. 675

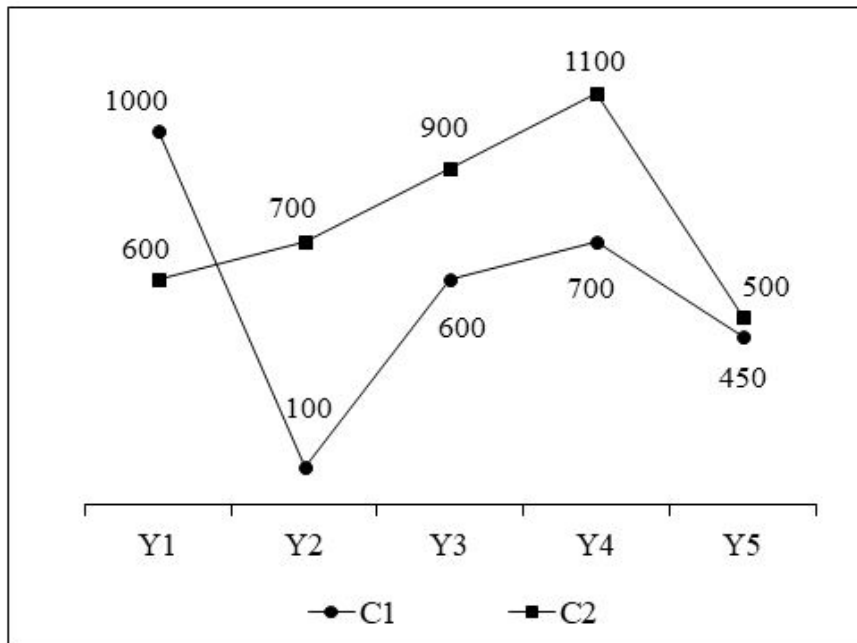
Question ID : 1034354713

Q.16 यदि $a = \sqrt{8} + \sqrt{6}$ तथा $b = \sqrt{8} - \sqrt{6}$ है, तो $2a^2 - 5ab + 2b^2$ का मान क्या है?

- Ans A. 36
 B. 54
 C. 46
 D. 48

Question ID : 1034354699

Q.17 नीचे दिया गया रेखा चित्र 5 वर्षों में दो कंपनियों द्वारा चाय के उत्पादन को दर्शाता है।



निम्नलिखित में से कौन सा कथन सही है?

- I. वर्ष Y1 में C1 द्वारा चाय का उत्पादन वर्ष Y2 में C1 द्वारा चाय के उत्पादन से 900 प्रतिशत अधिक है।
II. सभी 5 वर्षों में C2 द्वारा चाय के उत्पादन का औसत 760 है।

- Ans A. केवल I
 B. I तथा II दोनों
 C. केवल II
 D. ना ही I ना ही II

Question ID : 1034354715

Q.18 यदि एक संख्या $9725Y$, 8 से पूर्णतः विभाजित है, तो Y का मान क्या है?

- Ans A. 2
 B. 6
 C. 5
 D. 4

Question ID : 1034354697

Q.19 X, Y का 20 गुना है। Y, X से कितना प्रतिशत कम है?

- Ans A. 90 प्रतिशत
 B. 95 प्रतिशत
 C. 92 प्रतिशत
 D. 94 प्रतिशत

Question ID : 1034354702

Q.20 18 लड़के तथा 24 पुरुष एक कार्य को 24 दिन में पूरा कर सकते हैं। प्रत्येक लड़के को कार्य पूरा करने में एक पुरुष द्वारा लिए गए समय का तीन गुना समय लगता है। 24 पुरुष उसी कार्य को कितने दिन में पूरा करेंगे?

- Ans
- A. 15 दिन
 - B. 30 दिन
 - C. 60 दिन
 - D. 45 दिन

Question ID : 1034354710

Section : General English

Q.1 Select the most appropriate option to substitute the underlined segment in the given sentence. If no substitution is required, select 'No improvement' as your answer.
He had been addicted to gamble for past 5 years.

- Ans
- A. had been addicted to gambling for
 - B. No improvement
 - C. has been addicted towards gambling since
 - D. had been addicted into gamble since

Question ID : 1034354719

Q.2 Rearrange the parts of the sentence in correct order.

But there are some

P: While others say that

Q: Traditionally Bhagirathi is Ganga

R: Who assert that geographically

S: Alaknanda is the true Ganga

- Ans
- A. RQPS
 - B. PQRS
 - C. PSRQ
 - D. RSPQ

Question ID : 1034354722

Q.3 Select the most appropriate option to substitute the underlined segment in the given sentence. If no substitution is required, select 'No improvement' as your answer.
The work must be completing to him.

- Ans
- A. completed by
 - B. completed onto
 - C. completed to
 - D. No improvement

Question ID : 1034354718

Q.4 Find the part of the given sentence that has an error in it. If there is no error, choose 'No error'.

New tactic be adopted by misinformation (1)/warriors is to post feel-good stories that (2)/people will be wanting to share (3)/.No error (4)

Ans A. 4

B. 1

C. 2

D. 3

Question ID : 1034354717

Q.5 Find the part of the given sentence that has an error in it. If there is no error, choose 'No error'.

Neither you (1)/nor I are going (2)/ to the function(3)/ No error (4)

Ans A. 1

B. 4

C. 2

D. 3

Question ID : 1034354716

Q.6 Choose the word that is opposite in meaning to the given word.
Consternation

Ans A. Desire

B. Tranquility

C. Despair

D. Agony

Question ID : 1034354725

Q.7 Rearrange the parts of the sentence in correct order.

P: Telephone firms are cutting down there prices to compete and grab their share of the market.

Q: Yet the cable guys control two thirds of the market.

R: Cable net connections are expensive.

S: This is because there is a growing demand for high speed internet access.

Ans A. RSQP

B. PRQS

C. PQSR

D. RQSP

Question ID : 1034354723

Q.8 In the following question, out of the given four alternatives, select the alternative which best expresses the meaning of the Idiom/Phrase.

Lock, stock and barrel

Ans A. Banker

B. Successfully

C. Unhealthy

D. Completely

Question ID : 1034354729

Q.9 In the following question, out of the given four alternatives, select the alternative which best expresses the meaning of the Idiom/Phrase.
To keep the ball rolling

- Ans A. To meet someone frequently
 B. To continue work
 C. To scold someone regularly
 D. To surrender

Question ID : 1034354728

Q.10 Choose the word that can substitute the given sentence.
The belief that God pervades nature

- Ans A. Pantheism
 B. Congregation
 C. Polytheism
 D. Heresy

Question ID : 1034354730

Q.11 In the given question, four words are given out of which one word is correctly spelt. Choose the correctly spelt word.

- Ans A. Fidget
 B. Fudgit
 C. Fidgit
 D. Figit

Question ID : 1034354726

Q.12 A sentence has been given with a blank to be filled with an appropriate word. Choose the correct alternative.

As we get older, our muscles start to become _____.

- Ans A. stiffer
 B. soft
 C. flexible
 D. limp

Question ID : 1034354720

Q.13 In the given question, four words are given out of which one word is correctly spelt. Choose the correctly spelt word.

- Ans A. Attandacne
 B. Atandence
 C. Attendance
 D. Attendance

Question ID : 1034354727

Q.14 Choose the word that means the same as the given word.

Prevalent

- Ans A. Confident
 B. Fraudulent
 C. Widespread
 D. Ambivalent

Question ID : 1034354724

Q.15 A sentence has been given with a blank to be filled with an appropriate word. Choose the correct alternative.

If I _____ a pilot, I would have conquered the world.

- Ans A. is
 B. were
 C. was
 D. become

Question ID : 1034354721

Comprehension:

Read the following information carefully and answer the given questions.

In June 2015, Prime Minister Narendra Modi launched two programmes to direct urban growth: the Atal Mission for Rejuvenation and Urban Transformation (AMRUT), which covers 500 cities; and the Smart City Mission, which covers 100.

The objective of the Smart City Mission is to harness technology and data to improve infrastructure and services in cities. It aims to create replicable models that can inspire other cities to become "smart". The policies it promotes range from innovative ideas such as smart meters for energy and water, intelligent traffic-management systems, e-governance and citizen services, to more established solutions such as waste-to-compost or waste-to-energy, recycling, and reduction of waste.

Often, India's cities fail to integrate environment and social sustainability into their planning and resource management. This is due in part to a lack of demand for environmentally friendly products and services, or a poor assessment of this demand on the part of the authorities. The Smart City Mission aims to bridge the gap by providing innovative (but as yet unspecified) means for increased interaction among citizens and local governments, among other groups. It calls for new greenfield projects around cities, for inclusive development, and for "area-based development", which involves targeting specific areas of the city for transformation based on their specific needs, through redevelopment schemes or through retrofitting amenities that were not installed when the areas were first constructed.

Whereas the Smart City Mission seeks innovative means to enhance network efficiencies, the AMRUT mission is responsible for increasing penetration of city-wide services. Its focus is on water supply, sewage networks, storm-water drainage, transport, and green spaces.

Previously, the Ministry of Urban Development (MoUD) had to give project-by-project approval to disburse funds, but now the MoUD approves State Annual Action Plans. This is intended to increase cooperation between the central government and the states. It remains to be seen whether bottom-up initiatives to enhance network efficiency will create conditions for better cooperation across departments and levels of government, or whether such cooperation is a prerequisite for enhancing these network efficiencies.

SubQuestion No : 16

Q.16 The main purpose of the passage is to:

- Ans A. Promote the schemes launched by the Indian government.
 B. Understand the objective of Smart city mission and AMRUT mission.
 C. Criticise the functioning of central body in launching schemes.
 D. Explain the efficiency of both Smart city mission.

Question ID : 1034354732

Comprehension:

Read the following information carefully and answer the given questions.

In June 2015, Prime Minister Narendra Modi launched two programmes to direct urban growth: the Atal Mission for Rejuvenation and Urban Transformation (AMRUT), which covers 500 cities; and the Smart City Mission, which covers 100.

The objective of the Smart City Mission is to harness technology and data to improve infrastructure and services in cities. It aims to create replicable models that can inspire other cities to become "smart". The policies it promotes range from innovative ideas such as smart meters for energy and water, intelligent traffic-management systems, e-governance and citizen services, to more established solutions such as waste-to-compost or waste-to-energy, recycling, and reduction of waste.

Often, India's cities fail to integrate environment and social sustainability into their planning and resource management. This is due in part to a lack of demand for environmentally friendly products and services, or a poor assessment of this demand on the part of the authorities. The Smart City Mission aims to bridge the gap by providing innovative (but as yet unspecified) means for increased interaction among citizens and local governments, among other groups. It calls for new greenfield projects around cities, for inclusive development, and for "area-based development", which involves targeting specific areas of the city for transformation based on their specific needs, through redevelopment schemes or through retrofitting amenities that were not installed when the areas were first constructed.

Whereas the Smart City Mission seeks innovative means to enhance network efficiencies, the AMRUT mission is responsible for increasing penetration of city-wide services. Its focus is on water supply, sewage networks, storm-water drainage, transport, and green spaces.

Previously, the Ministry of Urban Development (MoUD) had to give project-by-project approval to disburse funds, but now the MoUD approves State Annual Action Plans. This is intended to increase cooperation between the central government and the states. It remains to be seen whether bottom-up initiatives to enhance network efficiency will create conditions for better cooperation across departments and levels of government, or whether such cooperation is a prerequisite for enhancing these network efficiencies.

SubQuestion No : 17

Q.17 The AMRUT mission does not focus on:

- Ans** ✓ **A. Social sustainability**
- ✗ **B. Transport**
- ✗ **C. Sewage Networks**
- ✗ **D. Green spaces**

Question ID : 1034354733

Comprehension:

Read the following information carefully and answer the given questions.

In June 2015, Prime Minister Narendra Modi launched two programmes to direct urban growth: the Atal Mission for Rejuvenation and Urban Transformation (AMRUT), which covers 500 cities; and the Smart City Mission, which covers 100.

The objective of the Smart City Mission is to harness technology and data to improve infrastructure and services in cities. It aims to create replicable models that can inspire other cities to become "smart". The policies it promotes range from innovative ideas such as smart meters for energy and water, intelligent traffic-management systems, e-governance and citizen services, to more established solutions such as waste-to-compost or waste-to-energy, recycling, and reduction of waste.

Often, India's cities fail to integrate environment and social sustainability into their planning and resource management. This is due in part to a lack of demand for environmentally friendly products and services, or a poor assessment of this demand on the part of the authorities. The Smart City Mission aims to bridge the gap by providing innovative (but as yet unspecified) means for increased interaction among citizens and local governments, among other groups. It calls for new greenfield projects around cities, for inclusive development, and for "area-based development", which involves targeting specific areas of the city for transformation based on their specific needs, through redevelopment schemes or through retrofitting amenities that were not installed when the areas were first constructed.

Whereas the Smart City Mission seeks innovative means to enhance network efficiencies, the AMRUT mission is responsible for increasing penetration of city-wide services. Its focus is on water supply, sewage networks, storm-water drainage, transport, and green spaces.

Previously, the Ministry of Urban Development (MoUD) had to give project-by-project approval to disburse funds, but now the MoUD approves State Annual Action Plans. This is intended to increase cooperation between the central government and the states. It remains to be seen whether bottom-up initiatives to enhance network efficiency will create conditions for better cooperation across departments and levels of government, or whether such cooperation is a prerequisite for enhancing these network efficiencies.

SubQuestion No : 18

Q.18 What is the antonym of the word- 'enhance' as used in the passage?

- Ans A. Deprive
 B. Intensify
 C. Disjoin
 D. Amend

Question ID : 1034354735

Comprehension:

Read the following information carefully and answer the given questions.

In June 2015, Prime Minister Narendra Modi launched two programmes to direct urban growth: the Atal Mission for Rejuvenation and Urban Transformation (AMRUT), which covers 500 cities; and the Smart City Mission, which covers 100.

The objective of the Smart City Mission is to harness technology and data to improve infrastructure and services in cities. It aims to create replicable models that can inspire other cities to become "smart". The policies it promotes range from innovative ideas such as smart meters for energy and water, intelligent traffic-management systems, e-governance and citizen services, to more established solutions such as waste-to-compost or waste-to-energy, recycling, and reduction of waste.

Often, India's cities fail to integrate environment and social sustainability into their planning and resource management. This is due in part to a lack of demand for environmentally friendly products and services, or a poor assessment of this demand on the part of the authorities. The Smart City Mission aims to bridge the gap by providing innovative (but as yet unspecified) means for increased interaction among citizens and local governments, among other groups. It calls for new greenfield projects around cities, for inclusive development, and for "area-based development", which involves targeting specific areas of the city for transformation based on their specific needs, through redevelopment schemes or through retrofitting amenities that were not installed when the areas were first constructed.

Whereas the Smart City Mission seeks innovative means to enhance network efficiencies, the AMRUT mission is responsible for increasing penetration of city-wide services. Its focus is on water supply, sewage networks, storm-water drainage, transport, and green spaces.

Previously, the Ministry of Urban Development (MoUD) had to give project-by-project approval to disburse funds, but now the MoUD approves State Annual Action Plans. This is intended to increase cooperation between the central government and the states. It remains to be seen whether bottom-up initiatives to enhance network efficiency will create conditions for better cooperation across departments and levels of government, or whether such cooperation is a prerequisite for enhancing these network efficiencies.

SubQuestion No : 19

Q.19 What is the synonym of the word- 'harness' as used in the passage?

- Ans A. Ignore
 B. Utilize
 C. Resurrect
 D. Misuse

Question ID : 1034354736

Comprehension:

Read the following information carefully and answer the given questions.

In June 2015, Prime Minister Narendra Modi launched two programmes to direct urban growth: the Atal Mission for Rejuvenation and Urban Transformation (AMRUT), which covers 500 cities; and the Smart City Mission, which covers 100.

The objective of the Smart City Mission is to harness technology and data to improve infrastructure and services in cities. It aims to create replicable models that can inspire other cities to become "smart". The policies it promotes range from innovative ideas such as smart meters for energy and water, intelligent traffic-management systems, e-governance and citizen services, to more established solutions such as waste-to-compost or waste-to-energy, recycling, and reduction of waste.

Often, India's cities fail to integrate environment and social sustainability into their planning and resource management. This is due in part to a lack of demand for environmentally friendly products and services, or a poor assessment of this demand on the part of the authorities. The Smart City Mission aims to bridge the gap by providing innovative (but as yet unspecified) means for increased interaction among citizens and local governments, among other groups. It calls for new greenfield projects around cities, for inclusive development, and for "area-based development", which involves targeting specific areas of the city for transformation based on their specific needs, through redevelopment schemes or through retrofitting amenities that were not installed when the areas were first constructed.

Whereas the Smart City Mission seeks innovative means to enhance network efficiencies, the AMRUT mission is responsible for increasing penetration of city-wide services. Its focus is on water supply, sewage networks, storm-water drainage, transport, and green spaces.

Previously, the Ministry of Urban Development (MoUD) had to give project-by-project approval to disburse funds, but now the MoUD approves State Annual Action Plans. This is intended to increase cooperation between the central government and the states. It remains to be seen whether bottom-up initiatives to enhance network efficiency will create conditions for better cooperation across departments and levels of government, or whether such cooperation is a prerequisite for enhancing these network efficiencies.

SubQuestion No : 20

Q.20 Identify the correct statement from the following.

I. The Smart City Mission seeks innovative means to enhance network efficiencies.

II. The Smart City Mission, covers 100 cities.

III. Smart meters for energy and water is one of the policies Smart city mission promotes.

Ans A. I, II and III

B. II and III

C. I and III

D. Only I

Question ID : 1034354734

Section : **General Hindi**

**Q.1 दिए गए शब्द का प्रत्यय ज्ञात कीजिए।
मनौती**

Ans A. नोती

B. ती

C. ऐत

D. औती

Question ID : 1034354739

Q.2 निम्नलिखित में से वर्तमान काल की पहचान क्या है?

- Ans A. कार्य हो चुका होता है
 B. कार्य होना होता है
 C. कार्य होने की संभावना होती है
 D. कार्य चल रहा होता है

Question ID : 1034354744

Q.3 दिए गए वाक्य में विशेषण ज्ञात कीजिए।
थोड़ी सी नमकीन खरीद लाओ।

- Ans A. सार्वनामिक विशेषण
 B. निश्चित परिणामवाचक
 C. अनिश्चित परिणामवाचक
 D. गुणवाचक विशेषण

Question ID : 1034354737

Q.4 दिए गए शब्द युग्म का सही शब्द युग्म ज्ञात कीजिए।
अशोच : असोच

- Ans A. स्थान : अशुद्ध
 B. बिना सोच के : अशुद्ध
 C. असत्य : बिना सोच के
 D. बिना जड़वाला : असत्य

Question ID : 1034354741

Q.5 निम्नलिखित वाक्य में रेखांकित भाग का वाक्यांश के लिए उचित शब्द का चयन कीजिए।
अपनी इच्छानुसार आचरण करने वाला

- Ans A. स्वेच्छाचारी
 B. सदाचारी
 C. वर्णनतीत
 D. सत्यवादी

Question ID : 1034354742

Q.6 निम्नलिखित वाक्यों में से संयुक्त वाक्य ज्ञात कीजिए।

- Ans A. जो तुम्हें जानता है, वह कौन है?
 B. तुम कौन हो क्योंकि वह तुम्हें नहीं जानता है।
 C. तुम नहीं जानते कि वह कौन है?
 D. वह तुम्हें नहीं जानता और तुम कौन हो?

Question ID : 1034354746

Q.7 दिए गए वाक्य में उपयुक्त विराम चिह्न का चयन कीजिए।
चलो, चलते हैं। मैंने कहा।

- Ans A. ;
 B. " "
 C. ...
 D. ,,

Question ID : 1034354749

Q.8 निम्नलिखित प्रश्न में, दिए गए चार विकल्पों में से, उस विकल्प का चयन करें जो दिए गए मुहावरे के अर्थ को सर्वश्रेष्ठ रूप से व्यक्त करता है।
ईमान बगल में दबाना

- Ans A. बेईमानी करना
 B. अड़चन दूर करना
 C. धोखा देना
 D. याद रखना

Question ID : 1034354750

Q.9 दिए गए वाक्य में उपयुक्त विराम चिह्न का चयन कीजिए।
आज एमए परीक्षा के नतीजे आ गए हैं।

- Ans A. " "
 B. ()
 C. . .
 D. ;

Question ID : 1034354748

Q.10 दिए गए शब्दों का समास ज्ञात कीजिए।
यशशक्ति

- Ans A. अव्ययीभाव समास
 B. कर्मधारय समास
 C. बहुव्रीहि समास
 D. द्विगु समास

Question ID : 1034354738

Q.11 दिए गए वाक्य में उचित परसर्ग का चयन करके, रिक्त स्थान की पूर्ति कीजिए।
रावण _____ सीता _____ अपहरण कर लिया था।

- Ans A. का, ने
 B. को, ने
 C. ने, का
 D. ने, की

Question ID : 1034354747

Q.12 दिए गए वाक्य में उपयुक्त शब्द का चयन करके रिक्त स्थान की पूर्ति कीजिए।
न्यायालय ने अपराधी की मुक्ति का _____ दिया।

- Ans A. निदेश
 B. आदेश
 C. निषेध
 D. निर्णय

Question ID : 1034354740

Q.13 निम्नलिखित वाक्यों में से सरल वाक्य ज्ञात कीजिए।

- Ans A. जो व्यक्ति जैसा होता है वह दूसरों को भी वैसा ही समझता है।
 B. वह व्यक्ति दूसरों को भी अपनी तरह समझता है।
 C. वह व्यक्ति दूसरे व्यक्ति को भी अपने जैसा समझता है।
 D. वह व्यक्ति ऐसा होता है इसलिए दूसरों को भी अपने जैसा समझता है।

Question ID : 1034354745

Q.14 दिए गए शब्द युग्म का सही शब्द युग्म ज्ञात कीजिए।
संग:संघ

- Ans A. साथ:साथ
 B. समूह:समिति
 C. साथ:समिति
 D. समूह:स्थान

Question ID : 1034354743

Q.15 निम्नलिखित प्रश्न में, दिए गए चार विकल्पों में से, उस विकल्प का चयन करें जो दिए गए मुहावरे के अर्थ को सर्वश्रेष्ठ रूप से व्यक्त करता है।
जबानी जमा खर्च करना

- Ans A. जमापूँजी समाप्त होना
 B. बहुत ज्ञान होना
 C. बिना बात की बात करना
 D. केवल बात और कुछ नहीं

Question ID : 1034354751

Comprehension:

एक गद्यांश दिया गया है। गद्यांश के आधार पर पाँच प्रश्न दिए गए हैं। गद्यांश को ध्यानपूर्वक पढ़ें तथा प्रत्येक प्रश्न के चार विकल्पों में से सही विकल्प चुने।

आधुनिक भारतीय नारी एक साथ दो भूमिकाएँ निभा रही है। वह एक ओर घर-गृहस्थी संभालकर पारिवारिक उत्तरदायित्वों का निर्वाह कर रही है, वहीं दूसरी ओर नौकरी तथा अन्य व्यवसायों के माध्यम से धनोपार्जन कर रही है। इस कारणवश उस पर दोहरे दायित्व आ गए हैं। वे आज इन दोनों स्थितियों के मध्य अत्यधिक संघर्षशील हो गई हैं। उसकी इस संघर्ष-शक्ति के कारण समाज विकास के मार्ग पर तेज़ी से अग्रसर हो रहा है।

पहले नारी का स्थान घर की चारदीवारी तक सीमित था। समाज पुरुष प्रधान था। पुरुष और नारी के कार्यों का स्पष्ट विभाजन था। पुरुष धन कमाता था। नारी पारिवारिक उत्तरदायित्वों का पालन करती थी। वह आर्थिक रूप से पूर्णतया पुरुष पर आश्रित थी। इसलिए उसे पुरुष के समान नहीं समझा जाता था। उसे 'भोग्या' की संज्ञा दी गई थी।

उसके चारों ओर मर्यादाओं का चक्रव्यूह रच दिया जाता था। उसे त्याग की मूर्ति कहकर त्याग की अपेक्षाएँ की जाती थीं। विदेशी आक्रमणकारी लूट-मार करते थे। वे नारियों पर विशेष रूप से अत्याचार करते थे। उन्हें लूट का माल समझकर बाँटा जाता था। इसी कारणवश नारी को परदे में रखने का प्रथा का प्रचलन हुआ वैदिक युग में यह स्थिति नहीं थी। तब नारी को पुरुष से बढ़कर सम्मान मिलता था। नारी की शिक्षा पर बल दिया जाता था। वेदों की अनेक ऋचाएँ नारियों द्वारा ही लिखी गई हैं। उस समय गार्गी जैसी विदुषी नारियों पुरुषों के साथ शास्त्रार्थ करती थीं। याज्ञवल्क्य ऋषि की पत्नी मैत्रेयी सीता की शिक्षिका थीं। समय के परिवर्तन के साथ-साथ नारी की सामाजिक स्थिति में भी परिवर्तन होता चला गया। स्वतंत्रता के पश्चात् नारी-शिक्षा पर विशेष बल दिया।

SubQuestion No : 16

Q.16 नारी को कौन-सी संज्ञा दी गई थी।

- Ans A. माँ
 B. भोग्या
 C. देवी
 D. शिक्षिका

Question ID : 1034354756

Comprehension:

एक गद्यांश दिया गया है। गद्यांश के आधार पर पाँच प्रश्न दिए गए हैं। गद्यांश को ध्यानपूर्वक पढ़ें तथा प्रत्येक प्रश्न के चार विकल्पों में से सही विकल्प चुने।

आधुनिक भारतीय नारी एक साथ दो भूमिकाएँ निभा रही है। वह एक ओर घर-गृहस्थी संभालकर पारिवारिक उत्तरदायित्वों का निर्वाह कर रही है, वहीं दूसरी ओर नौकरी तथा अन्य व्यवसायों के माध्यम से धनोपार्जन कर रही है। इस कारणवश उस पर दोहरे दायित्व आ गए हैं। वे आज इन दोनों स्थितियों के मध्य अत्यधिक संघर्षशील हो गई हैं। उसकी इस संघर्ष-शक्ति के कारण समाज विकास के मार्ग पर तेज़ी से अग्रसर हो रहा है।

पहले नारी का स्थान घर की चारदीवारी तक सीमित था। समाज पुरुष प्रधान था। पुरुष और नारी के कार्यों का स्पष्ट विभाजन था। पुरुष धन कमाता था। नारी पारिवारिक उत्तरदायित्वों का पालन करती थी। वह आर्थिक रूप से पूर्णतया पुरुष पर आश्रित थी। इसलिए उसे पुरुष के समान नहीं समझा जाता था। उसे 'भोग्या' की संज्ञा दी गई थी।

उसके चारों ओर मर्यादाओं का चक्रव्यूह रच दिया जाता था। उसे त्याग की मूर्ति कहकर त्याग की अपेक्षाएँ की जाती थीं। विदेशी आक्रमणकारी लूट-मार करते थे। वे नारियों पर विशेष रूप से अत्याचार करते थे। उन्हें लूट का माल समझकर बाँटा जाता था। इसी कारणवश नारी को परदे में रखने का प्रथा का प्रचलन हुआ वैदिक युग में यह स्थिति नहीं थी। तब नारी को पुरुष से बढ़कर सम्मान मिलता था। नारी की शिक्षा पर बल दिया जाता था। वेदों की अनेक ऋचाएँ नारियों द्वारा ही लिखी गई हैं। उस समय गार्गी जैसी विदुषी नारियों पुरुषों के साथ शास्त्रार्थ करती थीं। याज्ञवल्क्य ऋषि की पत्नी मैत्रेयी सीता की शिक्षिका थीं। समय के परिवर्तन के साथ-साथ नारी की सामाजिक स्थिति में भी परिवर्तन होता चला गया। स्वतंत्रता के पश्चात् नारी-शिक्षा पर विशेष बल दिया।

SubQuestion No : 17

Q.17 भारतीय नारी एक साथ कितनी भूमिका निभा रही है?

- Ans A. 5
 B. 2
 C. 3
 D. 4

Question ID : 1034354754

Comprehension:

एक गद्यांश दिया गया है। गद्यांश के आधार पर पाँच प्रश्न दिए गए हैं। गद्यांश को ध्यानपूर्वक पढ़ें तथा प्रत्येक प्रश्न के चार विकल्पों में से सही विकल्प चुने।

आधुनिक भारतीय नारी एक साथ दो भूमिकाएँ निभा रही है। वह एक ओर घर-गृहस्थी संभालकर पारिवारिक उत्तरदायित्वों का निर्वाह कर रही है, वहीं दूसरी ओर नौकरी तथा अन्य व्यवसायों के माध्यम से धनोपार्जन कर रही है। इस कारणवश उस पर दोहरे दायित्व आ गए हैं। वे आज इन दोनों स्थितियों के मध्य अत्यधिक संघर्षशील हो गई हैं। उसकी इस संघर्ष-शक्ति के कारण समाज विकास के मार्ग पर तेज़ी से अग्रसर हो रहा है।

पहले नारी का स्थान घर की चारदीवारी तक सीमित था। समाज पुरुष प्रधान था। पुरुष और नारी के कार्यों का स्पष्ट विभाजन था। पुरुष धन कमाता था। नारी पारिवारिक उत्तरदायित्वों का पालन करती थी। वह आर्थिक रूप से पूर्णतया पुरुष पर आश्रित थी। इसलिए उसे पुरुष के समान नहीं समझा जाता था। उसे 'भोग्या' की संज्ञा दी गई थी।

उसके चारों ओर मर्यादाओं का चक्रव्यूह रच दिया जाता था। उसे त्याग की मूर्ति कहकर त्याग की अपेक्षाएँ की जाती थीं। विदेशी आक्रमणकारी लूट-मार करते थे। वे नारियों पर विशेष रूप से अत्याचार करते थे। उन्हें लूट का माल समझकर बाँटा जाता था। इसी कारणवश नारी को परदे में रखने का प्रथा का प्रचलन हुआ वैदिक युग में यह स्थिति नहीं थी। तब नारी को पुरुष से बढ़कर सम्मान मिलता था। नारी की शिक्षा पर बल दिया जाता था। वेदों की अनेक ऋचाएँ नारियों द्वारा ही लिखी गई हैं। उस समय गार्गी जैसी विदुषी नारियों पुरुषों के साथ शास्त्रार्थ करती थीं। याज्ञवल्क्य ऋषि की पत्नी मैत्रेयी सीता की शिक्षिका थीं। समय के परिवर्तन के साथ-साथ नारी की सामाजिक स्थिति में भी परिवर्तन होता चला गया। स्वतंत्रता के पश्चात् नारी-शिक्षा पर विशेष बल दिया।

SubQuestion No : 18

Q.18 नारी कौन-से उत्तरदायित्वों का पालन करती थी?

- Ans A. पारिवारिक
 B. आंतरिक
 C. सामाजिक
 D. बाहरी

Question ID : 1034354755

Comprehension:

एक गद्यांश दिया गया है। गद्यांश के आधार पर पाँच प्रश्न दिए गए हैं। गद्यांश को ध्यानपूर्वक पढ़ें तथा प्रत्येक प्रश्न के चार विकल्पों में से सही विकल्प चुने।

आधुनिक भारतीय नारी एक साथ दो भूमिकाएँ निभा रही है। वह एक ओर घर-गृहस्थी संभालकर पारिवारिक उत्तरदायित्वों का निर्वाह कर रही है, वहीं दूसरी ओर नौकरी तथा अन्य व्यवसायों के माध्यम से धनोपार्जन कर रही है। इस कारणवश उस पर दोहरे दायित्व आ गए हैं। वे आज इन दोनों स्थितियों के मध्य अत्यधिक संघर्षशील हो गई हैं। उसकी इस संघर्ष-शक्ति के कारण समाज विकास के मार्ग पर तेज़ी से अग्रसर हो रहा है।

पहले नारी का स्थान घर की चारदीवारी तक सीमित था। समाज पुरुष प्रधान था। पुरुष और नारी के कार्यों का स्पष्ट विभाजन था। पुरुष धन कमाता था। नारी पारिवारिक उत्तरदायित्वों का पालन करती थी। वह आर्थिक रूप से पूर्णतया पुरुष पर आश्रित थी। इसलिए उसे पुरुष के समान नहीं समझा जाता था। उसे 'भोग्या' की संज्ञा दी गई थी।

उसके चारों ओर मर्यादाओं का चक्रव्यूह रच दिया जाता था। उसे त्याग की मूर्ति कहकर त्याग की अपेक्षाएँ की जाती थीं। विदेशी आक्रमणकारी लूट-मार करते थे। वे नारियों पर विशेष रूप से अत्याचार करते थे। उन्हें लूट का माल समझकर बाँटा जाता था। इसी कारणवश नारी को परदे में रखने का प्रथा का प्रचलन हुआ वैदिक युग में यह स्थिति नहीं थी। तब नारी को पुरुष से बढ़कर सम्मान मिलता था। नारी की शिक्षा पर बल दिया जाता था। वेदों की अनेक ऋचाएँ नारियों द्वारा ही लिखी गई हैं। उस समय गार्गी जैसी विदुषी नारियों पुरुषों के साथ शास्त्रार्थ करती थीं। याज्ञवल्क्य ऋषि की पत्नी मैत्रेयी सीता की शिक्षिका थीं। समय के परिवर्तन के साथ-साथ नारी की सामाजिक स्थिति में भी परिवर्तन होता चला गया। स्वतंत्रता के पश्चात् नारी-शिक्षा पर विशेष बल दिया।

SubQuestion No : 19

Q.19 उपर्युक्त गद्यांश का शीर्षक होगा-

- Ans A. नारी की स्थिति
 B. नारी की शिक्षा
 C. नारी सशक्तीकरण
 D. नारी का विरोध

Question ID : 1034354753

Comprehension:

एक गद्यांश दिया गया है। गद्यांश के आधार पर पाँच प्रश्न दिए गए हैं। गद्यांश को ध्यानपूर्वक पढ़ें तथा प्रत्येक प्रश्न के चार विकल्पों में से सही विकल्प चुने।

आधुनिक भारतीय नारी एक साथ दो भूमिकाएँ निभा रही है। वह एक ओर घर-गृहस्थी संचालक पारिवारिक उत्तरदायित्वों का निर्वाह कर रही है, वहीं दूसरी ओर नौकरी तथा अन्य व्यवसायों के माध्यम से धनोपार्जन कर रही है। इस कारणवश उस पर दोहरे दायित्व आ गए हैं। वे आज इन दोनों स्थितियों के मध्य अत्यधिक संघर्षशील हो गई हैं। उसकी इस संघर्ष-शक्ति के कारण समाज विकास के मार्ग पर तेज़ी से अग्रसर हो रहा है।

पहले नारी का स्थान घर की चारदीवारी तक सीमित था। समाज पुरुष प्रधान था। पुरुष और नारी के कार्यों का स्पष्ट विभाजन था। पुरुष धन कमाता था। नारी पारिवारिक उत्तरदायित्वों का पालन करती थी। वह आर्थिक रूप से पूर्णतया पुरुष पर आश्रित थी। इसलिए उसे पुरुष के समान नहीं समझा जाता था। उसे 'भोग्या' की संज्ञा दी गई थी।

उसके चारों ओर मर्यादाओं का चक्रव्यूह रच दिया जाता था। उसे त्याग की मूर्ति कहकर त्याग की अपेक्षाएँ की जाती थीं। विदेशी आक्रमणकारी लूट-मार करते थे। वे नारियों पर विशेष रूप से अत्याचार करते थे। उन्हें लूट का माल समझकर बाँटा जाता था। इसी कारणवश नारी को परदे में रखने का प्रथा का प्रचलन हुआ वैदिक युग में यह स्थिति नहीं थी। तब नारी को पुरुष से बढ़कर सम्मान मिलता था। नारी की शिक्षा पर बल दिया जाता था। वेदों की अनेक ऋचाएँ नारियों द्वारा ही लिखी गई हैं। उस समय गार्गी जैसी विदुषी नारियों पुरुषों के साथ शास्त्रार्थ करती थीं। याज्ञवल्क्य ऋषि की पत्नी मैत्रेयी सीता की शिक्षिका थीं। समय के परिवर्तन के साथ-साथ नारी की सामाजिक स्थिति में भी परिवर्तन होता चला गया। स्वतंत्रता के पश्चात् नारी-शिक्षा पर विशेष बल दिया।

SubQuestion No : 20

Q.20 कौन-से काल में नारी को पुरुष से बढ़कर सम्मान मिलता था।

- Ans A. वैदिक
 B. आधुनिक
 C. सामवेद
 D. ऋग्वैदिक

Question ID : 1034354757

Section : Discipline1

Q.1 निम्नलिखित में से कौन सा कथन स्माल-फॉर-डेट शिशुओं के सन्दर्भ में सही है?

- I. वे शिशु जिनका जन्म भार समान गर्भकालीन आयु के सभी शिशुओं के 90 प्रतिशत से कम होता है।
II. उनका छोटा आकार आमतौर पर अपर्याप्त प्रसवपूर्व पोषण का परिणाम होता है।

- Ans A. I तथा II दोनों
 B. केवल I
 C. केवल II
 D. ना ही I ना ही II

Question ID : 1034354761

Q.2 पियाजे के अनुसार वस्तु का स्थायित्व क्या है?

- I. यह समझ है कि दृष्टि से बाहर होने पर भी कोई व्यक्ति या वस्तु अस्तित्व में होता है।
II. यह संवेदी गत्यात्मक अवस्था के दौरान धीरे-धीरे विकसित होता है।

- Ans A. केवल I
 B. I तथा II दोनों
 C. ना ही I ना ही II
 D. केवल II

Question ID : 1034354767

Q.3 जन्म के समय कम भार वाले बच्चे के लिए निम्नलिखित में से कौन से कारक जिम्मेदार हैं?

- I. खराब पोषण, अपर्याप्त प्रसवपूर्व देखभाल, धूम्रपान, तनाव के संपर्क में आना।
- II. अच्छे सामाजिक आर्थिक कारक, जैसे शिक्षित परिवार।
- III. गर्भावस्था से पहले के चिकित्सीय कारक, जैसे कि कोई बच्चा न होना या चार से अधिक होना।

- Ans
- A. I, II तथा III
 - B. I तथा II
 - C. II तथा III
 - D. I तथा III

Question ID : 1034354764

Q.4 स्वभावगत प्रतिरूप के संदर्भ में, निम्नलिखित में से कौन सा युग्म सही ढंग से सुमेलित नहीं है?

- I. इजी चिल्ड्रन- चिड़चिड़े स्वभाव , अनियमित जैविक लय और तीव्र संवेगनात्मक प्रतिक्रिया वाले बच्चे।
- II. डिफिकल्ट चिल्ड्रन - आमतौर पर खुश स्वभाव, नियमित जैविक लय और नए अनुभवों को स्वीकार करने की तत्परता वाले बच्चे।

- Ans
- A. ना ही I ना ही II
 - B. केवल I
 - C. केवल II
 - D. I तथा II दोनों

Question ID : 1034354777

Q.5 सकल मोटर कौशल के अनुसार एक बच्चा किस आयु में 28 से 36 इंच की दौड़ते हुए छलांग लगा सकता है?

- Ans
- A. 3 वर्ष
 - B. 5 वर्ष
 - C. 4 वर्ष
 - D. 2 वर्ष

Question ID : 1034354760

Q.6 शिशु मृत्यु दर क्या है?

- I. जीवित पैदा हुए बच्चों का अनुपात जिनकी पहले वर्ष के भीतर मृत्यु हो जाती है।
- II. एक वर्ष के दौरान वरिष्ठ नागरिकों की मृत्यु की कुल संख्या।

- Ans
- A. ना ही I ना ही II
 - B. केवल II
 - C. केवल I
 - D. I तथा II दोनों

Question ID : 1034354762

Q.7 संवेदी गत्यात्मक अवस्था का निम्नलिखित में से कौन सा विकास सही ढंग से सुमेलित है?

- I. वस्तु स्थायित्व - प्रतीकों के उपयोग पर निर्भर करता है, जो छठी उपअवस्था (18 - 24 महीने) में शुरू होता है
- II. वर्गीकरण - प्रतिनिधित्वात्मक चिंतन पर निर्भर करता है, जो छठी उपअवस्था (18 - 24 महीने) के दौरान विकसित होता है

- Ans
- A. ना ही I ना ही II
 - B. I तथा II दोनों
 - C. केवल I
 - D. केवल II

Question ID : 1034354768

Q.8 लगाव के सन्दर्भ में, विचित्र स्थिति क्या है?

- Ans A. नृत्य तकनीक
 B. अधिगम तकनीक
 C. राजनीतिक तकनीक
 D. प्रयोगशाला तकनीक

Question ID : 1034354774

Q.9 _____ अधिगम का एक प्रकार है जिसमें उत्तेजना से परिचित होना प्रतिक्रिया को कम करता है, धीमा करता है या रोकता है।

- Ans A. प्रयोग
 B. परिमेयकरण
 C. क्षतिपूरण
 D. आदी होना

Question ID : 1034354769

Q.10 _____ परिवारों को छोटे बच्चों की विकास संबंधी जरूरतों को पूरा करने में मदद करने के लिए सेवाएं प्रदान करने की व्यवस्थित प्रक्रिया है।

- Ans A. परिवार प्रणाली हस्तक्षेप
 B. सरल हस्तक्षेप
 C. संकट हस्तक्षेप
 D. प्रारंभिक हस्तक्षेप

Question ID : 1034354766

Q.11 कौन सी स्मृति एक परिचित दृश्य स्थल को अपरिचित वालो से अलग करने की क्षमता है जब दोनों एक ही समय में दिखाए जाते हैं?

- Ans A. आत्मकथात्मक स्मृति
 B. क्रियाशील स्मृति
 C. प्रतिध्वनिक स्मृति
 D. दृश्य अभिज्ञान स्मृति

Question ID : 1034354770

Q.12 संज्ञानात्मक विकास के सन्दर्भ में, निम्नलिखित में से कौन सा क्षैतिज डीकैलेज का वर्णन करता है?

I. यह एक प्रकार के संरक्षण के बारे में अधिगम को दूसरे प्रकार में स्थानांतरित करने में असमर्थता के लिए पियाजे का एक शब्द है।

II. एक बच्चे को अलग-अलग आयु में विभिन्न प्रकार के संरक्षण कार्यों में महारत हासिल करने का कारण बनता है।

- Ans A. I तथा II दोनों
 B. ना ही I ना ही II
 C. केवल I
 D. केवल II

Question ID : 1034354765

Q.13 शिशु विकास के सन्दर्भ में तथा दुष्चिन्ता के प्रकारों के संदर्भ में, निम्नलिखित में से कौन सा कथन सही है?
I. विचित्र दुष्चिन्ता विचित्र लोगों और स्थानों की सतर्कता है, जो कुछ शिशुओं द्वारा पहले वर्ष की दूसरी छमाही के दौरान दर्शायी जाती है।
II. वियोगज दुष्चिन्ता एक शिशु द्वारा दिखाया गया संकट है जब एक परिचित देखभाल करने वाला चला जाता है।

- Ans
- A. केवल I
 - B. ना ही I ना ही II
 - C. I तथा II दोनों
 - D. केवल II

Question ID : 1034354775

Q.14 मेकोनियम के बारे में निम्नलिखित में से कौन सा सही है?
I. यह भ्रूण अपशिष्ट पदार्थ है।
II. यह जन्म के बाद पहले कुछ दिनों के दौरान उत्सर्जित होता है।

- Ans
- A. I तथा II दोनों
 - B. केवल II
 - C. केवल I
 - D. ना ही I ना ही II

Question ID : 1034354758

Q.15 पियाजे के उपागम में, मूर्त संक्रिया क्या है?
I. यह पियाजे के संज्ञानात्मक विकास की तीसरी अवस्था है।
II. इस दौरान, बच्चों में तार्किक सोच विकसित होती है लेकिन अमूर्त सोच नहीं।

- Ans
- A. केवल I
 - B. केवल II
 - C. I तथा II दोनों
 - D. ना ही I ना ही II

Question ID : 1034354771

Q.16 _____ मस्तिष्क के प्रत्येक गोलार्ध में विशेष कार्य करने की प्रवृत्ति है।

- Ans
- A. पार्श्वीकरण
 - B. सर्कुलराइजेशन
 - C. तुल्यकालन
 - D. अनुकूलन

Question ID : 1034354759

Q.17 अन्योन्य नियमन के सन्दर्भ में, स्टिल-फेस पैराडीगम क्या है?
I. यह 2 से 9 महीने के शिशुओं में अन्योन्य नियमन को मापने के लिए उपयोग किये जाने वाली एक शोध पद्धति है।
II. यह एक सामान्य आमने-सामने की अन्योन्यक्रिया का अनुसरण करता है।

- Ans
- A. केवल II
 - B. I तथा II दोनों
 - C. केवल I
 - D. ना ही I ना ही II

Question ID : 1034354773

Q.18 बचपन में शारीरिक विकास के संदर्भ में, मोटापा क्या है?

I. आयु, लिंग, ऊंचाई और बॉडी मास इंडेक्स के संबंध में अत्यधिक अधिक भार।

II. इसे बचपन में एक ही आयु और लिंग के बच्चों के लिए वृद्धि वक्र के 95 वें प्रतिशत पर या उससे ऊपर बॉडी मास इंडेक्स होने के रूप में परिभाषित किया गया है।

- Ans
- A. केवल II
 - B. ना ही I ना ही II
 - C. I तथा II दोनों
 - D. केवल I

Question ID : 1034354763

Q.19 विलियम जेम्स की स्वयं की समझ(सेंस ऑफ़ सेल्फ) के अनुसार, निम्नलिखित में से कौन से युग्म सही ढंग से सुमेलित है?

I. आई सेल्फ- एक व्यक्ति अपने बारे में वस्तुनिष्ठ रूप से क्या जानता है।

II. मी सेल्फ - व्यक्तिपरक इकाई जो अपने बारे में जानना चाहती है।

- Ans
- A. I तथा II दोनों
 - B. केवल I
 - C. ना ही I ना ही II
 - D. केवल II

Question ID : 1034354776

Q.20 किस प्रकार के लगाव में एक शिशु प्राथमिक देखभाल करने वाले के जाने से पहले चिंतित हो जाते हैं और जब वह बाहर जाता है तो बहुत परेशान हो जाते हैं और उसके लौटने पर संपर्क की तलाश और विरोध दोनों करते हैं?

- Ans
- A. सुरक्षित लगाव
 - B. उभयभावी लगाव
 - C. अव्यवस्थित-विचलित लगाव
 - D. परिहार लगाव

Question ID : 1034354772

Section : Discipline2

Q.1 लैंगिक भेदभाव के संदर्भ में, भौतिकवादी सिद्धांत क्या है?

- Ans
- A. यह सिद्धांत विकासवादी जीव विज्ञान के अध्ययन की एक महत्वपूर्ण शाखा है।
 - B. ये इलेक्ट्रॉनिक संचार और कंप्यूटर विज्ञान से युक्त परिवर्तनवादी विकास हैं।
 - C. ये लैंगिक असमानता की व्याख्या करने के लिए महिलाओं और पुरुषों की स्थिति पर अंतः सांस्कृतिक डेटा का उपयोग करते हैं।
 - D. इनमें मानव मन की इच्छा और मानव इतिहास के पाठ्यक्रम के बारे में तथ्य शामिल होते हैं।

Question ID : 1034354787

Q.2 नि: शुल्क और अनिवार्य बाल शिक्षा का अधिकार अधिनियम, 2009 के अंतर्गत स्कूल प्रबंधन समिति के बारे में निम्नलिखित में से कौन सा कथन सही है?

- I. स्कूल के कामकाज की निगरानी करना।
- II. स्कूल विकास योजना तैयार करना।
- III. शिक्षा निदेशालय द्वारा लिए गए किसी भी निर्णय में संशोधन करना।

- Ans
- A. केवल I
 - B. II तथा III
 - C. I तथा II
 - D. I तथा III

Question ID : 1034354784

Q.3 कौन अधिगम विकलांग था और 20वीं सदी का सबसे महान दिमाग बन गया था?

- Ans
- A. मेरी कुरिए
 - B. माइकल फेराडे
 - C. अल्बर्ट आइंस्टीन
 - D. चार्ल्स डार्विन

Question ID : 1034354788

Q.4 कौन सा अधिगम उपागम शिक्षार्थी को रट कर याद करने से दूर रखता है?

- I. विषय-केंद्रित उपागम
- II. योग्यता आधारित उपागम

- Ans
- A. केवल I
 - B. केवल II
 - C. I तथा II दोनों
 - D. ना ही I ना ही II

Question ID : 1034354793

Q.5 निम्नलिखित में से कौन सा अधिगम विकलांगता का कारण है?

- I. अधिगम विकलांगता अक्सर परिवार में चलती है।
- II. जन्म के बाद दुर्घटना।
- III. गर्भावस्था और जन्म के दौरान समस्याएं।

- Ans
- A. II तथा III
 - B. I, II तथा III
 - C. I तथा II
 - D. I तथा III

Question ID : 1034354791

Q.6 भारत के अनुसूचित जाति और अनुसूचित जनजाति अधिनियम के बारे में निम्नलिखित में से कौन सा कथन सही नहीं है?

I. इसे 1990 में पारित किया गया था।

II. दलितों और अन्य लोगों द्वारा की गई मांगों के जवाब में यह तैयार किया गया था कि सरकार को दलितों और आदिवासी समूहों के साथ प्रतिदिन हो रहे दुर्व्यवहार और अपमान को गंभीरता से लेना चाहिए।

III. यह दलित और आदिवासी महिलाओं के खिलाफ अपराधों को मान्यता देता है।

- Ans
- A. I तथा II
 - B. II तथा III
 - C. I तथा III
 - D. केवल I

Question ID : 1034354785

Q.7 जेंडर विकास के संदर्भ में, जेंडर-स्कीमा सिद्धांत क्या है?

I. सिद्धांत सैंड्रा बेम द्वारा प्रस्तावित किया गया है।

II. इस सिद्धांत में बच्चे सूचना के मानसिक रूप से संगठित नेटवर्क को विकसित करके अपनी लैंगिक भूमिकाओं में स्वयं को सामाजिक बना लेते हैं।

- Ans
- A. I तथा II दोनों
 - B. केवल I
 - C. केवल II
 - D. ना ही I ना ही II

Question ID : 1034354779

Q.8 एक शिक्षक सभी छात्रों को फूल के विभिन्न भागों को समझने के लिए हिबिसकस सहित कुछ फूल लेकर आने के लिए कहता है। इस प्रकार की शिक्षण अधिगम सामग्री _____ की श्रेणी में आती है।

I. वास्तविक वस्तु शिक्षण अधिगम सामग्री

II. तैयार शिक्षण अधिगम सामग्री

- Ans
- A. केवल I
 - B. ना ही I ना ही II
 - C. I तथा II दोनों
 - D. केवल II

Question ID : 1034354795

Q.9 समावेशी शिक्षा को लागू करने के उपाय क्या हैं?

I. एक स्कूल-आधारित सहायता टीम को विशेष शैक्षिक आवश्यकताओं वाले शिक्षार्थियों की जरूरतों को पूरा करने के लिए सम्पूर्ण स्कूल के लिए रणनीति विकसित करनी चाहिए।

II. विशेष बच्चों को मुख्यधारा में लाने के लिए समायोजन करने की आवश्यकता होती है जो स्कूलों को पहले से ही पूरी करनी होती है।

- Ans
- A. केवल I
 - B. I तथा II दोनों
 - C. केवल II
 - D. ना ही I ना ही II

Question ID : 1034354789

Q.10 भारतीय संविधान का अनुच्छेद 15 _____ के आधार पर भेदभाव को रोकता है।

I. जन्म स्थान

II. धर्म

- Ans A. I तथा II दोनों
 B. केवल II
 C. केवल I
 D. ना ही I ना ही II

Question ID : 1034354780

Q.11 खोज/जांच पद्धति के माध्यम से अधिगम किस सिद्धांत पर आधारित नहीं है?

- Ans A. विकल्प खोजने का सिद्धांत
 B. तार्किक चिंतन का सिद्धांत
 C. अज्ञात से ज्ञात की ओर बढ़ने का सिद्धांत
 D. क्रियाकलापों का सिद्धांत

Question ID : 1034354792

Q.12 एक ग्राम पंचायत में _____ नहीं होता है।

- Ans A. सचिव
 B. पंचायत अध्यक्ष
 C. प्रखंड अधिकारी
 D. वार्ड सदस्य

Question ID : 1034354782

Q.13 "समावेशन एक अवधारणा और मूल्य के रूप में अब कई अर्थों के साथ जटिल के रूप में मान्यता प्राप्त है" किसने कहा है?

- Ans A. नॉर्विच
 B. जैकब
 C. कूपर
 D. आर्मस्ट्रॉंग

Question ID : 1034354790

Q.14 स्वायत्तता के संदर्भ में स्वायत्तता बनाम शर्म और संदेह क्या है?

I. यह मनोसामाजिक विकास में एरिकसन की पहली अवस्था है।

II. इसमें बच्चे स्व-प्रतिज्ञा और दूसरों द्वारा नियंत्रण के बीच संतुलन हासिल करते हैं।

- Ans A. केवल II
 B. केवल I
 C. I तथा II दोनों
 D. ना ही I ना ही II

Question ID : 1034354778

Q.15 आप अपनी कक्षा के लिए एक छात्र नेता का चयन करना चाहते हैं। आप एक शिक्षक के रूप में सोच सकते हैं कि एक लड़के को कक्षा नेता के रूप में रखना बेहतर है, और एक लड़की के बजाय एक लड़के का चयन करते हैं। यह कथन किस प्रकार के भेदभाव का निरूपण करता है?

- I. अप्रत्यक्ष भेदभाव
- II. प्रत्यक्ष भेदभाव

- Ans
- A. ना ही I ना ही II
 - B. I तथा II दोनों
 - C. केवल II
 - D. केवल I

Question ID : 1034354786

Q.16 व्यक्ति विकास के पहलू- पाठ्य - सहगामी क्रियाओ के उदाहरण' निम्नलिखित में से कौन सा युग्म सही है?

- I. दृष्टिकोण का विकास - एक्वेरियम का दौरा
- II. सामाजिक विकास - प्रातः कालीन सभा
- III. नागरिकता का विकास - विद्यालय में सहकारी स्टोर का संचालन

- Ans
- A. I, II तथा III
 - B. केवल III
 - C. II तथा III
 - D. I तथा II

Question ID : 1034354797

Q.17 _____ चूहों और कबूतरों के साथ बी.एफ. स्किनर द्वारा विस्तृत रूप से डिजाइन किए गए प्रयोगों की एक श्रृंखला का परिणाम है।

- I. संक्रिया अनुकूलन
- II. शास्त्रीय अनुकूलन

- Ans
- A. केवल II
 - B. ना ही I ना ही II
 - C. I तथा II दोनों
 - D. केवल I

Question ID : 1034354794

Q.18 मोनो- ग्रेड शिक्षण की _____ के अलावा सभी दी गई विशेषताएँ सही हैं।

- Ans
- A. प्रत्येक ग्रेड के लिए एक कक्षा
 - B. सहयोग और अन्योन्यक्रिया
 - C. अनुभव साझा करना सीमित होता है
 - D. कई कक्षाओं के लिए एक शिक्षक

Question ID : 1034354796

Q.19 लोकतंत्र आने से पहले नेपाल का अंतिम राजा कौन था?

- Ans
- A. राजा जय चंद्र
 - B. राजा पद्मा
 - C. राजा ग्यात्सो
 - D. राजा ज्ञानेंद्र

Question ID : 1034354781

Q.20 संघ - संस्थापक वर्ष का निम्नलिखित में से कौन सा युग्म सही है?

I. बंगाल ब्रिटिश इंडियन सोसाइटी - 1890

II. पूना सार्वजनिक सभा- 1830

- Ans A. केवल II
 B. केवल I
 C. ना ही I ना ही II
 D. I तथा II दोनों

Question ID : 1034354783

Section : Discipline3

Q.1 ज्ञान की किन अन्य शाखाओं से गणित सम्बंधित है?

I. साहित्य

II. भूगोल

III. विज्ञान

- Ans A. I तथा II
 B. केवल I
 C. II तथा III
 D. I, II तथा III

Question ID : 1034354814

Q.2 निम्नलिखित में से कौन-सी गणित में शिक्षार्थी के आकलन की तकनीकें हैं?

I. परियोजना

II. पोर्टफोलियो

III. प्रदर्शनी में भागीदारी

- Ans A. केवल I
 B. II तथा III
 C. I तथा II
 D. I, II तथा III

Question ID : 1034354815

Q.3 घर के रूप में स्कूल की _____ अवधारणा का एक स्पष्ट निहितार्थ यह है कि स्कूल के निवासी एक परिवार का गठन करते हैं।

- Ans A. एना जूलिया हेवुड कूपर
 B. मारिया मोंटेसरी
 C. महात्मा गांधी
 D. रविंद्रनाथ टैगोर

Question ID : 1034354799

Q.4 वस्तुनिष्ठ गणित अधिगम और उसके व्यवहार संबंधी विशिष्टताओं का निम्नलिखित में से कौन सा संयोजन सही नहीं है?

- Ans
- A. अनुप्रयोग - भविष्यवाणियां करता है और उनका सत्यापन करता है
 - B. ज्ञान - तथ्यों, संबंधों, परिभाषाओं और सूत्रों को मान्यता देता है
 - C. बोध - किसी दिए गए डेटा को आरेखीय रूप से निरूपित करता है
 - D. कौशल - ज्यामितीय उपकरण का सही ढंग से उपयोग करता है

Question ID : 1034354817

Q.5 स्वर विज्ञान के संदर्भ में, निम्नलिखित में से कौन सा कथन सही है?
I. kh, gh, ch, jh जैसी ध्वनियाँ अंग्रेजी में उपलब्ध नहीं हैं।
II. th, dh, bh जैसी ध्वनियाँ अंग्रेजी में उपलब्ध हैं।

- Ans
- A. केवल II
 - B. ना ही I ना ही II
 - C. केवल I
 - D. I तथा II दोनों

Question ID : 1034354813

Q.6 सूचना संचार प्रौद्योगिकी (आईसीटी) के संदर्भ में आईसीएआरइ मॉडल का पूर्ण रूप क्या है?

- Ans
- A. इन्वर्ट; कॉपी; एक्टिविटी; रिफ्लेक्ट और एक्सटेंड
 - B. इनवर्स; कनेक्ट; एक्टिविटी; रिफरेक्ट और एक्सपेंड
 - C. इनपुट; कनेक्ट; एक्टिविटी; रिफ्लेक्ट और एक्सपेंड
 - D. इंट्रोडक्शन; कनेक्ट; एक्टिविटी; रिफ्लेक्ट और एक्सटेंड

Question ID : 1034354802

Q.7 गणित में क्या आकलन किया जाना चाहिए?

- I. गणित की और रुझान।
- II. गणितीय तर्क शक्ति।
- III. गणितीय वार्तालाप।

- Ans
- A. केवल II
 - B. II तथा III
 - C. I, II तथा III
 - D. केवल III

Question ID : 1034354816

Q.8 निम्नलिखित में से कौन सी व्यवहार रूपांतरण उपागम की उपयुक्तता है?
I. पुनर्बलन के बिना अभ्यास अधिगम को नहीं बढ़ाता है।
II. अवांछित व्यवहार को समाप्त करने के लिए सजा प्रभावी नहीं होती है।

- Ans
- A. ना ही I ना ही II
 - B. केवल I
 - C. केवल II
 - D. I तथा II दोनों

Question ID : 1034354804

Q.9 भाषा व्याकरण के संदर्भ में निम्नलिखित में से कौन सा कथन सही है?

- I. हिंदी में क्रिया को वाक्य के अंत में रखा जाता है।
II. अंग्रेजी में क्रिया को वाक्य के बीच में रखा जाता है।

- Ans A. ना ही I ना ही II
 B. केवल I
 C. केवल II
 D. I तथा II दोनों

Question ID : 1034354811

Q.10 _____ पाठ, चित्र और ध्वनि के रूप में लोगों के समूह के बीच एक साथ बातचीत है।

- Ans A. संचार उपकरण
 B. सूचना उपकरण
 C. निर्माणात्मक उपकरण
 D. सिचुएटिंग उपकरण

Question ID : 1034354800

Q.11 एक शिक्षक बच्चों को अंग्रेजी के अधिगम में कैसे मदद कर सकता है?

- I. वे जो कहना चाह रहे हैं उसके अर्थ पर प्रतिक्रिया दें।
II. उन्हें यह दिखाकर प्रोत्साहित करें कि वे जो कह रहे हैं वह आपके सुधार से अधिक महत्वपूर्ण है।

- Ans A. केवल I
 B. ना ही I ना ही II
 C. केवल II
 D. I तथा II दोनों

Question ID : 1034354809

Q.12 _____ पियाजे के संज्ञानात्मक विकास की पहली अवस्था है।

- Ans A. स्थूल संक्रिया
 B. औपचारिक संक्रिया
 C. पूर्व- संक्रिया
 D. संवेदी गत्यात्मक

Question ID : 1034354803

Q.13 _____ यह पता लगाने में मदद करता है कि मस्तिष्क का कौन सा गोलार्ध भाषण को नियंत्रित करता है।

- Ans A. ब्लैक बॉक्स परीक्षण
 B. अभिगम्यता परीक्षण
 C. डाइकोटिक लिसनिंग परीक्षण
 D. एकीकरण परीक्षण

Question ID : 1034354807

Q.14 वाक्यांश 'डू द नीडफुल' किस प्रकार की अंग्रेजी भाषा का हिस्सा है?

- Ans A. भारतीय अंग्रेजी
 B. ऑस्ट्रेलियाई अंग्रेजी
 C. अमेरिकी अंग्रेजी
 D. सिंगापुरी अंग्रेजी

Question ID : 1034354812

Q.15 शिक्षार्थी - केन्द्रित उपागम में शिक्षक की क्या भूमिका है?

- I. शिक्षक को कक्षा के अंदर और बाहर शिक्षार्थियों के व्यवहार और गतिविधियों को देखना चाहिए।
II. शिक्षक को शिक्षार्थियों, जब वे अधिगम में लगे हुए हों, की मदद करने के लिए हमेशा अवसरों की तलाश करनी चाहिए।

- Ans A. केवल I
 B. केवल II
 C. ना ही I ना ही II
 D. I तथा II दोनों

Question ID : 1034354806

Q.16 अधिगम प्रक्रिया के संदर्भ में निम्नलिखित में से कौन सा युग्म सही ढंग से सुमेलित है?

- I. व्यक्तिगत अधिगम - समूह कार्य रणनीति
II. समूह अधिगम और शिक्षण - व्यक्तिगत अधिगम में क्रियाकलाप

- Ans A. केवल I
 B. केवल II
 C. I तथा II दोनों
 D. ना ही I ना ही II

Question ID : 1034354801

Q.17 वीमर के अनुसार, अधिगम केन्द्रित शिक्षण को प्राप्त करने के लिए निम्नलिखित में से कौन सी प्रथाओं को बदलने की आवश्यकता है?

- I. सामग्री के कार्य।
II. शिक्षक की भूमिका।
III. मूल्यांकन की प्रक्रिया और उद्देश्य।

- Ans A. I, II तथा III
 B. II तथा III
 C. I तथा II
 D. केवल I

Question ID : 1034354798

Q.18 कबीर, दादू और रैदास कवि किस साहित्य से संबंधित हैं?

- Ans A. सूफी साहित्य
 B. अवधी साहित्य
 C. भोजपुरी साहित्य
 D. ब्रज साहित्य

Question ID : 1034354810

Q.19 वायगोत्स्की के अनुसार, भाषा विकसित करने में निम्नलिखित में से कौन सी अवस्था उससे सम्बंधित आयु से सही ढंग से सुमेलित है?

- I. सामाजिक भाषण - 3 या 4 वर्ष से पहले
- II. आंतरिक भाषण - 3-7 वर्ष
- III. अहंकारी भाषण - 7 वर्ष से अधिक

Ans A. I तथा III

B. केवल I

C. II तथा III

D. केवल III

Question ID : 1034354805

Q.20 सुनना और बनाना बच्चों को अधिक रचनात्मक प्रक्रिया में क्यों शामिल करता है?

- I. बच्चों को निर्णय लेने होते हैं।
- II. सोचने और टिप्पणी करने के लिए अधिक समय होता है।

Ans A. केवल I

B. ना ही I ना ही II

C. केवल II

D. I तथा II दोनों

Question ID : 1034354808

Section : Discipline4

Q.1 सिद्धांतवादी बाकन के अनुसार, किशोरावस्था पूरी तरह से एक _____ है।

Ans A. राजनीतिक घटना

B. सामाजिक घटना

C. दार्शनिक घटना

D. सांस्कृतिक घटना

Question ID : 1034354837

Q.2 "विभिन्न टीम सदस्यों को कंकड़, गिरे हुए पत्ते, रबर से बनी हुई वस्तुएँ आदि जैसी विभिन्न वस्तुओं को इकट्ठा करने की जिम्मेदारी दी जा सकती है, लेकिन फिर संग्रह को क्रम में रखने के लिए पूरे समूह को जिम्मेदार होना चाहिए।" यह कथन पर्यावरण अध्ययन में सहकारी अधिगम के किस सिद्धांत का प्रतिनिधित्व करता है?

- I. समान अवस्थिति अन्योन्यक्रिया।
- II. सकारात्मक अन्योन्याश्रयता।
- III. व्यक्तिगत जवाबदेही।

Ans A. केवल I

B. केवल II

C. केवल III

D. ना ही I ना ही II ना ही III

Question ID : 1034354821

Q.3 योग सिद्धांत के अनुसार, इसका अंतिम लक्ष्य क्या है?

- I. हमारे छिपे हुए गुणों को प्रकट करना।
- II. हमारे निष्क्रिय संकार्यों को जागृत करना।

- Ans
- A. ना ही I ना ही II
 - B. केवल I
 - C. केवल II
 - D. I तथा II दोनों

Question ID : 1034354833

Q.4 विद्यालय के बगीचों के सन्दर्भ में निम्नलिखित में से कौन सा कथन सही है?

- I. बादल, बारिश और सूर्य, मौसमी चक्र, मिट्टी और उसके असंख्य जीव, कीड़े, पक्षी, सरीसृप जो बगीचे में आते हैं वे जगह के बारे में सिखाते हैं।
- II. विद्यालय के बगीचे बच्चों को अमानवीय जीवन चक्र और विकास एवं क्षय, जीवित मिट्टी प्रणाली आदि जैसी प्रणालियों के साथ प्रत्यक्ष अनुभव प्रदान कर सकते हैं।

- Ans
- A. केवल II
 - B. I तथा II दोनों
 - C. केवल I
 - D. ना ही I ना ही II

Question ID : 1034354832

Q.5 सामाजिक विज्ञान के विषय राष्ट्रीय एकता को कैसे मजबूत करते हैं?

- I. राष्ट्रीय इतिहास और राष्ट्रीय भूगोल के शिक्षण से देश के बारे में एक गहरी समझ विकसित होगी।
- II. यह शिक्षार्थियों को एकता के महत्व के प्रति संवेदनशील बना सकता है।

- Ans
- A. ना ही I ना ही II
 - B. केवल I
 - C. केवल II
 - D. I तथा II दोनों

Question ID : 1034354826

Q.6 छात्रों को बाहर जाने दें और विभिन्न पक्षियों का अवलोकन करने दें और एक पक्षी की विभिन्न बुनियादी विशेषताओं की पहचान करने दें। एक पक्षी की वे बुनियादी विशेषताएं क्या हैं?

- I. रंग
- II. आंखें
- III. गर्दन
- IV. चोंच

- Ans
- A. I, II, III तथा IV
 - B. I, II तथा III
 - C. II, III तथा IV
 - D. II तथा IV

Question ID : 1034354819

Q.7 सामाजिक विज्ञान के पाठ्यक्रम को किन शक्तियों ने प्रभावित किया?

- I. विचार और विचारधारा
- II. आंदोलन और क्रांति

- Ans
- A. केवल I
 - B. ना ही I ना ही II
 - C. I तथा II दोनों
 - D. केवल II

Question ID : 1034354824

Q.8 यौवन की शुरुआत और प्रगति कई कारकों से प्रभावित होती है। निम्नलिखित में से कौन-सा वह कारक नहीं है?

- Ans
- A. खुशहाल जीवन घटनाएं
 - B. पोषण और आहार
 - C. स्थायी बीमारी की उपस्थिति
 - D. सामाजिक - आर्थिक अवस्थिति

Question ID : 1034354836

Q.9 निम्नलिखित में से कौन सा संयोजन सही है?

- I. परिमेय संख्या की परिभाषा क्या है? - ज्ञान आधारित वस्तुनिष्ठ प्रकार के प्रश्न
- II. एक त्रिभुज के गुण का उसके कोणों के माप के योग के सन्दर्भ में उपयोग करते हुए, एक चतुर्भुज के कोणों के मापों का योग ज्ञात कीजिए। - अनुप्रयोग आधारित प्रश्न

- Ans
- A. ना ही I ना ही II
 - B. I तथा II दोनों
 - C. केवल II
 - D. केवल I

Question ID : 1034354818

Q.10 भरतनाट्यम के संदर्भ में निम्नलिखित में से कौन सा कथन सही है?

- I. भरतनाट्यम में कुल 108 करण हैं।
- II. भरतनाट्यम का मानकीकृत संस्करण चिन्नय्या, पोन्नय्या, वाडिवेलु और शिवानंदम द्वारा विकसित किया गया था।

- Ans
- A. ना ही I ना ही II
 - B. केवल I
 - C. I तथा II दोनों
 - D. केवल II

Question ID : 1034354829

Q.11 टीम खेलों और प्रतिस्पर्धी खेलों के माध्यम से छात्रों के व्यक्तित्व में क्या विकसित होता है?

- I. सामाजिकता।
- II. टीम भावना।
- III. आत्म-बलिदान का साहस।

- Ans
- A. I, II तथा III
 - B. केवल III
 - C. I तथा II
 - D. II तथा III

Question ID : 1034354831

Q.12 भारतीय संविधान के किस मूल अधिकार का सीधा संबंध बच्चों से है?

- Ans A. अनुच्छेद 18
 B. अनुच्छेद 14
 C. अनुच्छेद 24
 D. अनुच्छेद 27

Question ID : 1034354834

Q.13 एक शिक्षक 'मानव-निर्मित और प्राकृतिक चीजें, सजीव और निर्जीव चीजें (हमारे आसपास की चीजें)' विषय पर पाठ दे रहा था। इस विषय से संबंधित अधिगम उद्देश्य क्या होंगे?

- I. छात्र मानव निर्मित और प्राकृतिक चीजों को परिभाषित करने और उनके उदाहरण देने में सक्षम होंगे।
II. छात्र सजीव और निर्जीव चीजों में अंतर करेंगे।
III. छात्र सजीव और निर्जीव चीजों के अभिलक्षण बता पा सकते हैं।

- Ans A. II तथा III
 B. I तथा II
 C. केवल III
 D. I, II तथा III

Question ID : 1034354822

Q.14 'योग अभ्यास गति, प्रबलता, सहनशक्ति और लचीलापन प्रदान करता है।' यह दिया गया कथन निम्नलिखित में से किसका प्रतिनिधित्व करता है?

- Ans A. योगाभ्यास के माध्यम से मानसिक विकास
 B. योगाभ्यास के माध्यम से संवेगनात्मक विकास
 C. योगाभ्यास के माध्यम से आध्यात्मिक विकास
 D. योगाभ्यास के माध्यम से शारीरिक विकास

Question ID : 1034354830

Q.15 भारतीय संगीत के सन्दर्भ में निम्नलिखित में से कौन-सा युग्म सही ढंग से सुमेलित है?

- I. श्रुति - श्रव्य ध्वनि
II. सप्तक - सात स्वरों का समूह

- Ans A. I तथा II दोनों
 B. केवल I
 C. ना ही I ना ही II
 D. केवल II

Question ID : 1034354828

Q.16 बाल श्रम अधिनियम, 1986 _____ वर्ष से कम आयु के बच्चों को जोखिम वाले या खतरनाक व्यवसाय में नियोजित करने पर रोक लगाता है।

- Ans A. 17 वर्ष
 B. 14 वर्ष
 C. 15 वर्ष
 D. 16 वर्ष

Question ID : 1034354835

Q.17 भारत का पहला व्यापक इतिहास लिखने का श्रेय किसे दिया जाता है?

- Ans A. विलियम जोन्स
 B. जेम्स मिल
 C. चार्ल्स मेसन
 D. एच.जी. वेल्स

Question ID : 1034354825

Q.18 पट्टाचित्र लोक किस प्रकार की कला का उदाहरण है?

- Ans A. अमूर्त कला
 B. मूर्तिकला कला
 C. दृश्य कला
 D. भित्ति चित्र

Question ID : 1034354827

Q.19 पर्यावरण अध्ययन में, निम्नलिखित में से कौन सा क्रियाकलाप अवस्था की परियोजना पद्धति का एक चरण नहीं है?

- Ans A. अनुभव-दस्तावेजीकरण अधिगम पर विचार करना
 B. कार्रवाई के क्षेत्र / इलाकों, लक्ष्य समूह की पहचान, उपकरण का प्रशासन, डेटा संग्रह के लिए निर्देश
 C. परियोजना के लिए स्रोतों और उपकरणों की पहचान करना
 D. विभिन्न क्रियाकलाप और कार्य सही क्रम में निष्पादित करना

Question ID : 1034354823

Q.20 पर्यावरण अध्ययन, किन उपकरणों का अवलोकन के लिए उपयोग किया जाता है?

- I. चेकलिस्ट
II. रेटिंग स्केल
III. स्कोर कार्ड
IV. कार्यपत्रक

- Ans A. केवल IV
 B. I, II, III तथा IV
 C. I तथा IV
 D. II, III तथा IV

Question ID : 1034354820

Section : Discipline5

Q.1 निम्नलिखित में से कौन से युग्म कार्य के सन्दर्भ में सही ढंग से सुमेलित है?

- I. मानसिक कार्य – दिमाग अधिक सक्रिय होता है
II. शारीरिक कार्य - अंग अधिक सक्रिय होते हैं

- Ans A. I तथा II दोनों
 B. केवल I
 C. ना ही I ना ही II
 D. केवल II

Question ID : 1034354848

Q.2 किशोर लड़कियों के सशक्तिकरण के लिए राजीव गांधी योजना - SABLA ने _____ से युक्त सेवाओं के पैकेज की पेशकश की है।

- I. पोषण और स्वास्थ्य शिक्षा।
- II. जीवन कौशल शिक्षा।
- III. सार्वजनिक सेवाओं तक पहुंच।

Ans A. I, II तथा III

B. I तथा II

C. केवल I

D. I तथा III

Question ID : 1034354839

Q.3 ग्राम शिक्षा समितियों (वीईसी) के संदर्भ में निम्नलिखित में से कौन सा कथन सही है?

- I. नामांकन, उपस्थिति, प्रतिधारण और अधिगम की वृद्धि की निगरानी।
- II. प्रतिबंधित आकस्मिक अवकाश स्वीकृत करना।
- III. यह स्टॉक रजिस्टर और रोकड़ बही का रखरखाव करता है।

Ans A. I तथा II

B. I तथा III

C. I, II तथा III

D. II तथा III

Question ID : 1034354856

Q.4 कोल्बर्ग के नैतिक तर्क के सिद्धांत में, अवस्था 5 नैतिकता निम्नलिखित में से किसे परिभाषित करती है?

- I. नैतिक रूप से क्या सही है वह व्यक्तिगत अधिकारों सहित समाज द्वारा सहमत मूल्यों से निर्धारित होता है।
- II. कानूनों को अब स्थिर नहीं बल्कि सापेक्ष के रूप में देखा जाता है।

Ans A. केवल II

B. I तथा II दोनों

C. ना ही I ना ही II

D. केवल I

Question ID : 1034354838

Q.5 उस नीति का नाम बताइए जिसने पहली बार सामाजिक उपयोगी उत्पादक कार्य (SUPW) की अवधारणा को स्वीकार किया।

Ans A. राष्ट्रीय शिक्षा नीति 1992

B. राष्ट्रीय शिक्षा नीति 1986

C. राष्ट्रीय शिक्षा नीति 2020

D. राष्ट्रीय शिक्षा नीति 2004

Question ID : 1034354850

Q.6 शिक्षा में सामुदायिक भागीदारी क्यों उपयोगी है?

- I. वित्तीय, मानव और भौतिक संसाधनों के संग्रहण को कम करने के लिए।
- II. सामुदायिक भागीदारी शिक्षक को सतर्क और प्रतिक्रियात्मक रखेगी।
- III. यह पहल को प्रोत्साहित करने के लिए एक महत्वपूर्ण साधन है।

- Ans
- A. I तथा II
 - B. I तथा III
 - C. II तथा III
 - D. I, II तथा III

Question ID : 1034354857

Q.7 कार्य शिक्षा से संबंधित गतिविधियाँ गणित के बारे में ज्ञान प्राप्त करने में किस प्रकार सहायक होती हैं?

- I. संख्या का ज्ञान और समझ।
- II. किसी वस्तु को बनाने के बाद उसकी कीमत की गणना करना।
- III. ब्याज, मूलधन राशि जैसी अवधारणा का परिचय।

- Ans
- A. I तथा II
 - B. केवल II
 - C. II तथा III
 - D. I, II तथा III

Question ID : 1034354847

Q.8 निम्नलिखित में से कौन सा कथन सही है?

- I. व्यक्तिगत ज्ञानोदय लोगों के बड़े समूह को प्रभावित करता है, लेकिन केवल तभी जब कोई परिणाम के लिए उत्सुक हो।
- II. यदि कोई लाभ और प्रभाव के संदर्भ में सोचता है, तो स्वयं का सही परिवर्तन संभव नहीं है।

- Ans
- A. केवल I
 - B. I तथा II दोनों
 - C. केवल II
 - D. ना ही I ना ही II

Question ID : 1034354854

Q.9 समूहन के क्या लाभ हैं?

- I. टीम भावना विकसित होती है
- II. अंतर्मुखी व्यवहार बढ़ता है
- III. सहयोग बढ़ता है

- Ans
- A. I तथा II
 - B. I, II तथा III
 - C. II तथा III
 - D. I तथा III

Question ID : 1034354851

Q.10 निम्नलिखित में से कौन सा युग्म सही ढंग से सुमेलित है?

- I. राइट्स ऑफ़ पैसेज : अमेरिका में किशोरावस्था, 1790 से वर्तमान तक - जोसफ़ केट
II. चिल्ड्रन ऑफ़ ग्रेट डिप्रेशन - ग्लेन एल्डर

- Ans A. केवल II
 B. I तथा II दोनों
 C. केवल I
 D. ना ही I ना ही II

Question ID : 1034354840

Q.11 एक सच्चा कलाकार _____ से परे होता है।

- I. स्वयं की वैनिटी
II. महत्वाकांक्षा

- Ans A. ना ही I ना ही II
 B. केवल I
 C. I तथा II दोनों
 D. केवल II

Question ID : 1034354852

Q.12 क्रांति के संदर्भ में, निम्नलिखित में से कौन सा कथन सही है?

- I. खुनी क्रांति कभी भी हमारी समस्याओं का समाधान नहीं कर सकती।
II. एक गहन आंतरिक क्रांति जो हमारे सभी मूल्यों को बदल देती है, एक अलग वातावरण बना सकती है।

- Ans A. केवल I
 B. I तथा II दोनों
 C. केवल II
 D. ना ही I ना ही II

Question ID : 1034354853

Q.13 एक व्यक्ति शारीरिक शिक्षा गतिविधियों में शामिल होने से विभिन्न विकास प्राप्त करता है। नीचे दिया गया कथन किस विकास के अभाव को दर्शाता है? 'एक बच्चा अपने साथियों की तुलना में कहीं बेहतर फुटबॉल खिलाड़ी हो सकता है, लेकिन जब तक वह कभी-कभी गेंद को पास करना नहीं सीखता, तब तक उसकी टीम शायद चैंपियन नहीं बन पाएगी।'

- Ans A. शारीरिक विकास
 B. मानसिक और संवेगनात्मक विकास
 C. आध्यात्मिक विकास
 D. सामाजिक विकास

Question ID : 1034354844

Q.14 स्कूलों में, प्रातः कालीन सभाएँ सह-शैक्षिक गतिविधियों जैसे की _____ के लिए गुंजाइश प्रदान करती हैं।

- I. सस्वर पाठ
- II. असाधारण भाषण
- III. प्रश्नोत्तरी का आयोजन

- Ans
- A. I तथा III
 - B. केवल I
 - C. केवल II
 - D. I, II तथा III

Question ID : 1034354842

Q.15 आर्थिक क्षेत्रों के संदर्भ में निम्नलिखित में से कौन सा कथन सही है?

- I. भारत में, अधिकांश लोग तृतीयक क्षेत्र से संबंधित हैं।
- II. कृषि तृतीयक क्षेत्र का एक उदाहरण है।

- Ans
- A. केवल II
 - B. I तथा II दोनों
 - C. ना ही I ना ही II
 - D. केवल I

Question ID : 1034354849

Q.16 निम्नलिखित में से कौन से फिटनेस के घटक हैं?

- I. सहनशक्ति
- II. प्रबलता
- III. गति
- IV. स्नायुपेशी समन्वय

- Ans
- A. III तथा IV
 - B. II तथा III
 - C. I, III तथा IV
 - D. I, II, III तथा IV

Question ID : 1034354841

Q.17 निम्नलिखित में से कौन सा युग्म सही ढंग से सुमेलित है?

- I. हम चाहते हैं कि हमारे छात्र ऐसे वयस्कों के रूप में विकसित हों जो जल्दी और निर्णायक रूप से प्रतिक्रिया करते हैं - भावात्मक क्षेत्र
- II. हम चाहते हैं कि हमारे छात्र स्पोर्ट्समैनशिप और टीम कार्य जैसे गुणों को प्रदर्शित करें - संज्ञानात्मक क्षेत्र

- Ans
- A. I तथा II दोनों
 - B. ना ही I ना ही II
 - C. केवल I
 - D. केवल II

Question ID : 1034354845

Q.18 पौष्टिक मध्याह्न भोजन के संभाव्य लाभ क्या हैं?

- I. कक्षा में भूख को रोकना
- II. सामाजिक समानता को बढ़ावा देना
- III. लिंग समता बढ़ाना

Ans A. I तथा II

B. I, II तथा III

C. II तथा III

D. केवल II

Question ID : 1034354843

Q.19 निःशुल्क और अनिवार्य बाल शिक्षा का अधिकार अधिनियम 2009 को लागू करने के लिए निम्नलिखित में से कौन सा एक उपकरण है?

Ans A. स्वच्छ भारत अभियान

B. सर्व शिक्षा अभियान

C. प्रधानमंत्री सुरक्षित मातृत्व अभियान

D. पोषण अभियान

Question ID : 1034354855

Q.20 वॉलीबॉल खेल में, _____ एक बिना रिटर्न वाली सर्व पर एक अंक होता है।

Ans A. ऐस

B. डिग

C. स्मैश

D. स्पाइक

Question ID : 1034354846